

Marika Toivola ja Tiina Härkönen

AVOIN MATEMATIIKKA 8 lk.

Osio 3: Tasogeometriaa

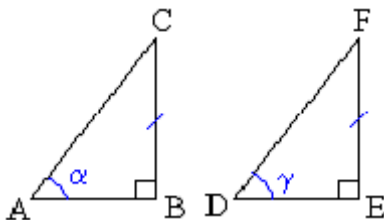
Sisältö on lisensoitu avoimella CC BY 3.0 -lisenssillä.

Osio 3: Tasogeometriaa

1.	Yhtenevät ja yhdenmuotoiset kuviot.....	3
2.	Mittakaava	10
3.	Kolmioiden yhdenmuotoisuus.....	15
4.	Kultainen leikkaus*	20
5.	Peilaus suoran suhteen.....	24
6.	Peilaus pisteen suhteen	28
7.	Kierto ja siirto tasossa	31
8.	Neliöjuuri	37
9.	Neliöjuurilaskuja	42
10.	Pythagoraan lause	49
11.	Pythagoraan lauseen sovelluksia	54
12.	Ympyrän kehän pituus ja pinta-ala.....	60
13.	Ympyrän sektorin kaaren pituus ja pinta-ala	67
14.	Ympyrän tangenttikulma	74
15.	Ympyrän kehä- ja keskuskulma	80
16.	Kertaustehtäviä	85

1. Yhtenevät ja yhdenmuotoiset kuviot

Kolmiot ABC ja DEF ovat keskenään *yhteneviä*, mikä voidaan merkitä seuraavasti: $ABC \cong DEF$. Symboli \sim tarkoittaa samaa muotoa ja $=$ samaa kokoa. Pällekkäin asetettuna yhtenevät kuviot siis peittävät täydellisesti toisensa.



Sivut BC ja EF ovat toistensa *vastinsivuja*. Kulmat α ja γ ovat puolestaan toistensa *vastinkulmia*. Yleisesti yhdenmuotoisten kuvioden vastaavia osia nimitetään toistensa *vastinosiksi*. Mitä muita vastinosia löydät?

Yhtenevien kuvioden kaikki vastinosat (sivut ja kulmat) ovat yhtä suuria.

Keskenään *yhdenmuotoisien* kuvioden voidaan ajatella syntyvän siten, että kerrotaan tai jaetaan kaikki vastinsivut jollakin samalla luvulla. Vastinkulmat pysyvät yhtä suurina. Yhdenmuotoisuuden merkki on \sim .

Yhdenmuotoisten kuvioden

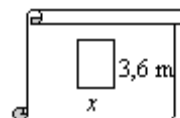
- geometrinen muoto on tarkasti sama
- *vastinkulmat* ovat yhtä suuret
- *vastinsivut* ovat verrannollisia.

Huom! Yhtenevät kuviot ovat aina myös yhdenmuotoisia.

Yhdenmuotoisuuden löytyminen helpottaa monien geometrinen tehtävien ratkaisemista. Yhdenmuotoisten kuvioden vastinsivujen pituuksien suhde säilyy samana, jolloin voidaan muodostaa verranto tuntemattoman sivun pituuden ratkaisemiseksi.

Esimerkki 1.

Santeri on piirtänyt majan rakennuspiirustukset. Majan lattia on suorakulmio, jonka sivujen pituudet ovat piirustuksessa 2,5 cm ja 1,5 cm. Luonnollisessa koossa lattian pitempi sivu on 3,6 m. Mikä on lyhemmän sivun pituus?



Ratkaisu:

Ennen kuin verrantoa voidaan käyttää, on mitat esitettävä samoissa yksiköissä.

$$2,5 \text{ cm} = 0,025 \text{ m ja } 1,5 \text{ cm} = 0,015 \text{ m}$$

Jotta luonnollisessa koossa oleva lattia olisi rakennuspiirustuksen mukainen, on vastinsivujen pituuksien suhteiden oltava samat.

$$\frac{3,6}{0,025} = \frac{x}{0,015} \quad \text{kerrotaan ristiin}$$
$$0,025x = 3,6 \cdot 0,015 \quad || : 0,025$$
$$x = \frac{3,6 \cdot 0,015}{0,025}$$
$$x = 2,16$$
$$x \approx 2,2$$

Vastaus: Lattian lyhyemmän sivun pituus on 2,2 m.

Huom! Verranto voidaan kirjoittaa myös siten, että lasketaan kuvioiden pituuksien suhteet ja verrataan niitä toisen kuvion vastaavien pituuksien suhteeseen. Samaan tulokseen siis päädytään kirjoittamalla edellinen verranto muodossa $\frac{0,025}{0,015} = \frac{3,6}{x}$.

Tehtäviä

1.

Onko väite totta? Kun kaksi yhtenevää kuviota asetetaan päällekkäin, on päällekkäin sattuvat osat ovat toistensa vastinosia.

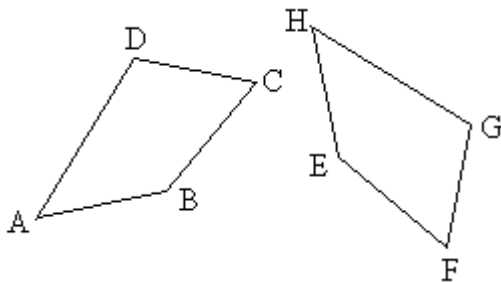
2.

Jäljennä kuviot vihkoosi ja jaa ne kahteen yhtenevään osaan.



3.

Nelikulmiot ABCD ja EFGH ovat yhteneviä.

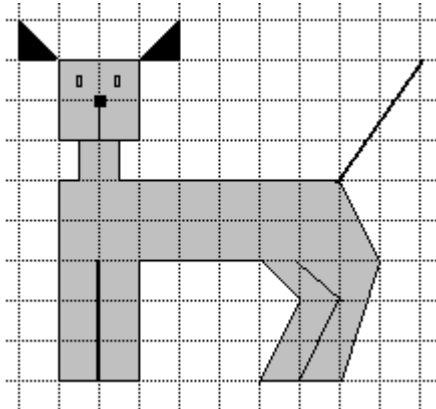


Mikä on viereisestä nelikulmiosta

- a) kulman C vastinkulma
- b) kulman G vastinkulma
- c) sivun HE vastinsivu
- d) sivun BC vastinsivu
- e) lävistäjän AC vastinosa?

4.

Suurena kuva vihkoosi siten, että kaikki pituudet tulevat kaksinkertaisiksi. Vertaa sitten alkuperäisen kuvan ja piirtämäsi kuvan pinta-aloja. Kuinka moninkertaiseksi pinta-ala kasvaa suurennoksessa?

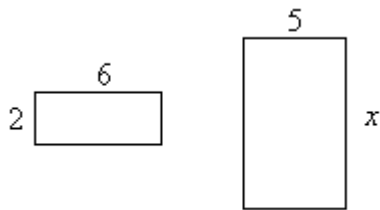


5.

Miksi yhdenmuotoisuuden löytyminen helpottaa monien geometrinen tehtävien ratkaisemista?

6.

Kuvan suorakulmiot ovat yhdenmuotoisia. Laske sivun x pituus.



7.

Jos kahden suorakulmion kaikki vastinkulmat ovat yhtä suuria, ovatko kuviot välttämättä yhdenmuotoisia?

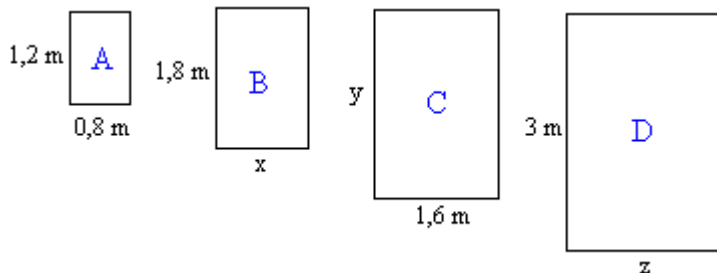
_____ soveltavat tehtävät _____

8.

Korjaa väite oikeaksi. ”Jos suorakulmioiden vastinkulmat ovat yhtä suuria, ovat kuviot yhdenmuotoisia.”

9.

Huonekaluvalmistaja tekee yhdenmuotoisia pöytiä neljänä eri kokona. Laske puuttuvat pituudet x , y ja z .



10.

Mitkä geometriset kuviot ovat aina keskenään yhdenmuotoisia?

11.

Piirrä ympyrä ja suorakulmio, ja jaa ne neljään yhtenevään osaan.

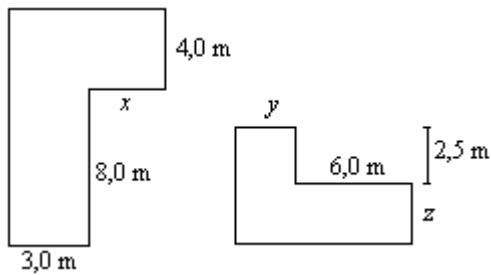
12.

Ovatko kaksi kolmiota yhdenmuotoiset, jos

- a) kahden vastinsivun suhde on sama ja jos näiden sivujen välinen kulma on sama?
- b) kaikkien kolmen vastinsivun suhde on sama?
- c) kaksi vastinkulmaa ovat yhtä suuret?

13.

Figures are similar. Find each length marked with a letter.



14.

Mikä on yhtenevien kuvioden vastinsivujen suhde?

15.

Piirrä kolmio, jonka kulmien suuruudet ovat 90° , 30° ja 60° . Pystytkö piirtämään toisen kolmion, jossa on saman suuruiset kulmat, mutta joka ei ole yhtenevä ensimmäisen kolmion kanssa?

16.

Tee tarvittavat mittaukset ja rajaa kahden suoran avulla suorakulmiosta pala, joka on yhdenmuotoinen alkuperäisen suorakulmion kanssa.



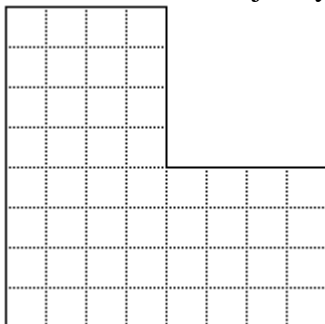
17.

Ovatko kuviot aina yhtenevät, jos niillä on sama pinta-ala ja ne ovat molemmat

- a) kolmioita
- b) ympyröitä
- c) neliöitä
- d) suorakulmioita?

18.

Jaa monikulmio neljään yhtenevään osaan.




_____ vaativat tehtävät _____

19.

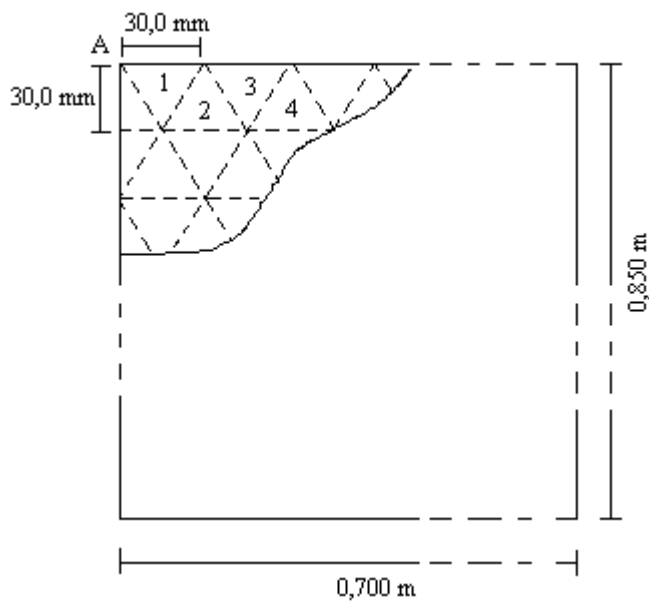
Kuviot ovat yhdenmuotoiset. Isomman kuvion korkeus on h ja pienemmän kuvion leveys u . Isomman kuvion pinta-ala merkitään A :lla. Kirjaimet a ja b ovat jotain lukuarvoja. Mitkä seuraavista yhtälöistä voivat olla totta ja mitkä ovat ehdottomasti epätosia?

- a) $u = ah$
- b) $u = abh$
- c) $u = bh + a$
- d) $A = bh$
- e) $A = bh^2$
- f) $A = ah^3$



20.

Suorakulmion muotoisen peltilevyn mitat ovat 0,700 m ja 0,850 m. Levystä leikataan keskenään yhteneviä tasakylkisiä kolmioita, joiden kanta ja korkeus ovat 30,0 mm. leikkaaminen aloitetaan kärjestä A, josta leikataan kolmiot 1, 2, 3, 4 jne. kuvion osoittamalla tavalla. Montako kolmiota tällä tavalla voidaan leikata, kun ainoastaan edellä mainitun kaltaiset kolmiot kelpaavat? (pääsykoetehtävä teknikkokoulutukseen, kevät 1994)



Kartoitusmenetelmät

Kartta on mittakaavan mukaan pienenetty ja yleistetty kuva jostakin alueesta. Kun kuvataan kuperaa maapallon pintaa tasossa, syntyy vääristymiä, jotka ovat sitä suurempia mitä laajempia alueita kartalla kuvataan. Jotta maapallon pintaa voitaisiin kuvata mahdollisimman pienin virhein, on kehitetty erilaisia karttaprojektioita. Eri karttaprojektioissa jokin perusominaisuus on oikein, mutta muissa ominaisuuksissa esiintyy vääristymiä.

Suomea kuvaavissa kartoissa käytetään Gauss-Krügerin projektiota, joka on oikeakulmainen karttaprojektio. Siinä muodot ja kulmat vastaavat todellisuutta. Oikeakulmaisessa kartassa valtioiden muodot ovat siis tunnistettavia, mutta niiden kokojen vertaaminen on mahdotonta. Myös merikartoissa käytetään useimmiten oikeakulmaista projektiota. Jos halutaan vertailla alueiden pinta-aloja, on käytettävä oikeapintaista karttaprojektiota. Siinä esimerkiksi valtioiden pinta-alojen suhteet ovat samat kuin todellisuudessa, mutta monet niistä ovat muodoltaan vääristyneitä. Etäisyyttä kuvaavissa kartoissa käytetään oikeapituista koordinaatistoa, jossa mittakaava säilyy muuttumattomana koko kartan alueella.

Projektion lisäksi kartassa on tärkeä myös koordinaatisto. Suomalaisissa kartoissa käytetty kartastokoordinaattijärjestelmä (KKJ) perustuu maapallon pinnanmuodon jäljittelemiseen. KKJ-koordinaatit voidaan esittää joko maantieteellisinä koordinaatteina eli leveys- ja pituusasteina tai suorakulmaisina xy -koordinaatteina. Lisäksi käytössä on koko maan peittävä yhtenäiskoordinaatisto (YKJ).

GPS-mittausten yleistymisestä johtuen on alettu kiinnittää entistä enemmän huomiota koordinaattijärjestelmiin ja niiden tarkkuuteen. Suomessa ollaankin siirtymässä kansainvälisiin koordinaattijärjestelmiin pohjautuvan EUREF-FIN –koordinaatiston käyttöön, joka on nykyistä tarkempi ja sopii paremmin käytettäväksi myös satelliittipaikannukseen.

Maailmanlaajuinen satelliittipaikannus GPS (Global Positioning System) on Yhdysvaltojen puolustusministeriön ylläpitämä järjestelmä. Sen kehittäminen aloitettiin vuonna 1973 sotilaallisia tarkoituksia varten. Se perustuu 24 paikannussatelliittiin, joilta saaduilla tiedoilla pystytään määrittämään GPS-paikantimen sijainti melko tarkasti. GPS-paikannin laskee saadun datan ja radioaaltojen etenemisnopeuden perusteella, kuinka kaukana se on satelliitista ja kun tiedetään etäisyys kolmesta satelliitista, voidaan sijainti laskea. Neljättä satelliittia käytetään varmennukseen. Järjestelmä tarvitsee myös maa-asemia ylläpitoa ja valvontaa varten.

GPS-satelliitit käyttävät kahta eri lähetystaajuutta, joista toinen on salattu ja käytössä vain Yhdysvaltojen puolustusvoimilla. Siviilikäyttöön tarkoitettu GPS eli SPS (Standard Positioning System) on epätarkempi kuin vastaava USA:n puolustusvoimien GPS eli PPS (Precise Positioning System). Aiemmin Yhdysvallat lähetti lisäksi tahallista häiriösignaalia SA (Selective Availability) siviilitaajuudella, mutta tämä häirintä lopetettiin 2.5.2000, minkä johdosta GPS:n tarkkuus lisääntyi huomattavasti.

2. Mittakaava

Kartta on *pienennetty* kuva alueesta, siinä muodot ovat samat kuin todellisuudessa, mutta koko on erilainen. Jotta kartalta pystyttäisiin määrittämään välimatkan todellinen pituus, on siitä löydettävä tiedot käytetystä mittakaavasta. Jos taas halutaan tutkia tarkemmin esimerkiksi pieneliöiden yksityiskohtia, kuviosta tehdään *suurennos*. Pientäminen ja suurentaminen ovat *yhdenmuotoisuuskuvauksia*, niissä kuvion muoto säilyy, mutta koko muuttuu.

Yhdenmuotoisten kuvien vastinsivujen suhdetta kutsutaan *yhdenmuotoisuussuhteeksi* eli *mittakaavaksi*.

Mittakaava ilmaistaan tavallisesti muodossa, jossa edellinen tai jälkimmäinen jäsen on yksi. Pienennöksissä suhdetta ilmaisevan kaksoispisteen edessä on ykkönen. Suurennoissa puolestaan ykkönen on mittakaavan merkinnässä kaksoispisteen jäljessä.

Koska mittakaava on suhdeluku, jolla ei ole yksikköä, voidaan tarkasteluyksiköt valita vapaasti. Suhteeseen on kuitenkin sijoitettava luvut samoissa yksiköissä. Esimerkiksi kartan mittakaava 1 : 1000 voidaan tulkita siten, että 1 m kartalla vastaa 1000 m luonnossa tai 1 mm kartalla vastaa 1000 mm luonnossa. Senttimetrit ovat kuitenkin yleensä kartalla käytännöllisimpiä.

Esimerkki 1.

Helsingin opaskartta on tehty mittakaavassa 1 : 20 000. Matka eduskuntatalolta presidentin linnaan Mannerheimintietä ja Esplanadia pitkin on kartalta mitattuna 8 cm. Kuinka pitkä matka on todellisuudessa?

Ratkaisu:

Suhde 1 : 20 000 tarkoittaa, että yhden senttimetrin matka kartalla vastaa luonnossa 20 000 cm:n matkaa. 8 cm:n matka kartalla on tällöin luonnossa $8 \text{ cm} \cdot 20\,000 = 160\,000 \text{ cm} = 1,6 \text{ km}$.

Vastaus: Matka on 1,6 km pitkä.

Esimerkki 2.

Lasketaan muurahaisen todellinen koko, kun kuva on mittakaavassa 6 : 1.

Muurahaisen keskiosan pituus kuvassa on 20 mm. Todellinen pituus saadaan verrannon avulla.



$$\frac{6 \text{ mm}}{20 \text{ mm}} = \frac{1 \text{ mm}}{x}$$

kerrotaan ristiin

$$6 \text{ mm} \cdot x = 20 \text{ mm} \cdot 1 \text{ mm} \quad || : 6 \text{ mm}$$

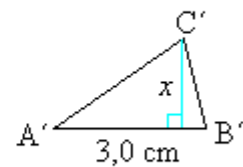
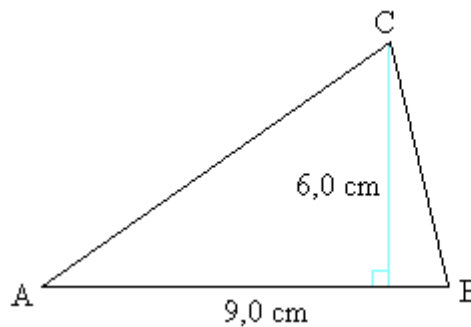
$$x = \frac{20 \text{ mm} \cdot 1 \text{ mm}}{6 \text{ mm}}$$

$$x = 3,3 \text{ mm}$$

Vastaus: Muurahaisen pituus luonnossa on 3,3 mm.

Esimerkki 3.

Kolmiot ABC ja A'B'C' ovat yhdenmuotoiset. Mikä on käytetty mittakaava ja kolmion A'B'C' korkeus?



Ratkaisu:

Mittakaava on vastinsivujen suhde $AB : A'B' = 9,0 \text{ cm} : 3,0 \text{ cm} = 3 : 1$

Koska vastinsivujen suhde säilyy samana, voidaan muodostaa verranto korkeuden ratkaisemiseksi.

$$\frac{9,0 \text{ cm}}{3,0 \text{ cm}} = \frac{6,0 \text{ cm}}{x}$$

kerrotaan ristiin

$$x \cdot 9,0 \text{ cm} = 3,0 \text{ cm} \cdot 6,0 \text{ cm} \quad || : 9,0 \text{ cm}$$

$$x = \frac{18,0 \text{ cm}^2}{9,0 \text{ cm}}$$

$$x = 2,0 \text{ cm}$$

Vastaus: Mittakaava on 3 : 1 ja pienemmän kolmion korkeus on 2,0 cm.

Tehtäviä

21.

Täydennä mittakaavan merkintätapaa käsittelevät lauseet.

- Pienennöksissä suhdetta ilmaisevan kaksoispisteen _____ on ykkönen.
- Suurennoksissa suhdetta ilmaisevan kaksoispisteen _____ on ykkönen.

22.

Kumpi mittakaavoista on suurempi?

- 1 : 100 000 vai 1 : 10 000
- 1 : 50 vai 1 : 500
- 150 : 1 vai 1 500 : 1
- 10 : 1 vai 1 : 1

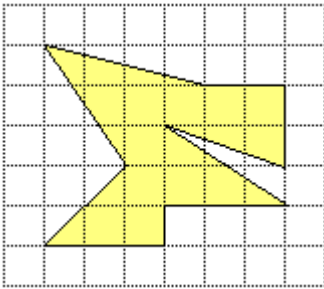
23.

Miten mittakaavalla merkitään, että kuva on

- suurennettu 25-kertaiseksi
- pienennetty tuhannesosaan?

24.

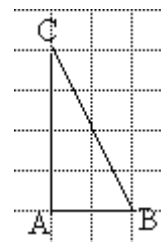
Piirrä kuvio vihkoosi mittakaavassa 2 : 1.



25.

Piirrä vihkoosi kolmio, joka on yhdenmuotoinen kolmion ABC kanssa mittakaavassa

- 2 : 1
- 1 : 2



26.

Mikä seuraavista kartan mittakaavan 1 : 5000 tulkintatavoista on oikein?

- 1 m kartalla vastaa 5000 m luonnossa.
- 1 cm kartalla vastaa 50 m luonnossa.
- 1 mm kartalla vastaa 5 m luonnossa.

27.

Rakentaja on piirtänyt suunnitelmat siten, että 10 metrin matkaa luonnossa vastaa yhden senttimetrin matka kartalla. Kuinka pitkä on luonnossa kartalla 14 cm pituinen tie?

28.

Kartan mittakaava on 1 : 20 000. Kartalla matka on 56 cm, kuinka pitkä matka on luonnossa?

29.

Jyväskylän ja Pieksämäen välinen etäisyys on 88 km. Montako senttiä etäisyys on kartalla, jonka mittakaava on 1 : 400 000?

30.

Elektronimikroskoopilla kohde suurennetaan 15000-kertaiseksi. Mikä on tällöin mittakaava?

31.

Elektronimikroskoopista saatu kuva suurennetaan vielä optisesti 150-kertaiseksi. Mikä on kuvan mittakaava?

————— soveltavat tehtävät —————

32.

Suorakulmaisen särmiön muotoisen pöydän pidempi sivu on luonnossa 2,10 m ja lyhempi sivu 0,70 m. Mikä on käytetty mittakaava, kun kuvassa

- a) pidempi sivu on 1,4 cm
- b) lyhyempi sivu on 1,4 cm?

33.

Mikä on käytetty mittakaava, jos pieneliön todellinen pituus on 0,23 mm ja kuvassa sen pituus on

- a) 23 cm
- b) 11,5 dm
- c) 2,07 m?

34.

Jalkapallokenttä on kooltaan 105 m x 70 m. Piirrä kenttä mittakaavassa 1:1 000.

35.

Maailman pisin silta on Mandevillen ja Metrairien (Louisiana, USA) yhdistävä Second Lake Pontchartrain –pengertie. Silta valmistui vuonna 1969. Kuinka pitkä silta on kartalla, jonka mittakaava on 1 : 80 000, kun se luonnossa on 38,42 km?

36.

The scale of map is 1 : 1000. Find the actual length in metres represented on the map by 30 cm.

37.

Oulusta Tampereelle on matkaa 487 km. Mikä on kaupunkien välinen etäisyys

- a) autoilijan tiekartalla, jonka mittakaava on 1 : 800 000?
- b) GT-kartalla, jonka mittakaava on 1 : 200 000?
- c) yleistiekartalla, jonka mittakaava on 1 : 1 600 000?

38.

Ilmoita kaupunkien väliset etäisyydet luonnossa, kun tiedetään niiden välinen matka autoilijan tiekartalla.

- a) Porista Vaasaan 24,1 cm
- b) Kuhmosta Tornioon 48,5 cm
- c) Rovaniemeltä Helsinkiin 104,6 cm
- d) Forssasta Tampereelle 11,5 cm.

39.

Asunnon pohjapiirustuksen mittakaava on 1 : 200. Olohuone on piirustuksessa 4,5 cm pitkä ja 3,0 cm leveä. Mikä on olohuoneen pinta-ala todellisuudessa?

40.

The distance between two points is 15 km. How far apart will they be on a map of scale 1 : 50 000?

41.

A swimming pool 50 m by 25 m, is drawn to scale of 1 : 250. How big is it in the drawing?

_____ vaativat tehtävät _____

42.

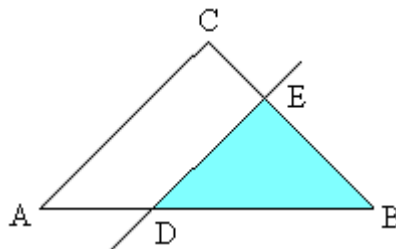
Valokuvanegatiivin koko on 24 mm x 36 mm. Negatiivista tehdyn suurennoksen pitempi sivu on 15 cm. Laske suurennoksen pinta-ala. (yo syksy 1993)

43.

Maantiekartassa on joitakin teiden risteyksiä merkitty ympyrällä, jonka halkaisija on 1,8 mm. Mitä risteysalueen halkaisijaa tämä vastaa todellisuudessa, kun kartan mittakaava on 1:200 000? Jos risteysalueen halkaisija todellisuudessa on 25 m, niin kuinka suuri sen tulisi kyseisellä kartalla olla? (yo kevät 2001)

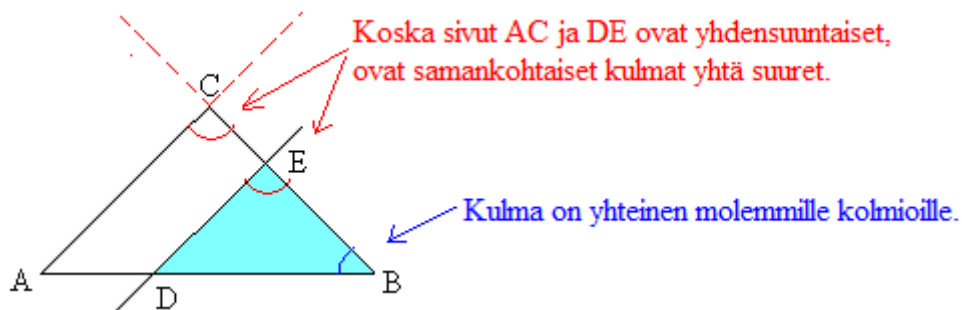
3. Kolmioiden yhdenmuotoisuus

Jos kolmio jaetaan kahteen osaan jollakin kolmion sivun kanssa yhdensuuntaisella suoralla, muodostuu alkuperäisen kolmion kanssa yhdenmuotoinen kolmio eli $ABC \sim DBE$.



Kolmiot ABC ja DBE ovat keskenään *yhdenmuotoiset*, jos niiden kaikki vastinkulmat ovat keskenään yhtä suuria.

Yhdenmuotoisuustarkasteluissa kuitenkin riittää osoittaa ainoastaan kaksi vastinkulmista yhtäsuuriksi. Koska kolmion kulmien summa on 180° , on kolmansienkin vastinkulmien oltava yhtäsuuret.

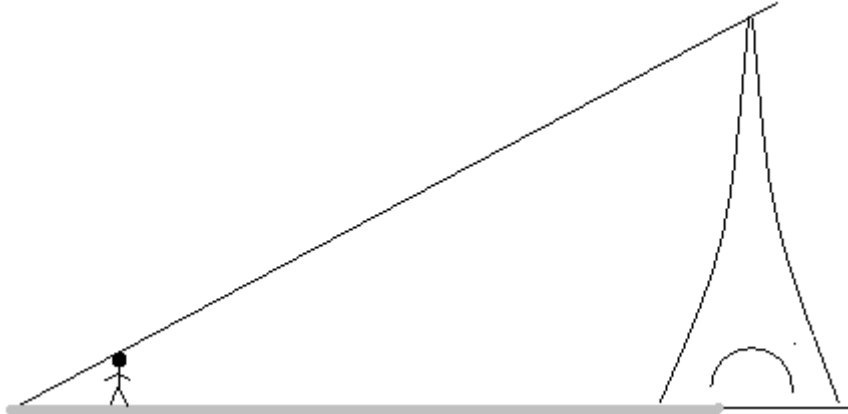


Kun kolmioiden yhdenmuotoisuus on todettu, voidaan kaikkia kolmion vastinsivuja verrata keskenään ja pituuksien suhteeksi saadaan sivuparista riippumatta sama arvo

$$\frac{AC}{DE} = \frac{CB}{EB} = \frac{AB}{DB}.$$

Esimerkki 1.

1,7 m pituisen henkilön varjon pituus on 2,5 m. Samanaikaisesti Eiffeltornin varjon pituus on 441 m. Kuinka korkea torni on?



Esimerkissä muodostuu kaksi yhdenmuotoista kolmiota, sillä valon säteen ja maan välinen kulma on kummassakin tapauksessa sama. Lisäksi Eiffeltorni ja henkilö ovat kohtisuorassa maata vasten.

Eiffeltornin ja henkilön pituuksien suhde on sama kuin varjojen pituuksien suhde, joten saamme verrannon.

$$\frac{x}{1,7 \text{ m}} = \frac{441 \text{ m}}{2,5 \text{ m}}$$

Ratkaistaan tämä ristiin kertomalla:

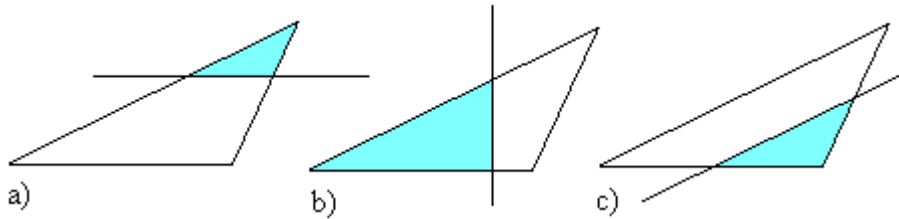
$$\begin{aligned} \frac{x}{1,7} &= \frac{441}{2,5} \\ x \cdot 2,5 &= 1,7 \cdot 441 \quad || :2,5 \\ x &= \frac{1,7 \cdot 441}{2,5} \\ x &\approx 300 \end{aligned}$$

Vastaus: Eiffeltornin korkeus on noin 300 m.

Tehtäviä

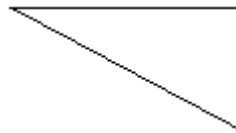
44.

Kolmio jaetaan suoralla kahteen osaan. Onko muodostunut pikkukolmio yhdenmuotoinen alkuperäisen kolmion kanssa?



45.

Erota kolmiosta kolmella erisuuntaisella suoralla kolme alkuperäisen kolmion kanssa yhdenmuotoista kolmiota.

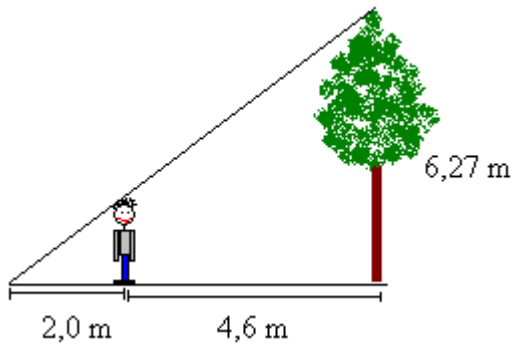


46.

Jos suorakulmio jaetaan kahteen osaan jonkin sivun kanssa yhdensuuntaisella suoralla, onko muodostunut pienempi suorakulmio aina yhdenmuotoinen alkuperäisen suorakulmion kanssa?

47.

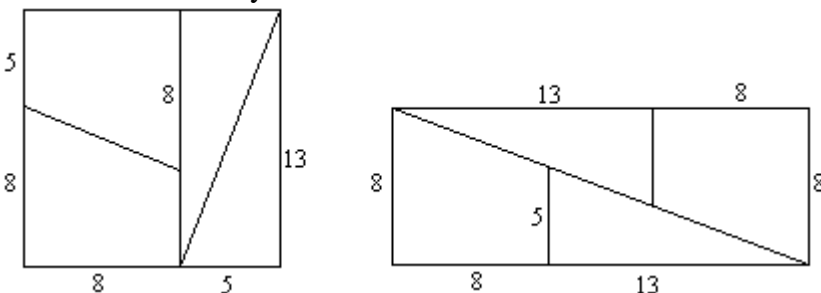
Laske Timon pituus.



soveltavat tehtävät

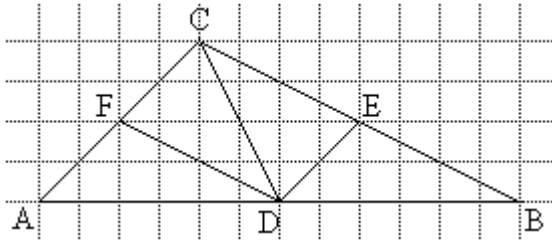
48.

Samoista kuvioista on koottu neliö ja suorakulmio, joiden pinta-alat ovat 169 cm^2 ja 168 cm^2 . Minne on kadonnut yksi neliösenttimetri?



49.

Kolmio ABC jaetaan neljään osaan kuvion mukaisesti. Mitkä osat ovat keskenään yhteneviä?



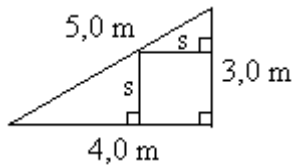
50.

Pihalla olevan puun varjo on 23,5 m pitkä. Kuinka korkea puu on, kun vieressä olevan 10 metrisen lipputangon varjon pituus on 17 m?

_____ vaativat tehtävät _____

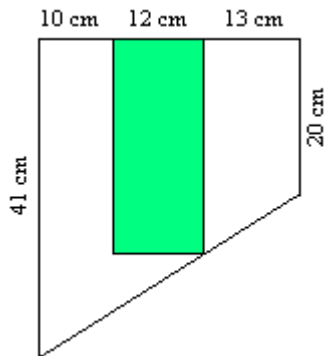
51.

Kolmion sisään on piirretty neliö kuvan osoittamalla tavalla. Laske neliön pinta-ala.



52.

Laske kuvion sisällä olevan suorakulmion pinta-ala.



Missä kaikkialla kultainen leikkaus esiintyy?

Kultainen leikkaus (lat. sectio aurea) on matemaattinen suhde, joka tarkoittaa janan jakoa siten, että pienemmän osan suhde suurempaan on sama kuin suuremman osan suhde kokonaisuuteen.

Pythagoralaisten arvellaan keksineen kultaisen leikkauksen 500-luvulla eKr. Idea on todennäköisesti lähtenyt säännöllisestä viisikulmiosta, pentagonista. Kun viisikulmiolle piirretään lävistäjät syntyy niiden leikkauspisteeseen uusi säännöllinen pentagon. Piirtämistä voidaan jatkaa loputtomiin. Viisikulmioiden lävistäjät jakavat toisensa kultaisen leikkauksen suhteessa.


Kultainen leikkaus esiintyy monissa eri yhteyksissä: Fibonaccin lukujen kahden peräkkäisen luvun suhde lähestyy kultaisen leikkauksen suhdetta. Taiteessa kultaista leikkausta on käytetty paljon. Se on kohta johon ihmissilmä mielellään katsoo. Usein miellyttävimmiksi ihmis- kasvoiksikin valitaan sellaiset, joiden suhteet vastaavat kultaista leikkausta parhaiten. Aikoinaan kultaiseen leikkaukseen liitettiin myös mystisiä ja jumalallisia piirteitä.

Kultainen leikkaus on kuvan sommittelua helpottava menetelmä, jota voi soveltaa piirroksissa, maalauksissa sekä valo- ja videokuvauksessa. Jos esimerkiksi tärkeässä asemassa oleva hahmo sijoitetaan keskelle maalausta, tulee maalauksesta helposti kömpelön ja elottoman näköinen. Kokonaisuudesta saadaan sen sijaan kiinnostavampi ja tasapainoisempi, jos hahmo sijoitetaan kultaisen leikkauksen mukaisesti. Jo renessanssin taiteilijat käyttivät kultaista leikkausta tuomaan taideteoksiinsa esteettistä harmoniaa. Kuuluisista taiteilijoista mm. Leonardo da Vinci tutki tarkkaan ihmisen ja yleensä luonnon mittasuhteita. Hän keksi perspektiivin ja sovelsi kultaista leikkausta useissa töissään, mm. kuuluisassa Mona Lisassa, Pyhässä ehtoollisessa sekä kesken jääneessä Hieronymuksessa.

Varhaisin kultaisen leikkauksen sovellus arkkitehtuurissa on antiikin ajalta peräisin oleva Parthenonin temppeli Ateenassa. Uudempi luomus on YK:n päärakennus New Yorkissa. Se valmistui v.1952.

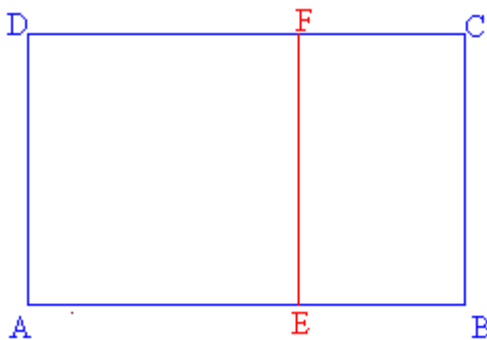
4. Kultainen leikkaus*

Kultainen leikkaus eli *kultainen suhde* saadaan, kun jana jaetaan kahteen osaan a ja b siten, että lyhyemmän osan suhde pidempään osaan on sama kuin pidemmän osan suhde koko janaan.


$$\frac{a}{b} = \frac{b}{a+b}$$

Yleisesti kultaisen leikkauksen lukuarvona käytetään suhteen käänteisarvoa $\frac{b}{a} = 1,618034\dots$

Jos suorakulmio jaetaan kahteen osaan jollakin suorakulmion sivun kanssa yhdensuuntaisella suoralla, ei yleensä muodostu alkuperäisen suorakulmion kanssa yhdenmuotoista suorakulmiota. Suorakulmiota sanotaan *kultaiseksi suorakulmioksi*, jos se voidaan jakaa neliöksi ja pienemmäksi suorakulmioksi siten, että pienempi suorakulmio on yhdenmuotoinen alkuperäisen suorakulmion kanssa.



Suorakulmiot ABCD ja BCFE ovat yhdenmuotoisia, jos niiden sivujen pituudet ovat kultaisessa suhteessa $\frac{AB}{BC} \approx 1,618034\dots$

Esimerkki 1.

Ateenassa olevan Parthenon-temppelin pääty on kultainen suorakulmio. Päädyn korkeus on 19 m. Kuinka leveä pääty on?

Ratkaisu:

Kultaisen suorakulmion pidemmän sivun pituuden suhde lyhyempään sivuun on 1,618034... Olkoon temppelin leveys x . Muodostetaan yhtälö.

$$\begin{aligned} \frac{x}{19 \text{ m}} &= 1,618034\dots && \parallel \cdot 19 \text{ m} \\ x &= 19 \text{ m} \cdot 1,618034\dots \\ x &\approx 31 \text{ m} \end{aligned}$$

Vastaus: Temppelin leveys on noin 31 m

Tehtäviä

53.

Onko jana jaettu kultaisen leikkauksen suhteessa, kun osien pituudet ovat

- a) 1,0 cm ja 4,0 cm
- b) 55 cm ja 89 cm
- c) 2,35 cm ja 3,8 cm
- d) 12,6 cm ja 28 cm

54.

Onko jana jaettu kultaisen leikkauksen suhteessa, kun koko janan pituus on

- a) 4,1 cm ja lyhemmän osan pituus on 1,6 cm.
- b) 41,1 cm ja lyhemmän osan pituus on 18,6 cm.
- c) 19,2 cm ja lyhemmän osan pituus on 7,4 cm.
- d) 37,5 cm ja lyhemmän osan pituus on 12,6 cm.

55.

Jana on jaettu kultaisen leikkauksen suhteessa. Kuinka pitkä on lyhyempi osa, kun pidempi osa on

- a) 4,8 cm
- b) 15,0 cm
- c) 29,6 cm
- d) 102,0 cm

56.

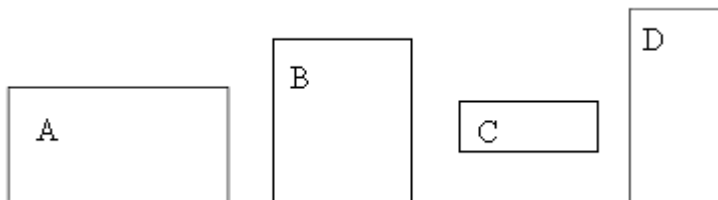
Jana on jaettu kultaisen leikkauksen suhteessa. Kuinka pitkä on pidempi osa, kun lyhyempi osa on

- a) 3,8 cm
- b) 14,0 cm
- c) 21,7 cm
- d) 86,0 cm

———— soveltavat tehtävät ————

57.

Tee tarvittavat mittaukset ja tutki, mitkä oheisista suorakulmioista ovat kultaisia suorakulmioita?

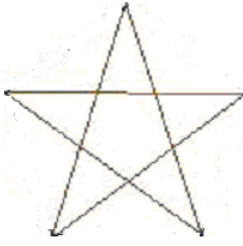


58.

Piirrä jana ja jaa se kahteen osaan kultaisen leikkauksen suhteessa.

59.

Mitä kultaisen leikkauksen suhteita löydät pentagrammista?



60.

Tee tarvittavat mittaukset ja tutki, onko suomen lipussa olevat suorakulmiot kultaisia suorakulmioita.



61.

Antiikin kauneusihanne oli, että ihmisen navan tulee jakaa ihmisen pituus kultaisen leikkauksen suhteessa.

- Miten korkealla 171 cm pitkän henkilön navan tulisi tämän mukaan olla?
- Entä kuinka korkealla pituisesi henkilön navan tulisi olla?

62.

Piirrä kolmio, jonka kulmat ovat 36° , 72° ja 72° . Mitä voit sanoa sivujen pituuksien suhteesta?

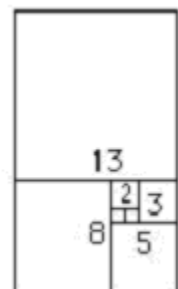
63.

Fibonaccin lukujonon 11. ensimmäistä termiä on 1, 1, 2, 3, 5, 8, 13, 21, 34, 55, 89. Laske josta kunkin kahden peräkkäisen luvun suhde. Mitä havaitset?

_____ vaativat tehtävät _____

64.

Piirrä kultainen spiraali, käyttäen apuna Fibonaccin lukuja oheisen kuvion mukaisesti. Piirrä kuvaan tarkistukseksi kahden suurimman suorakulmion lävistäjät, niiden pitäisi leikata toisensa sisimmässä suorakulmiossa.



65.

Piirrä ympyrän sisään säännöllinen 10-kulmio. Ovatko monikulmion sivun pituus ja ympyrän säteen pituus toisiinsa kultaisessa suhteessa?

Muoto ja symmetria

Luonnossa symmetria ei ole matemaattisen täydellistä, mutta selkeät erot normaalista ovat huomiota herättäviä. Jossakin määrin kasvien ja eläinten rakennetta voidaan pitää symmetrisenä –myös ihmiskehoakin. Ulkomuodon symmetrialla ei kuitenkaan ole välttämättä mitään tekemistä sisäisen anatomian kanssa. Arkipäivän puheessa symmetrialla viitataan usein jonkinlaiseen sopusuhtaisuuteen ja kauneuteen. Symmetria luokin useimmissa ihmisissä positiivisia assosiaatioita. Tutkimusten mukaan esimerkiksi kasvot koetaan sitä kauniimmiksi mitä symmetrisemmät ne ovat.

Usein symmetriaa tulee pidettyä itsestäänselvyytenä. Siksi epäsymmetria onkin usein hätkähdyttävä piirre, joka vetää heti huomion puoleensa. Etenkin ihmisten tekemien rakenteiden ja esineiden oletetaan olevan symmetrisiä. Oletko koskaan tullut ajatelleeksi, kuinka paljon symmetriaa esiintyykään esimerkiksi autoissa tai leintokoneissa?

Matematiikassa erotetaan useita symmetrian lajeja, jotka jättävät kuvion kokonaisuutena muuttumattomaksi. Symmetria säilyttää kappaleen koon, muodon, etäisyydet sekä kulmien suuruudet. Kappaletta sanotaan symmetriseksi, jos siinä esiintyy yksikin kolmesta perussymmetriasta. Nämä ovat kierto, siirto ja heijastus. Siirrola on aina suunta ja etäisyys. Heijastuksella puolestaan tarkoitetaan peilikuvan tuottamista kohteesta, jolloin kohteen kätisyys muuttuu. Kierrossa kohdetta kierretään tietyn kulman verran kierron keskipisteen ympäri. Esimerkiksi neliötä voidaan kiertää 90° siten, että se yhtyy entiseen sijaintiinsa. Neliöllä on nelinkertainen symmetria-akseli. Säännötöntä kuviota ei voida kiertää niin, että se yhtyisi itseensä. Symmetrisin muoto on pallo, jota voidaan kiertää minkä verran tahansa minkä tahansa halkaisijan suhteen sijainnin muuttumatta. Pallolla on monia erikoisia matemaattisia ja fysikaalisia ominaisuuksia. Kuulalaakerissa samankokoisten pallojen asento on yhdentekevä; ne eivät voi joutua väärinpäin ja pyörivät aina. Pythagoralaiset pitivätkin ympyrää ja palloa täydellisiä mahdollisina muotoina niiden kiertosymmetrian ansiosta.

Symmetrialla on niin perustava käsitteellinen asema monissa teorioissa, että symmetrian puuttuminen havaitaan aina erityisen ongelmallisena. Symmetriaa tutkii matematiikan alue nimeltään ryhmäteoria, jolla on tärkeä rooli erityisesti kvanttimekaniikassa.

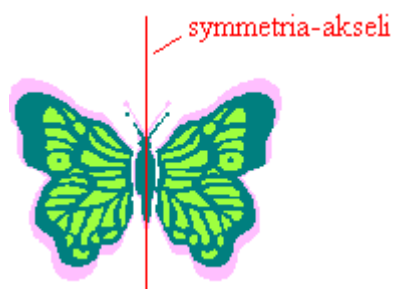
5. Peilaus suoran suhteen

Jos halutaan tehdä jonkin kuvion kanssa yhtenevä kuvio, käytetään apuna *yhtenevyyskuvauksia*, joita ovat *peilaus suoran suhteen*, *peilaus pisteen suhteen*, *yhdensuuntaissiirto* ja *kierto*. Koordinaatistoa apuna käyttäen kuvat ja yhtenevyyskuvaukset voidaan esittää laskennallisesti. Tietokonegrafiikka perustuu tähän.

Peilaus suoran suhteen

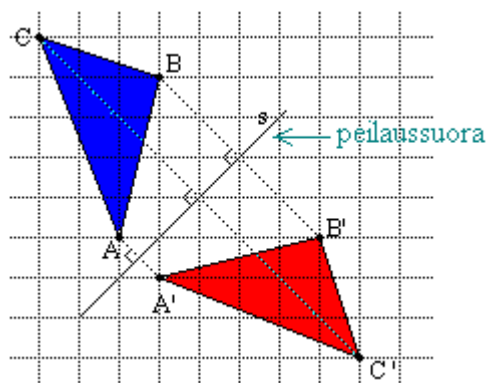
Kun peilataan kuvio suoran suhteen, vastinpisteet ovat

- samalla peilaussuoran normaalilla,
- yhtä kaukana peilaussuorasta.



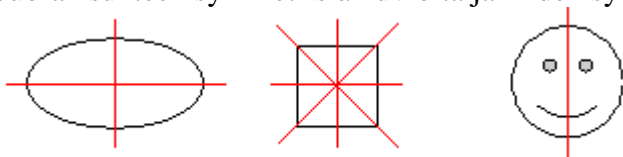
Esimerkki 1.

Peilataan kolmio ABC suoran s suhteen, saadaan peilattu kolmio $A'B'C'$, joka on yhtenevä alkuperäisen kolmion kanssa.



Esimerkki 2.

Suoran suhteen symmetrisiä kuvioita ja niiden symmetria-akselit.

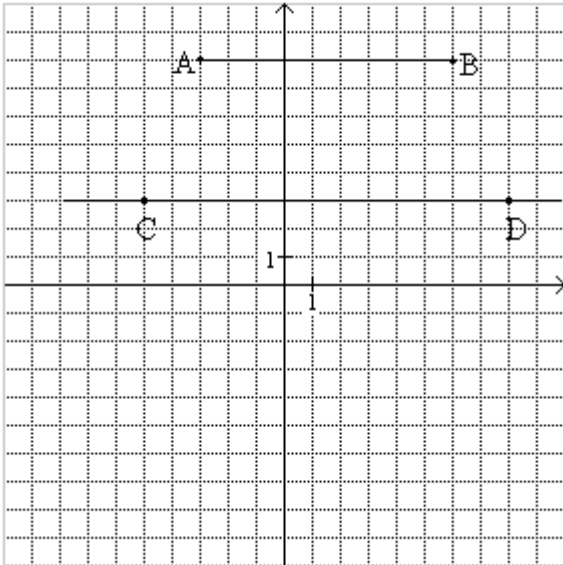


Tehtäviä

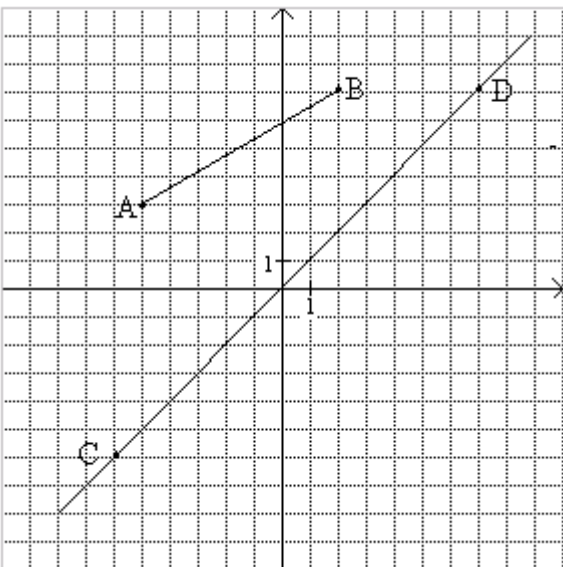
66.

Jäljennä kuviot vihkoosi ja peilaa jana AB suoran CD suhteen.

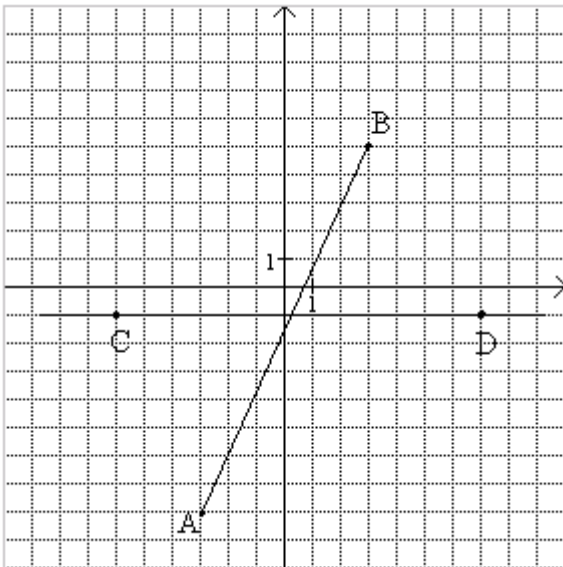
a)



b)



c)



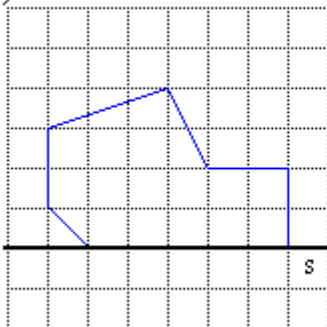
67.

Piirrä kolmio ABC, jonka kärkipisteet ovat $A = (1,0)$, $B = (3,-1)$ ja $C = (2,3)$. Peilaa kolmio y -akselin suhteen.

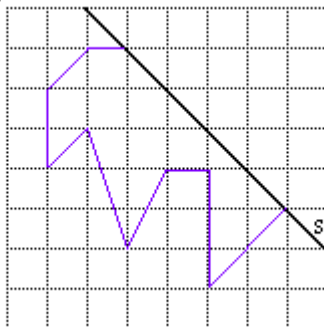
68.

Jäljennä kuvat vihkoosi ja peilaa ne suoran s suhteen. Värity muodostuneet kuvat.

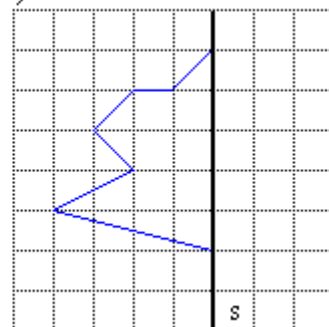
a)



b)



c)



69.

Mikä piste on pisteen $(-3, 2)$ kanssa symmetrinen

a) x -akselin

b) y -akselin suhteen?

70.

Piirrä rantanäkymä ja peilaa se vedenpinnan suhteen.

71.

Jäljennä seuraavat suoran suhteen symmetriset kuvat vihkoosi ja piirrä niihin kaikki symmetria-akselit.



72.

Mitkä ovat kuvapisteen koordinaatit, kun peilaat koordinaatiston pisteen $A = (4,2)$

a) x -akselin suhteen?

b) y -akselin suhteen?

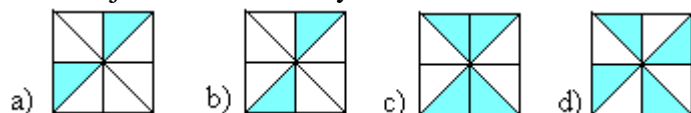
_____ soveltavat tehtävät _____

73.

Yhdistä pisteet $(-3,0)$, $(-1,1)$, $(0,3)$, $(1,1)$ ja $(3,0)$ tässä järjestyksessä. Täydennä kuvio symmetriseksi x -akselin suhteen.

74.

Määritä jokaisen kuvion symmetria-akselien lukumäärä.



75.

Suunnittele suoran suhteen symmetrisiä kuvioita.

76.

Mitkä kirjaimista A, B, C, D, E, F, G, H, I, J, K, L, M, N, O, P, Q, R, S, T, U, V, X, Y, Z, Å, Ä, Ö ovat suoran suhteen symmetrisiä?

77.

Piirrä ruutupaperille suorakulmio, jonka sivujen pituudet ovat 3 ja 5 yksikköä. Peilaa suorakulmio toisen lävistäjänsä suhteen. Mikä kuvio syntyy?

78.

Kirjoita tikkukirjaimin kaksi tytön ja kaksi pojan nimeä, joissa kaikki kirjaimet ovat symmetrisiä suoran suhteen.

79.

Kirjoita nimesi tikkukirjaimin ja peilaa se

a) vaakasuoran suoran suhteen.

b) pystysuoran suoran suhteen.

_____ vaativat tehtävät _____

80.

Päättele piirtämättä mitkä ovat kolmion ABC, jossa $A = (1,3)$, $B = (4,0)$ ja $C = (6,4)$, kuvapisteen koordinaatit, kun kolmio peilataan

a) x -akselin suhteen.

b) y -akselin suhteen.

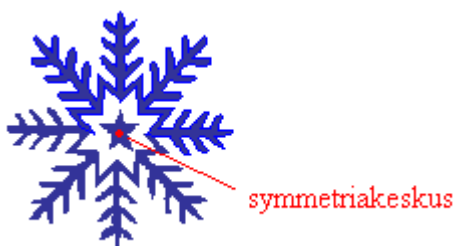
6. Peilaus pisteen suhteen

Peilaus pisteen suhteen

Kun *peilataan kuvio pisteen suhteen*, vastinpisteet ovat

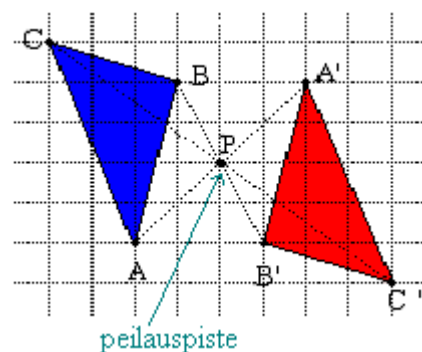
- samalla peilauspisteen kautta kulkevalla suoralla,
- yhtä kaukana peilauspisteestä.

Pisteen suhteen symmetrinen kuvio kuvautuu itselleen, kun se peilataan peilauspisteen suhteen. Peilauspistettä sanotaan tällöin *symmetriakeskukseksi* ja se sijaitsee kuvion keskipisteessä.




Esimerkki 1.

Peilataan kolmio ABC pisteen P suhteen, saadaan peilattu kolmio A'B'C', joka on yhtenevä alkuperäisen kolmion kanssa.



Esimerkki 2.

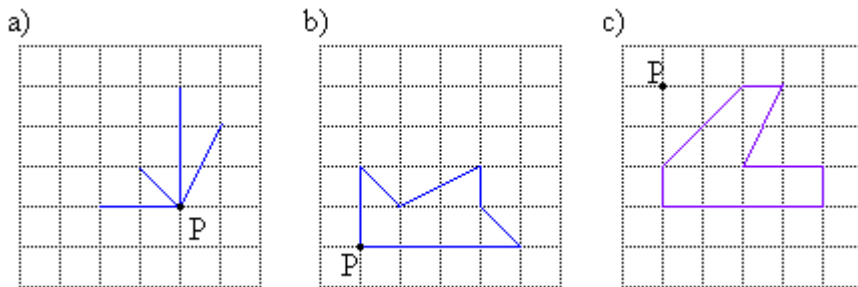
Pisteen suhteen symmetrisiä kuvioita ja niiden symmetriakeskukset.



Tehtäviä

81.

Jäljennä kuviot vihkoosi ja peilaa ne pisteen P suhteen.



82.

Piirrä kolmio AOB, jonka kärkipisteet ovat $A = (2,1)$, $O = \text{origo}$ ja $B = (1,-2)$. Peilaa kolmio AOB origon suhteen.

83.

Mikä piste on pisteen $(2, 1)$ kanssa symmetrinen

- a) origon suhteen
- b) pisteen $(1, -1)$ suhteen.

84.

Piirrä suorakulmainen kolmio ja peilaa se

- a) toisen terävän kulman kärkipisteen suhteen.
- b) suoran kulman kärkipisteen suhteen.

85.

Piirrä ympyrä ja peilaa se keskipisteensä suhteen.

86.

Piirrä neliö, jonka kärkipisteiden koordinaatit ovat $A = (-2,2)$, $B = (2,2)$, $C = (2,-2)$ ja $D = (-2,-2)$. Suorita peilaus

- a) pisteen $E = (-1,-1)$ suhteen.
- b) pisteen $F = (5,1)$ suhteen.

soveltavat tehtävät

87.

Piirrä jokin puolisuunnikas ABCD ja peilaa se pisteen B suhteen.

88.

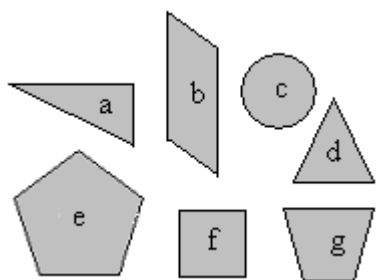
Suunnittele pisteen suhteen symmetrisiä kuvioita.

89.

Mitkä kirjaimista A, B, C, D, E, F, G, H, I, J, K, L, M, N, O, P, Q, R, S, T, U, V, X, Y, Z, Å, Ä, Ö ovat pisteen suhteen symmetrisiä?

90.

Mitkä kuvioista ovat pisteen suhteen symmetrisiä?



91.

Piirrä jokin suunnikas ABCD ja siihen lävistäjät AC ja BD. Peilaa suunnikas lävistäjien leikkauspisteen suhteen.

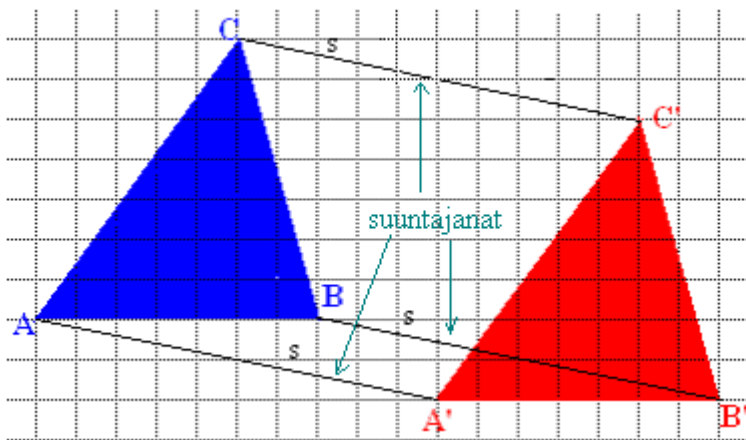
7. Kierto ja siirto tasossa

Yhdensuuntaissiirto

Yhdensuuntaissiirroissa kuvion kaikkia pisteitä siirretään yhtä pitkä matka samaan suuntaan.

Esimerkki 1.

Siirretään kolmiota ABC suuntajanan $s = \sqrt{2}$ yksikköä alas ja 10 yksikköä oikealle” verran.



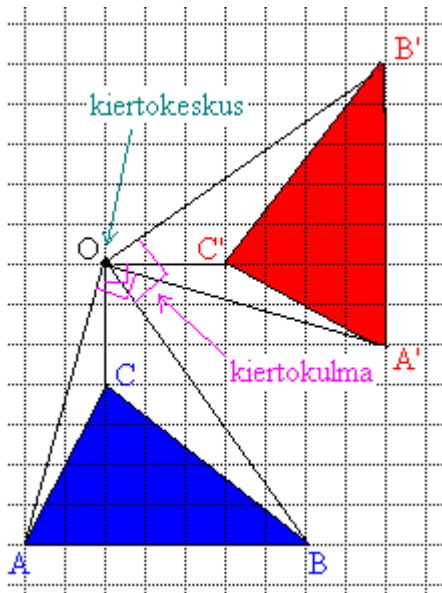
Kierto

Kierrossa kuvion jokaista pistettä kierretään kulman α verran kiertokeskuksen O ympäri siten, että kunkin pisteen etäisyys pisteeseen O säilyy.

Kierron suhteen symmetrinen kuvio kuvautuu kulman α suuruisessa kierrossa itselleen, tällöin sanotaan, että kuvio on symmetrinen kulman α suuruisen kierron suhteen.

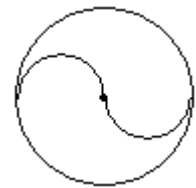
Esimerkki 2.

Kierretään kolmiota ABC pisteen O ympäri 90 asteen verran vastapäivään.



Esimerkki 3.

Jos viereistä kuviota kierretään keskipisteensä ympäri 180° , näyttää se täsmälleen samalta alkuperäisen kuvion kanssa ja sijaitsee täsmälleen samassa paikassa. Tällöin sanotaan, että on *kiertosymmetrinen kulmalla 180°* .

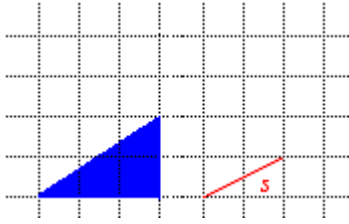


Koska 180° kierto keskipisteen suhteen voidaan tehdä kahdesti ennen kuin saavutetaan täysi kierros, on keskipiste symmetrisen kuvauksen *kaksinkertainen kiertokeskus*.

Tehtäviä

92.

Jäljennä kuvio vihkoosi ja siirrä kolmiota janan s verran.



93.

Millä kiertokulmalla oheinen kuvio on symmetrinen?



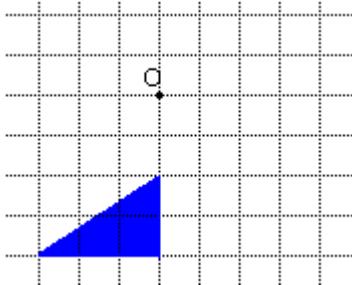
94.

Selitä termit

- a) symmetriakeskus,
- b) kiertoakeskus.

95.

Jäljennä kuvio vihkoosi ja kierrä kolmiota pisteen O ympäri vastapäivään 90° .



96.

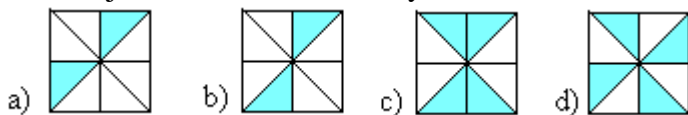
Janan päätepisteet ovat $A = (-2, 1)$ ja $B = (0, 3)$. Piste A kuvautuu siirrossa pisteeksi $A' = (1, 1)$. Mitkä ovat pisteen B' koordinaatit?

97.

Mitä yhteistä on kuvion kierrolla pisteen suhteen ja kuvion peilaamisella vastaavan pisteen suhteen?

98.

Määritä jokaisen kuvion kiertosymmetrioiden lukumäärä.



99.

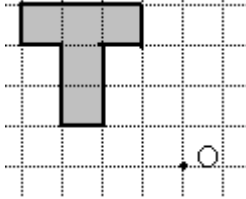
Kuinka moninkertainen kiertokeskus kuvion keskipiste on?



100.

a) Peilaa kuvio pisteen O suhteen.

b) Kierrä kuviota 180° pisteen O suhteen myötäpäivään. Mitä havaitset?



101.

Voiko kuvio, jolla on kiertosymmetriaa, olla myös symmetrinen jonkin suoran suhteen?

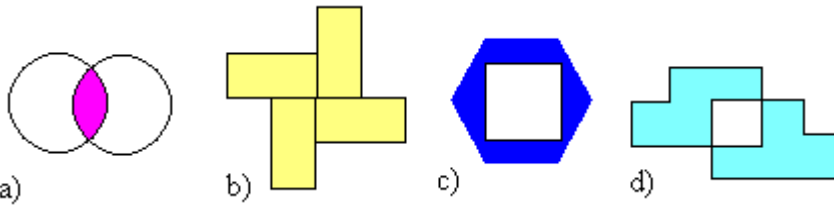
_____ soveltavat tehtävät _____

102.

Piirrä jana, jonka päätepisteet ovat $A = (-2, 4)$ ja $B = (1, 2)$. Kierrä janaa pisteen $P = (-2, 5)$ ympäri 90° myötäpäivään. Mitkä ovat pisteiden A' ja B' koordinaatit?

103.

Montako kiertosymmetriaa kuvioilla on?



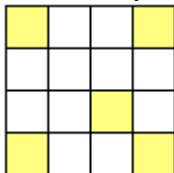
104.

Piirrä neliö ABCD, jonka sivun pituus on 4,0 cm. Tee neliön pisteille janan AB määräämä yhdensuuntaissiirto.

105.

a) Montako symmetria-akselia kuviolla on?

b) Väritä yksi ruutu siten, että kuviolla on kaksinkertainen kiertokeskus.



106.

Luettele oheisista kirjaimista ne kirjaimet, joilla

a) on ainoastaan symmetria-akseli

- b) on ainoastaan kiertosymmetriaa
- c) on sekä symmetria-akseli että kiertosymmetriaa.

J M N O P Q R X Y

107.

Suunnittele kuvio, joka on symmetrinen kiertokulmalla 60° .

108.

Piirrä kolmio, joka kärkipisteet ovat $A = (3, 0)$, $B = (5, 1)$ ja $C = (4, 4)$. Piste A siirretään pisteeseen $A' = (0, 1)$. Siirrä muita pisteitä saman verran ja samaan suuntaan kuin pistettä A. Mitkä ovat pisteiden B' ja C' koordinaatit?

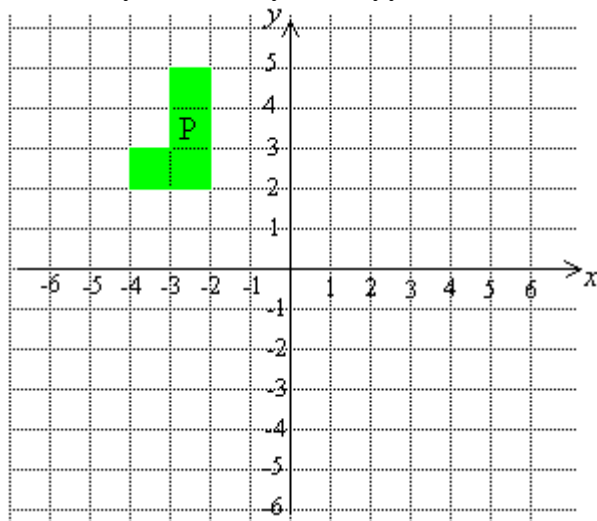
109.

Piirrä ympyrä ja kierrä sitä sen kehällä olevan pisteen suhteen 130° myötäpäivään.

————— vaativat tehtävät —————

110.

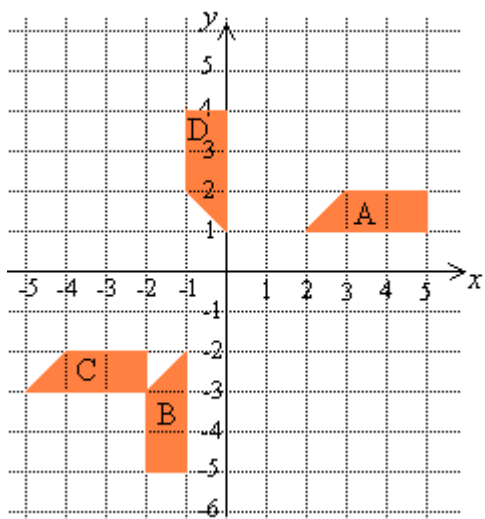
- a) Muodosta kuvio P_1 kiertämällä kuviota P origon suhteen 90° myötäpäivään.
- b) Muodosta kuvio P_2 peilaamalla kuvio P_1 suoran $y = 0$ suhteen.
- c) Mikä yksittäinen yhtenevyyskuvaus olisi siirtänyt kuvion P kuvioksi P_2 ?



111.

Mikä yhtenevyyskuvaus muuttaa kuvion A kuvioksi

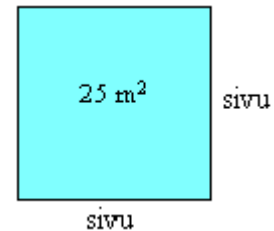
- a) B
- b) C
- c) D?



8. Neliöjuuri

Esimerkki 1.

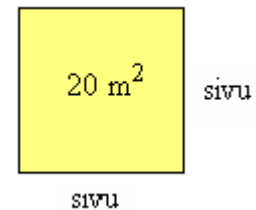
- a) Lasketaan neliön muotoisen lattian yhden sivun pituus, kun lattian pinta-ala on 25 m^2 .



Ratkaisu:

Neliön pinta-ala on 25 m^2 , jolloin yhden sivun pituuden täytyy olla 5 m , koska $5 \text{ m} \cdot 5 \text{ m} = 25 \text{ m}^2$.

- b) Entä jos neliön muotoisen lattian pinta-ala onkin 20 m^2 . Mikä on tällöin yhden sivun pituus?



Ratkaisu:

Jos sivun pituus olisi 4 m , lattian pinta-ala olisi $4 \text{ m} \cdot 4 \text{ m} = 16 \text{ m}^2$. Sivun pituus ei ole nyt kokonaisluku, vaan se täytyy olla jotakin 4 m ja 5 m väliltä. Tehtävän voisi ratkaista kokeilemalla, mutta ratkaisu löytyy helpommin, kun otetaan laskimella *neliöjuuri* luvusta 20 .

juurimerkki

$$\sqrt{20} \approx 4,47$$

neliöjuuren arvo
juurettava

Merkintä luetaan: "neliöjuuri 20" ja

neliöjuuren arvo saadaan laskimesta näppäilemällä $\sqrt{\square} 20$.

$$\text{Tarkistus: } (4,47 \text{ m})^2 = 19,9809 \text{ m}^2 \approx 20 \text{ m}^2$$

Neliön korottamisen käänteinen toiminto on neliöjuuren ottaminen. Neliöjuuri vastaa siis kysymykseen, "Mikä luku on korotettava toiseen potenssiin, jotta saadaan kyseessä oleva luku?". Neliöjuurta ei voi ottaa negatiivisesta luvusta, eikä neliöjuuren arvo ole koskaan negatiivinen.

Luvun a neliöjuuri \sqrt{a} on se positiivinen luku, jonka neliö on a eli

$$\sqrt{a} = b, \text{ jos } b^2 = a \text{ ja } b \geq 0.$$

Esimerkki 2.

- a) Luvun 16 neliöjuuri $\sqrt{16} = 4$, koska luvun 4 neliö $4^2 = 16$.
b) Luvun 9 neliöjuuri $\sqrt{9} = 3$, koska luvun 3 neliö $3^2 = 9$.

Esimerkki 3.

- a) $(\sqrt{3})^2 = 3$
b) $\sqrt{3^2} = 3$
c) $\sqrt{(-3)^2} = \sqrt{3^2} = 3$
d) $\sqrt{-3^2} = \sqrt{-9}$
- Neliön korotus ja neliöjuuren otto kumoavat toisensa.
- ei ole määritelty, koska potenssin kantalukuna on pelkkä 3 ja negatiivisesta luvusta ei voi ottaa neliöjuurta.

Tehtäviä

112.

Lue parillesi ääneen merkinnät.

- a) $\sqrt{13}$
- b) $\sqrt{0,46}$
- c) $-\sqrt{251}$
- d) $\sqrt{\frac{9}{15}}$
- e) $-\sqrt{0,058}$

113.

Täydennä seuraavat.

- a) Jos $4^2 = 16$, niin $\sqrt{16} =$
- b) Jos $8^2 = 64$, niin $\sqrt{64} =$
- c) Jos $11^2 = 121$, niin $\sqrt{121} =$
- d) Jos $15^2 = 225$, niin $\sqrt{225} =$

114.

Merkitse

- a) neliöjuuri luvusta 15
- b) miinus neliöjuuri kaksikymmentä
- c) neliöjuuri luvusta kuusisataakolme

115.

Piirrä vihkoosi neliö, jonka pinta-ala on 16 ruutua. Montako ruutua on neliön sivun pituus?

116.

Montako ruudun sivua on neliön sivun pituus, jos sen pinta-ala on

- a) 9 ruutua
- b) 36 ruutua
- c) 49 ruutua

117.

Onko väite tosi?

- a) $\sqrt{10} = 5$
- b) $\sqrt{49} = -7$
- c) $\sqrt{36} = 6$
- d) $\sqrt{18} = 9$

118.

Laske.

- a) $\sqrt{1}$
- b) $\sqrt{0}$
- c) $\sqrt{49}$

- d) $\sqrt{36}$
- e) $\sqrt{100}$
- f) $\sqrt{64}$
- g) $\sqrt{81}$
- h) $\sqrt{121}$

119. Laskintehtävä

Mikä on neliön sivun pituus, kun sen pinta-ala on

- a) 81 cm^2
- b) 625 cm^2
- c) 2704 cm^2 ?

————— soveltavat tehtävät —————

120.

Omakotitalon tontti on neliön muotoinen ja sen pinta-ala on 1600 m^2 . Paljonko aitaa tarvitaan tontin aitaamiseen, kun tuloaukoksi jätetään 3 m ?

121.

Arvioi ilman laskinta mitä kokonaislukua lähinnä on

- a) $\sqrt{26}$
- b) $\sqrt{48}$
- c) $\sqrt{80}$

122.

Laske.

- a) $\sqrt{0,01}$
- b) $\sqrt{0,0049}$
- c) $\sqrt{1,21}$

123. Laskintehtävä

Mikä luku sopii x :n paikalle?

- a) $\sqrt{x} = 4$
- b) $\sqrt{x} = 7$
- c) $\sqrt{169} = x$
- d) $\sqrt{x} = 19$
- e) $\sqrt{x} = 0,16$

124. Laskintehtävä

Tutki, onko neliöjuurten arvot laskettu oikein.

- a) $\sqrt{20,25} = 4,5$
- b) $\sqrt{25} = -5$
- c) $\sqrt{9999} = 99$

d) $\sqrt{1000} = 10$

125. Laskintehtävä

Laske neliöjuuret kahden desimaalin tarkkuudella.

a) $\sqrt{3}$

b) $\sqrt{30}$

c) $\sqrt{300}$

d) $\sqrt{3000}$

e) $\sqrt{30000}$

f) Kun juuret kerrotaan 100:lla, miten neliöjuuren arvo muuttuu?

126.

Mikä luku on juuretavana, kun neliöjuuren arvo

a) on yhtä suuri kuin juuretavana,

b) on puolet juuretavasta,

c) on kolminkertainen juuretavaan verrattuna?

127. Laskintehtävä

Neliömuotoisen pellon, jonka pinta-ala on 49 ha, reunoille on tehty hiihtolatu. Kuinka pitkän matkan Laura hiihtää, kun hän kiertää hiihtolenkin viisi kertaa? Anna tulos kilometreinä.

128. Laskintehtävä

Voit arvioida uimahypyissä veteen törmäämisnopeuden kaavalla $\text{nopeus} \approx 4,5 \cdot \sqrt{\text{putoamismatka}}$, missä nopeuden yksikkö on m/s ja putoamismatkan m. Laske törmäämisnopeudet hypättäessä

a) 3 metristä

b) 5 metristä

c) 10 metristä.

_____ vaativat tehtävät _____

129.

Kasvin varren halkaisija d riippuu kasvuajasta t yhtälön $d = k\sqrt{t}$ mukaisesti, jossa $k > 0$ on verrannollisuuskerroin. Kasvin varsi on 9 mm paksuinen 36 vuorokauden ikäisenä. Kuinka paksu varsi on 100 vuorokauden ikäisenä? (yo syksy 1997)

130. Laskintehtävä

Suorakulmaiselle tontille, jonka pituus on 38 m itä-länsisuunnassa ja 34 m pohjois-eteläsuunnassa, rakennetaan koilliskulmaan neliön muotoinen talo. Talo sijaitsee 6 m päässä tontin rajoista, ja sen pinta-ala on 120 m^2 . Valitse sopiva mittakaava pohjakaavioille tontista taloineen, kun pohjakaavion pitäisi mahtua 10 cm x 10 cm tilaan paperille ja tontin lyhemmän sivun on kaaviossa oltava vähintään 4 cm. Piirrä luonnos pohjakaaviosta valitsemassasi mittakaavassa. Mikä on tontin neliömetrihinta, kun tontti maksoi 86 000 mk? (yo kevät 1996)

9. Neliöjuurilaskuja

Laskulausekkeissa neliöjuuret ja potenssit ovat samanarvoisia. Jos sulkeita ei ole, eikä juurimerkinnän alla ole laskutoimituksia, lasketaan potenssit ja neliöjuuret ensiksi. Saman juurimerkin alla olevista yhteenlaskettavista tai vähennettävistä ei saa ottaa neliöjuurta erikseen. Tällöin juuretavan olevat laskutoimitukset on suoritettava ensiksi.

Esimerkki 1.

a) $\sqrt{25} - \sqrt{9} = 5 - 3 = 2$

b) $\sqrt{25 - 9} = \sqrt{16} = 4$

Juurimerkki vastaa sulkeita. Sen sisällä olevat laskut lasketaan ensiksi.

Esimerkki 2.

Laketaan lausekkeen $\sqrt{5 \cdot 3 + 3^2}$ arvo laskimella kolmen numeron tarkkuudella.

Laskimesta riippuen näppäily voi tahtua esimerkiksi seuraavasti:

$\sqrt{ (5 \times 3 + 3 x^2) = }$,

jolloin saadan neliöjuuren arvoksi $4,898979486... \approx 4,90$.

Kertolaskussa voidaan neliöjuuri ottaa erikseen kertolaskun tekijöistä ja jakolaskussa erikseen osoittajasta ja nimittäjästä. Sääntöjä voi soveltaa myös toisinpäin tuomalla laskut saman juurimerkinnän alle.

Juurrettavana olevien kerto- ja jakolaskujen laskusäännöt:

$$\sqrt{ab} = \sqrt{a} \cdot \sqrt{b} \quad \text{ja} \quad \sqrt{\frac{a}{b}} = \frac{\sqrt{a}}{\sqrt{b}}$$

Esimerkki 3.

a) $\sqrt{4 \cdot 2} = \sqrt{4} \cdot \sqrt{2} = 2\sqrt{2}$

b) $\sqrt{\frac{4}{9}} = \frac{\sqrt{4}}{\sqrt{9}} = \frac{2}{3}$

$$c) \sqrt{5\frac{1}{16}} = \sqrt{\frac{5 \cdot 16 + 1}{16}} = \sqrt{\frac{81}{16}} = \frac{\sqrt{81}}{\sqrt{16}} = \frac{9}{4} = 2\frac{1}{4}$$

Sekaluvut on muutettava epämurtoluviiksi ennen laskutoimituksia.

$$d) \sqrt{6^2 + 8^2} = \sqrt{36 + 64} = \sqrt{100} = 10$$

Koska yhteenlaskumerkki, ei potensseista voida ottaa erikseen neliöjuurta.

Esimerkki 4.

Sievennetään laskut tuomalla ne saman juurimerkinnän alle.

$$a) \sqrt{2} \cdot \sqrt{8} = \sqrt{2 \cdot 8} = \sqrt{16} = 4$$

$$b) \frac{\sqrt{72}}{\sqrt{2}} = \sqrt{\frac{72}{2}} = \sqrt{36} = 6$$

Tehtäviä

131.

Laske ja ilmoita vastaus murtolukuna.

a) $\sqrt{\frac{9}{25}}$

b) $\sqrt{\frac{4}{81}}$

c) $\sqrt{\frac{1}{16}}$

d) $\sqrt{\frac{1}{36}}$

e) $\sqrt{\frac{49}{100}}$

f) $\sqrt{2\frac{1}{4}}$

132.

Sievennä.

a) $\sqrt{\frac{4}{9}}$

b) $\sqrt{\frac{16}{25}}$

c) $\sqrt{\frac{4}{6}}$

d) $\sqrt{\frac{12}{15}}$

133.

Laske.

a) $\sqrt{9} + \sqrt{16}$

b) $\sqrt{9+16}$

c) $\sqrt{100} - \sqrt{64}$

d) $\sqrt{100-64}$

134.

Laske.

a) $\sqrt{64+16+1}$

b) $\sqrt{64} + \sqrt{16} + \sqrt{1}$

135.

Laske.

- a) $\sqrt{4} \cdot \sqrt{16}$
- c) $\sqrt{4 \cdot 16}$
- b) $\frac{\sqrt{81}}{\sqrt{9}}$
- c) $\sqrt{\frac{81}{9}}$
- d) $\sqrt{9^2}$
- e) $(\sqrt{9})^2$

136.

Laske ja ilmoita vastaus murtolukuna.

- a) $\sqrt{1\frac{9}{16}}$
- b) $\sqrt{7\frac{1}{9}}$
- c) $\sqrt{20\frac{1}{4}}$
- d) $\sqrt{2\frac{7}{9}}$

137. Laskintehtävä

Anna vastaukset kolmen numeron tarkkuudella.

- a) $\sqrt{15-9}$
- b) $\sqrt{2 \cdot 4 + 6}$
- c) $\sqrt{2^2 + 3^2}$
- d) $\sqrt{6 \cdot 7 - 4^2}$

138. Laskintehtävä

Anna vastaukset kolmen numeron tarkkuudella.

- a) $\sqrt{11} + \sqrt{6-4}$
- b) $\sqrt{5} \cdot \sqrt{9+12}$
- c) $\sqrt{13} : 13$
- d) $1 - 2 \cdot \sqrt{3}$

soveltavat tehtävät

139.

Laske.

- a) $\sqrt{2 \cdot 3 + 10}$
- b) $\sqrt{4 \cdot 10 - 3 \cdot 8}$
- c) $\sqrt{3 \cdot 4 - 3}$

d) $\sqrt{3^2 + 4^2}$

140.

Laske.

a) $4 \cdot \sqrt{9} - 2$

b) $\sqrt{4} \cdot \sqrt{1+3}$

c) $\sqrt{49} - \sqrt{1} \cdot \sqrt{16}$

d) $\sqrt{6+1} - 2 \cdot \sqrt{6-6}$

141.

Laske.

a) $\sqrt{2 + \sqrt{4}}$

b) $\sqrt{18 + \sqrt{9} + \sqrt{16}}$

c) $\sqrt{\sqrt{25} + \sqrt{81}} - 5$

142.

Päättele, mikä luku sopii x :n paikalle.

a) $\sqrt{12 + x} = 4$

b) $\sqrt{x - 5} = 5$

c) $\sqrt{2x} = 4$

d) $2\sqrt{x+3} = -6$

143.

Laske.

a) $\sqrt{3} \cdot \sqrt{3}$

b) $\sqrt{2} \cdot \sqrt{18}$

c) $2 \cdot \sqrt{3} \cdot \sqrt{3}$

d) $\sqrt{7} \cdot 3 \cdot \sqrt{7}$

144. Laskintehtävä

Anna vastaukset kolmen numeron tarkkuudella.

a) $\sqrt{-9} \cdot (-4)$

b) $-\sqrt{5,9} - 12 \cdot \sqrt{3}$

c) $\sqrt{-8 \cdot (-5)} + 7$

d) $\sqrt{9 - 6 \cdot 3}$

145.

Laske lausekkeen $x = \frac{-b + \sqrt{b^2 - 4ac}}{2a}$ arvo ilman laskinta, kun

a) $a = 2, b = 3$ ja $c = 1$

b) $a = 1, b = 2$ ja $c = -8$

146.

Ilmoita luvut muodossa $a\sqrt{b}$, jossa a ja b ovat positiivisia kokonaislukuja.

- a) $\sqrt{12}$
- b) $\sqrt{50}$
- c) $\sqrt{25x}$
- d) $\sqrt{18x^2}$
- e) $\sqrt{1000}$
- f) $\sqrt{81a^3}$

147.

Millä x :n arvoilla lausekkeet on määritelty?

- a) $\sqrt{x-2}$
- b) $\sqrt{x+2}$
- c) $\sqrt{1-x}$
- d) $\sqrt{x^2+3}$

_____ vaativat tehtävät _____

148.

Laske lausekkeen $\sqrt{a^2+b^2}$ tarkka arvo, kun $a=2$ ja $b=\frac{8}{3}$. (yo kevät 1984)

149.

Laske lausekkeen $\sqrt{1-a^2}$ tarkka arvo, kun

- a) $a=\frac{1}{2}$
- b) $a=\frac{\sqrt{3}}{2}$

(yo syksy 1987)

150. Laskintehtävä

Tiesitkö, että ihmisen massa kasvaa ihmisen liikkua tarpeeksi nopeasti? Erityisen suureksi se kasvaa, jos nopeus lähestyy valon nopeutta $2,9979246 \cdot 10^8$ m/s. Suhteellisuusteorian mukaan massan kasvu nopeuden kasvaessa saadaan lasketuksi kaavalla

$$\text{uusi massa} = \frac{\text{vanha massa}}{\sqrt{1 - \frac{\text{nopeus}^2}{\text{valon nopeus}^2}}}.$$

Laske massasi, jos liikkuisit nopeudella


- a) 29 m/s
- b) 290 m/s
- c) $2,9 \cdot 10^8$ m/s
- d) $2,99 \cdot 10^8$ m/s
- e) $2,9979 \cdot 10^8$ m/s

f) $2,9979245 \cdot 10^8$ m/s

151.

Minkä positiivisen luvun neliöjuuri on luku $\sqrt{5} - 2$? Anna vastaus sekä tarkkana arvona että likiarvona kolmen merkitsevän numeon tarkkuudella. (yo syksy 1994)

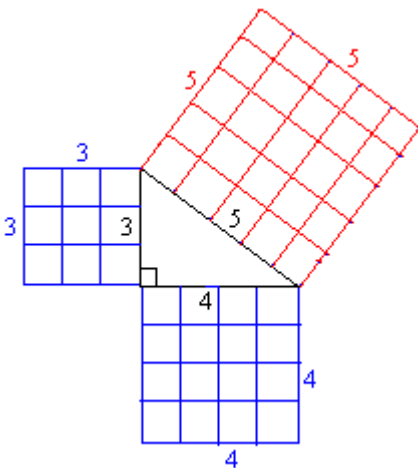
10. Pythagoraan lause



Hypotenuusa on suorakulmaisessa kolmiossa suoran kulman vastainen sivu. Suoran kulman viereisiä sivuja sanotaan *kateeteiksi*.

Huom! Hypotenuusa on aina suorakulmaisen kolmion pisin sivu.

Tarkasteellaan suorakulmaista kolmiota, jonka kateettien pituudet ovat 3 ja 4 ja hypotenuusan pituus on 5.



Piirretään kolmion sivuille neliöt, joiden sivujen pituudet ovat yhtä suuret kuin kolmion sivujen pituudet.

Kateettien neliöiden pinta-alat: $3^2 = 9$ ja $4^2 = 16$

Hypotenuusan neliön pinta-ala: $5^2 = 25$

Jos kateettien neliöiden pinta-alat lasketaan yhteen $9+16=25$, saadaan hypotenuusan neliön pinta-ala. Tämä ominaisuus on voimassa kaikissa suorakulmaisissa kolmioissa ja se tunnetaan nimellä *Pythagoraan lause*.

Pythagoraan lause: Suorakulmaisessa kolmiossa kateettien neliöiden summa on hypotenuusan neliö.

$$a^2 + b^2 = c^2$$

Pythagoraan lauseen avulla voidaan tutkia onko kolmio suorakulmainen.

Kolmion suorakulmaisuu den tutkiminen

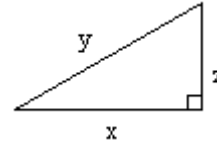
Jos kolmion kahden lyhemmän sivun neliöiden summa on yhtä suuri kuin pisimmän sivun neliö, on kolmio suorakulmainen.

Tehtäviä

152.

Mikä oheisen suorakulmaisen kolmion sivuista on

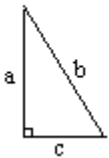
- a) hypotenuusa
- b) kateetti?



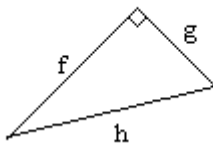
153.

Nimeä kolmion sivusta kateetit ja hypotenuusa.

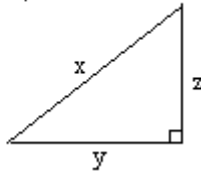
a)



b)



c)



154.

Voiko suorakulmaisessa kolmiossa kateetti olla pidempi kuin hypotenuusa?

155.

Mitkä seuraavista suorakulmaisen kolmion sivujen pituuksista ovat kateetteja ja mitkä hypotensuusia?

- a) 13 cm, 27 cm ja 24 cm
- b) 1,6 m, 2,4 m ja 2,9 m
- c) 58 km, 42 km ja 40 km

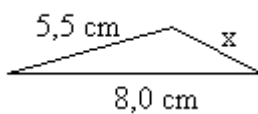
156.

Onko kolmio suorakulmainen, jos kolmion sivujen pituudet ovat

- a) 11 cm, 20 cm ja 9 cm
- b) 8 cm, 6 cm ja 10 cm
- c) 7 cm, 24 cm ja 25 cm?

157.

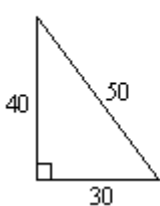
Miksi sivun x pituutta ei voida ratkaista Pythagoraan lauseen avulla oheisesta kolmiosta?



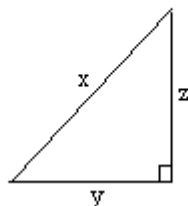
158.

Kirjoita Pythagoraan lause seuraavien kolmioiden avulla.

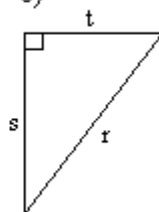
a)



b)



c)



159.

Mikä luonnollinen luku sopii x :n paikalle?

- a) $x^2 + 19^2 = 386$
- b) $15^2 + x^2 = 17^2$
- c) $12^2 + 5^2 = x^2$
- d) $30^2 + x^2 = 1341$

160.

Kolmion sivujen pituudet ovat 1 cm, 16 cm ja 17 cm. Onko kolmio suorakulmainen? (yo keväät 1987)

_____ soveltavat tehtävät _____

161.

Piirrä suorakulmainen kolmio ja mittaa sen sivujen pituudet. Osoita laskemalla, että kolmio on suorakulmainen.

162.

Suorakulmaisen kolmion kateetit ovat 8,0 m ja 6,0 m. Laske kolmion pinta-ala.

163.

Suorakulmaisen kolmion sivujen pituudet ovat 6,0 cm, 8,0 cm ja 10,0 cm. Laske kolmion pinta-ala.

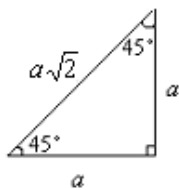
164.

Suorakulmaisen kolmion sivujen pituudet ovat 12 cm, 16 cm ja 20 cm. Laske kolmion pinta-ala.

_____ vaativat tehtävät _____

165.

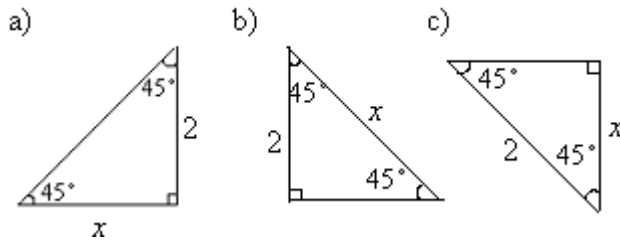
Tarkastellaan oheista muistikolmiota. Onko väite tosi?



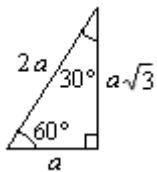
- a) Kateetista saa hypotenuusan kertomalla luvulla $\sqrt{2}$.
- b) Hypotenuusa on lyhyempi kuin kateetti.
- c) Hypotenuusasta saa kateetin jakamalla luvulla $\sqrt{2}$.

166.

Ratkaise kolmiosta x :llä merkityn sivun pituus muistikolmion avulla.

**167.**

Tarkastellaan oheista muistikolmiota. Onko väite tosi?

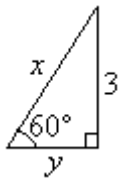


- Hypotenuusasta saa lyhimmän kateetin jakamalla luvulla 2.
- Pidemmästä kateetista saa lyhimmän kateetin jakamalla luvulla $\sqrt{3}$.
- Hypotenuusasta saa pidemmän kateetin kertomalla luvulla $\sqrt{3}$.
- Lyhemmästä kateetista saa hypotenuusan kertomalla luvulla 2.

168.

Ratkaise kolmioista muistikolmion avulla

- hypotenuusan x pituus
- kateetin y pituus.

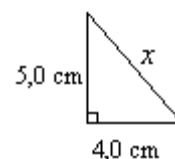


11. Pythagoraan lauseen sovelluksia

Pythagoraan lauseen avulla voidaan ratkaista mikä tahansa suorakulmion sivun pituuksista, jos kaksi sen muista sivunpituuksista tunnetaan. Kun Pythagoraan lauseeseen sijoitetaan arvoja, on oltava tarkkana, että sijoittaa kateettien pituudet ja hypotenuusan pituuden oikeaan paikkaan. Tämän jälkeen tuntematon muuttuja ratkeaa normaaleja yhtälönratkaisusääntöjä noudattaen.

Esimerkki 1.

Lasketaan viereisen suorakulmaisen kolmion hypotenuusan pituus, kun tiedetään kateettien pituudet.



Sijoitetaan sivujen pituuden Pythagoran lauseeseen.

$$x^2 = 4,0^2 + 5,0^2$$

$$x^2 = 16,0 + 25,0$$

$$x^2 = 41,0$$

Neliön korotus ja neliöjuuren otto kumoavat toisensa, joten x :n potenssista päästään eroon ottamalla yhtälön molemmilta puolilta neliöjuuri.

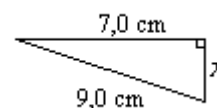
$$x = \sqrt{41,0}$$

$$x \approx 6,4$$

Vastaus: Hypotenuusan pituus on 6,4 cm.

Esimerkki 2.

Lasketaan viereisen suorakulmaisen kolmion sivun x pituus.



Koska kolmio on suorakulmainen, voidaan soveltaa Pythagoraan lausetta. Kysytty sivu on kateetti ja toinen kateeteista on 7,0 cm. Hypotenuusan pituus on 9,0 cm.

$$x^2 + 7,0^2 = 9,0^2$$

$$x^2 = 9,0^2 - 7,0^2$$

$$x^2 = 32,0$$

$$x = \sqrt{32,0}$$

$$x \approx 5,7$$

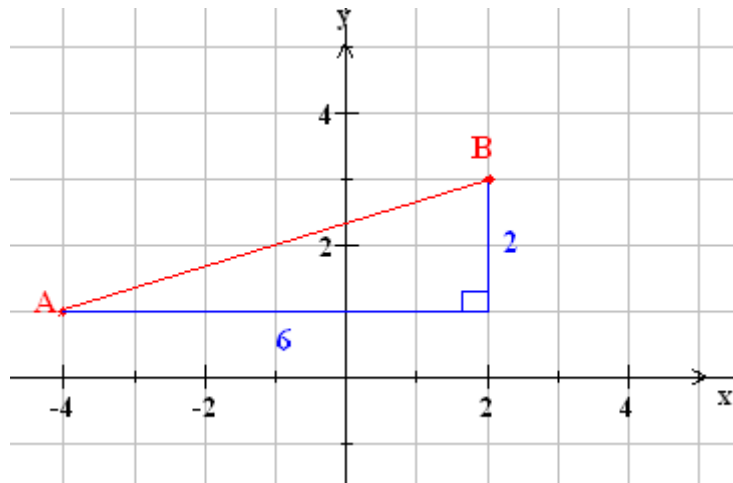
Vastaus: Sivun x pituus on 5,7 cm.

Esimerkki 3.

Pisteen A koordinaatit ovat (-4, 1) ja pisteen B (2,3). Laske kuinka kaukana pisteet ovat toisistaan.

Ratkaisu:

Sijoitetaan pisteet A ja B koordinaatistoon ja yhdistetään ne janalla. Täydennetään kuvio suorakulmaiseksi kolmioksi.



Pisteiden etäisyys on suorakulmaisen kolmion hypotenuusan pituus, joten se voidaan laskea käyttämällä Pythagoraan lausetta.

$$AB^2 = 6^2 + 2^2$$

$$AB^2 = 36 + 4$$

$$AB^2 = 40$$

$$AB = \sqrt{40}$$

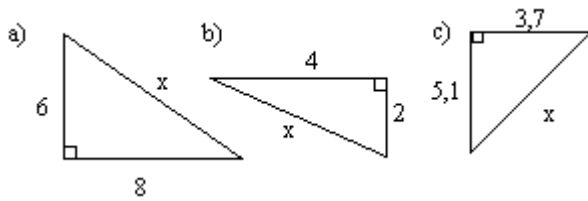
$$AB \approx 6,3$$

Vastaus: Pisteiden A ja B välinen etäisyys on 6,3.

Tehtäviä

169.

Määritä kolmioista sivun x pituus.



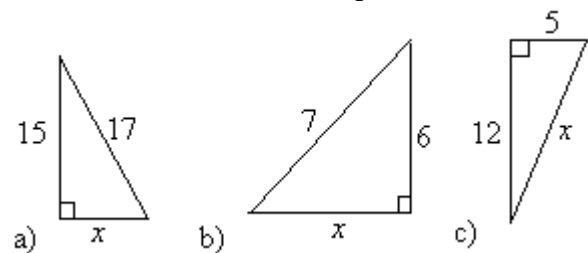
170.

Laske hypotenuusan pituus, kun kateetit ovat

- a) 3 cm ja 4 cm
- b) 6,0 m ja 7,0 m
- c) 9,3 cm ja 11,2 cm

171.

Määritä kolmioista sivun x pituus.



172.

Laske kateetin pituus, kun

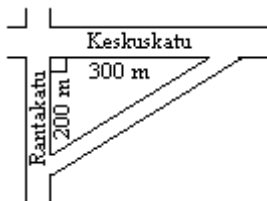
- a) hypotenuusa on 5 cm ja toinen kateetti on 4 cm
- b) hypotenuusa on 9,0 cm ja toinen kateetti on 5,0 cm
- c) hypotenuusa on 13,2 cm ja toinen kateetti on 7,3 cm.

173.

Suorakulmaisen kolmion toinen kateetti on 24 mm ja toinen on 46 mm pidempi. Laske hypotenuusan pituus.

174.

Paljonko polku oikaisee, kun kuljetaan Keskuskatua pitkin Rantakadulle?



soveltavat tehtävät

175.

Kuinka pitkä on pisteiden (1,1) ja (3,4) välinen jana?

176.

Laske pisteiden etäisyys origosta.

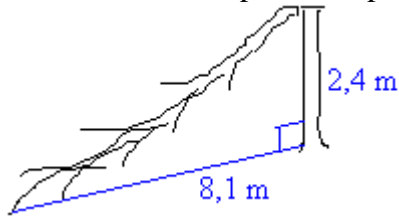
- a) (2,-4)
- b) (-1,3)
- c) (3,1)

177.

Lauri purjehti ensin 7,0 km länteen sitten 5,0 km etelään. Kuinka kaukana Lauri oli lähtöpisteestä?

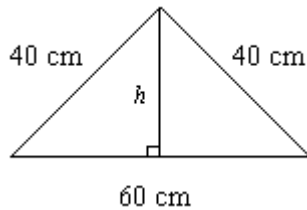
178.

Laske katkenneen puun alkuperäinen pituus.



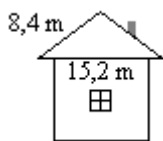
179.

Laske kolmion korkeusjanan h pituus.



180.

Laske talon ullakon korkeus.



181.

Suunnistaja juoksee 4,0 km pohjoiseen ja sitten 2,1 km itään. Kuinka kauas hän on edennyt lähtöpaikastaan?

182.

Kahden puun etäisyys on 25,0 m. Puiden korkeudet ovat 22,0 m ja 9,5 m. Laske puiden latvojen välinen etäisyys.

183.

Tasakylkisen kolmion kyljet ovat 8,3 cm ja kanta 6,8 cm.

- a) Piirrä kolmio ja merkitse kuvaan kannan vastainen korkeus.
- b) Mikä on kolmion korkeus?

c) Mikä on kolmion pinta-ala?

184.

Tasasivuisen kolmion sivun pituus on 6,5 cm.


a) Piirrä kolmio ja merkitse kuvaan kannan vastainen korkeus.

b) Mikä on kolmion korkeus?

c) Mikä on kolmion pinta-ala?

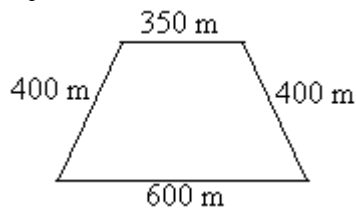
185.

Puutarhurilla on käytettävänä 10 suorakaiteen muotoista laattaa, joiden koko on 20cm·60cm. Kuinka pitkälle matkalle laatat riittävät eri tavoilla laitettuna? Ilmoita vastaukset metreinä.



186.

Maanviljelijällä on puolisuunnikkaan muotoinen pelto. Monenko hehtaarin alueella hän voi viljellä siinä vehnää?



187.

Lattia on suorakulmion muotoinen. Lattian toinen sivu on 7,4 m ja lävistäjä 9,2 m. Laske lattian pinta-ala.

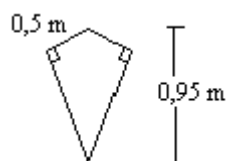
_____ vaativat tehtävät _____

188.

Johda pythagoraan kaavasta $c^2 = a^2 + b^2$ laskukaavat kateettien pituuksille yhtälön ratkaisun sääntöjä noudattaen.

189.

Laske kuvan mukaisen leijan pinta-ala. (pääsykoetehtävä teknikkokoulutukseen, kevät 1992)

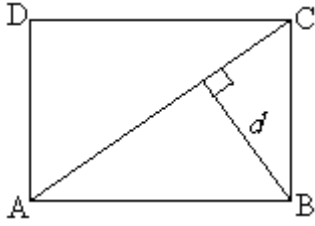


190.

Ohuen, jäykän levyn pituus on 250 cm ja leveys 210 m. voidaanko levy viedä oviaukosta, jonka leveys on 80 cm ja korkeus 200 cm? (yo kevät 1997)

191.

Suorakulmion ABCD sivut ovat $AB = 220$ mm ja $BC = 165$ mm. Laske kärjen B etäisyys d lävistäjästä AC. (pääsykoetehtävä teknikkokoulutukseen, kevät 1993)



12. Ympyrän kehän pituus ja pinta-ala



Jokaisen ympyrän kehän pituuden p ja halkaisijan pituuden d suhde on sama luku. Tämän suhteen tarkkaa arvoa merkitään kreikkalaisella kirjaimella π :

$$\pi = \frac{p}{d} \approx 3,1415926535\dots$$

π (luetaan: pii) on päättymätön ja jaksoton desimaaliluku (eli irrationaaliluku). Sekä ympyrän kehän pituuden että ympyrän pinta-alan laskuissa käytetään yleensä laskimessa olevaa π :n likiarvoa tai likiarvoa 3,14.

Koska ympyrän halkaisijan pituus on kaksi kertaa säteen pituus, voidaan ympyrän kehän pituuden ja ympyrän pinta-alan laskukaavat muodostaa joko halkaisijan tai säteen avulla.

Ympyrän kehän pituus p on luvun π ja halkaisijan d pituuden tulo

$$p = \pi d = 2\pi r.$$

Ympyrän pinta-ala A on luvun π ja säteen r neliön tulo.

$$A = \pi r^2$$

Esimerkki 1.

Linnanmäellä olevan maailmanpyörän halkaisija on 24,0 m. Lasketaan kuinka pitkä matka kuljetaan yhden kierroksen aikana laskemalla maailmanpyörän kehän pituus

$$p = \pi d = 3,14 \cdot 24,0 \text{ m} = 75,4 \text{ m}$$

Vastaus: Yhden kierroksen aikana kuljetaan 75,4 metriä.

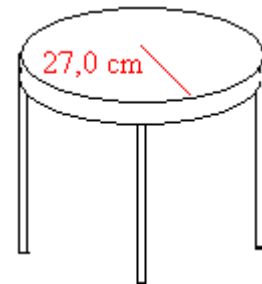


Esimerkki 2.

Lasketaan ympyrän muotoisen yöpöydän pinta-ala, kun sen säde on 27,0 cm.

$$A = \pi r^2 = 3,14 \cdot (27,0 \text{ cm})^2 = 2289 \text{ cm}^2 \approx 2290 \text{ cm}^2$$

Vastaus: Yöpöydän pinta-ala on 2290 cm² eli 0,229 m².



Tehtäviä

192.

Laske ympyrän kehän pituus, kun ympyrän halkaisija on

- a) 1,0 cm
- b) 3,0 cm
- c) 5,1 cm
- d) 6,7 cm.

193.

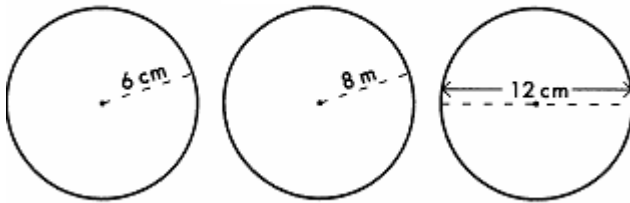
Laske ympyrän kehän pituus, kun ympyrän säde on

- a) 2,0 cm
- b) 4,0 cm
- c) 7,2 cm
- d) 19,0 cm.

194.

Laske kuvan ympyröiden kehän pituudet.

- a) b) c)



195.

Laske edellisen tehtävän ympyröiden pinta-alat.

196.

Laske ympyrän pinta-ala, kun sen säde on

- a) 1,0 cm
- b) 2,0 cm
- c) 5,2 cm
- d) 12,8 cm

197.

Mittaa 1 € kolikosta halkaisija ja laske sen perusteella kolikon

- a) kehän pituus ja
- b) pinta-ala.

198.

Laske ympyrän pinta-ala, kun sen halkaisija on

- a) 3,0 m
- b) 16,0 m
- c) 25,4 m
- d) 210,0 m

199.

Mikä on ympyrän pinta-ala, kun sen

- a) säde on 22 cm
- b) halkaisija on 1,5 m?

200.

Laske ympyrän halkaisijan pituus, kun kehän pituus on

- a) 3,0 cm
- b) 25,0 cm
- c) 176,0 cm

— soveltavat tehtävät —

201.

Piirrä vihkoosi ympyrä, jonka kehän pituus on

- a) 5,0 cm
- b) 10,0 cm
- c) 15,0 cm.

202.

Polkupyörän renkaan säde on 33 cm. Montako kertaa rengas pyörähtää 2 kilometrin matkalla?

203.

Laske renkaan kehän pituus tuumina ja senttimetreinä, kun polkupyörän renkaan halkaisija on

- a) 26,0 tuumaa
- b) 28,0 tuumaa.

204.

Kuinka suuri ympyrän muotoinen alue saadaan aidatuksi 62,0 m pitkällä köydellä?

205.

Suihkulähde on puoliympyrän muotoinen. Sen säde on 1,8 m. Laske suihkulähteen

- a) piiri
- b) pinta-ala.

206.

Pyöreän pöydän halkaisija on 150 cm. Laske tarvittavan pöytäliinan pinta-ala, kun liina ulottuu vielä 8,0 cm reunan ulkopuolelle.

207.

Ympyrän piiri on 2,95 cm. Laske sen säde ja pinta-ala.

208.

Täydennä taulukko.

säde [cm]	halkaisija [cm]	kehän pituus [cm]	pinta-ala [cm ²]
11,0			
	19,8		
		128,0	
			198
			1500

209.

Maailman pienin ajokelpoinen yksipyöräinen on 20 senttiä korkea ja sen pyörän halkaisija on 1,8 senttiä. Sen rakensi ruotsalainen Signar Berglund, ja hänen maanmiehensä Peter Rosendahl on ajanut sillä useita kertoja. Pisin matka on 8,5 metriä, jonka Rosendahl ajoi saksalaisessa televisio-ohjelmassa 29.3.1998. Montako kierrosta pyörä pyöri ajon aikana?

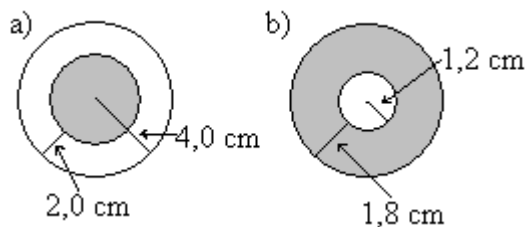
210.

Piirrä ympyrä, jonka pinta-ala on

- a) 10 cm^2
- b) 20 cm^2
- c) 50 cm^2 .

211.

Laske tummennetun alueen pinta-ala.



212.

Ympyrän pinta-ala on 50 m^2 . Laske ympyrän säde, halkaisija ja kehän pituus.

213.

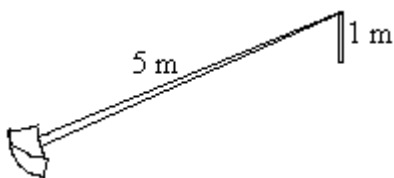
Mikä on ympyrän säde, kun sen pinta-ala on 20 cm^2 ?

214.

Origokeskisen ympyrän säde on 9. Selvitä laskemalla onko piste $A = (-4,8)$ ympyrän sisä- vai ulkopuolella?

215.

Napakelkka rakennetaan keskuspuusta (jonka korkeus maanpinnan yläpuolella on 1,0 m) ja 5,0 metrin työntöpuusta. Kuinka pitkän matkan kelkka kulkee yhdellä kierroksella?



216.

Laske Maapallon, Kuun ja Auringon ympärysmittat, kun niiden säteet ovat seuraavat: Maapallo 6378 km , Kuu 1738 km ja Aurinko $6,96 \cdot 10^5 \text{ km}$.

Tiesitkö, ettei maa ole aivan pallon muotoinen, vaan se on navoiltaan litistynyt? Maapallon halkaisija on päiväntasaajalta mitattuna 43 km pidempi, kuin jos mitataan maapallon pyörimisakselin pituus etelänvalta pohjoisnavalle. Litistymisen aiheuttaa päiväntasaajalla ilmenevä

suurempi keskeisvoima. Keskeisvoiman vaikutuksen pystyt tuntemaan, kun autolla ajetaan riittävä kovaa mutkaista tietä.

217.

Kuinka kauan kestäisi kävellä maapallon ympäri, jos kävelyvauhti on 6 km/h (oletetaan, että voidaan kulkea suorinta reittiä)?

———— vaativat tehtävät —————

218.

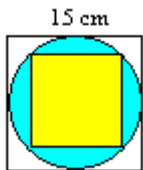
Maapallo kiertää aurinkoa nopeudella 29,78 km/s. Laske yhteen kierrokseen kuluva aika, kun maapallon keskimääräinen etäisyys auringosta on $149,597 \cdot 10^9$ m. Mitä itse asiassa tulit laskeeneeksi?

219.

Kellohametta valmistettaessa tarvitaan kahden samankeskisen ympyräviivan rajoittama pala kangasta. Sisempi ympyrä muodostaa hameen vyötärön ja ulompi helman. Tytölle, jonka vyötärön ympärysmitta on 60 cm, halutaan ommella 60 cm pitkä kelohame. Kuinka leveää kangaan pitää vähintään olla, jotta siitä voitaisiin leikata hameeseen tarvittava ympyrärenkaan muotoinen pala? Saumavaroja ja päärmeitä ei tarvitse ottaa huomioon. (yo kevät 1998)

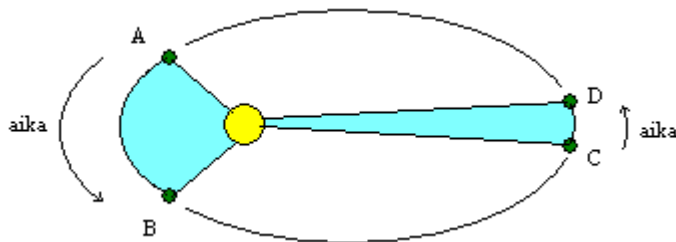
220.

Laske pienemmän neliön ala, kun suuremman neliön sivun pituus on 15 cm.



Miten maapallo kiertää aurinkoa ympäri?

Maapallo ei kierrä Aurinkoa ympäri aivan ympyrän muotoista rataa. 1600-luvun alussa Johannes Kepler havaitsi, että planeettojen kiertoradat Auringon ympäri ovat ellipsejä eli litistyneen ympyrän muotoisia ja niiden toisessa polttopisteessä sijaitsee aurinko. Planeetoista Venuksen kiertorata on lähinnä ympyrää, soikein rata on puolestaan Plutolla.

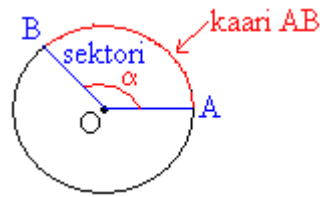


Kaikki planeetat kiertävät Aurinkoa samaan suuntaan, Auringon pohjoisnavalta katsottuna vastapäivään. Planeetan kiertoaika Auringon ympäri määrää kyseisen planeetan vuoden pituuden: Lyhyin vuosi, 88 päivää, on Merkuriuksella, pisin, noin 248 vuotta, Plutolla. Maapallon vuosi on tarkalleen 365,26 päivää.

Tiesitkö, ettei Maapallon nopeuskaan ole koko ajan sama? Kun Maapallo siirtyy pisteestä A pisteeseen B kuluu siihen yhtä paljon aikaa, kun jos Maapallo siirtyy pisteestä C pisteeseen D. Pisteiden A ja B sekä Auringon muodostaman alueen pinta-ala sitä vastoin on yhtä suuri kuin Auringon ja pisteiden C ja D muodostaman alueen pinta-ala. Koska matka pisteestä A pisteeseen B on paljon pitempi kuin matka pisteestä C pisteeseen D, täytyy Maapallon kulkea huomattavasti nopeammin lähellä Aurinkoa. Tämä voidaan selittää kappaleiden vetovoiman perusteella. Kun Maa on lähellä Aurinkoa, vetää Aurinko sitä voimakkaammin puoleensa. Jotta Maapallo silti pysyisi radallaan, eikä muuttaisi suuntaansa kohti aurinkoa, on sen kuljettava nopeammin.

Samaa lakia noudattavat myös aurinkokunnan ulkopuolelta tulevat pyrstötähdet ja samaan tapaan Kuu kiertää Maapalloa ympäri.

13. Ympyrän sektorin kaaren pituus ja pinta-ala



Kaksi sädettä OA ja OB sekä ympyrän kaari AB rajaavat *sektorin*. Sektorin *keskuskulman* α kärki on ympyrän keskipisteessä.

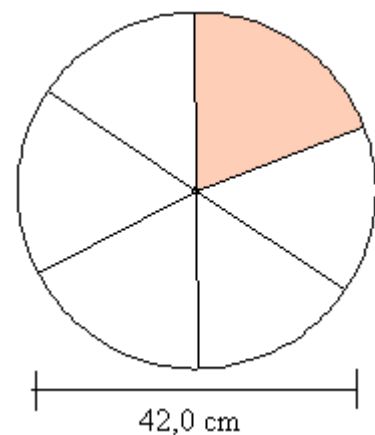
Esimerkki 1.

Perhepizzan halkaisija on 42,0 cm. Tällöin sen pinta-ala on $A = \pi r^2 = 3,14 \cdot (21,0 \text{ cm})^2 \approx 1385 \text{ cm}^2$

ja kehän pituus

$$p = \pi d = 3,14 \cdot 42 \text{ cm} \approx 132 \text{ cm} .$$

Jaetaan pizza tasan kuuden henkilön kesken ja lasketaan kunkin saaman sektorin osat:



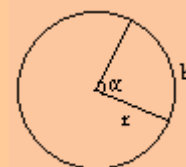
keskuskulma [°]	pinta-ala [cm ²]	kaaren pituus [cm]
360	1385	132
60	231	22

Yhden pizzapalan pinta-ala on siis kuudesosa koko pizzasta eli 231 cm² ja vastaavasti pizzapalan kaaren pituus on 22 cm.

Sektorin keskuskulman suuruus, pinta-ala ja kaaren pituus muuttuvat samassa suhteessa. Sektorin laskukaavoissa se kuinka suuri osa ympyrästä otetaan, ilmaistaan keskuskulman ja koko ympyrän astelukujen suhteena.

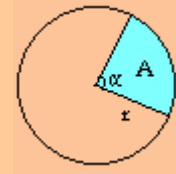
Ympyrän sektorin kaaren pituus

$$b = \frac{\alpha}{360^\circ} 2\pi r$$



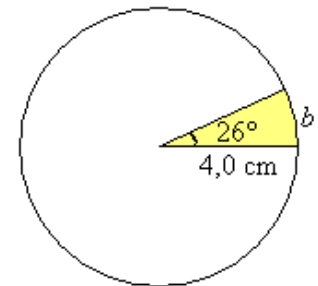
Ympyrän sektorin pinta-ala on

$$A = \frac{\alpha}{360^\circ} \pi r^2$$



Esimerkki 2.

Ympyrän säde on 4,0 cm. Lasketaan 26° keskuskulmaa vastaavan sektorin



a) kaaren pituus

$$b = \frac{\alpha}{360^\circ} 2\pi r = \frac{26^\circ}{360^\circ} \cdot 2 \cdot 3,14 \cdot 4,0 \text{ cm} \approx 1,8 \text{ cm}$$

b) pinta-ala

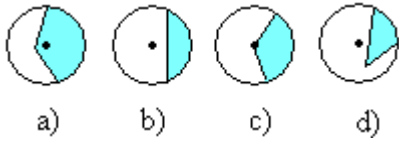
$$A = \frac{\alpha}{360^\circ} \pi r^2 = \frac{26^\circ}{360^\circ} \cdot 3,14 \cdot (4,0 \text{ cm})^2 \approx 3,6 \text{ cm}^2$$

Vastaus: Sektorin kaaren pituus on 1,8 cm ja pinta-ala 3,6 cm².

Tehtäviä

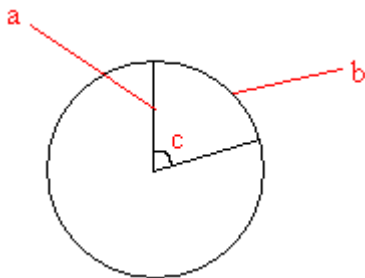
221.

Mikä tummennetuista alueista kuvaa ympyrän sektoria?



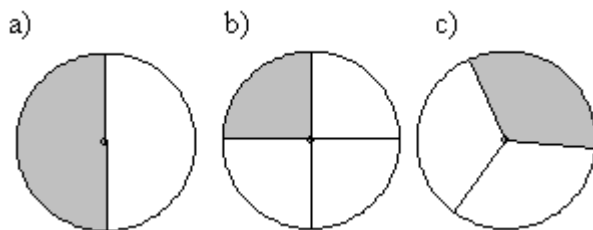
222.

Nimeä ympyrän osat.



223.

Ilmoita tummennettujen sektoreiden keskuskulmien suuruudet, kun ympyrät on jaettu yhtäsuuriin osiin.



224.

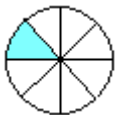
Ilmoita edellisen tehtävän sektoreiden pinta-alat, jos koko ympyrän pinta-ala on 150 cm^2 .

225.

Ympyrä on jaettu yhtä suuriin sektoreihin kuvan mukaisesti. Mikä on sektorin

a) keskuskulman suuruus?

b) kaaren pituus, kun ympyrän kehän pituus on $2,0 \text{ m}$?



226.

Jäljennä taulukko vihkoosi ja täydennä siihen puuttuvat tiedot.

sektorin keskuskulma [°]	sektorin kaaren pituus [cm]
360	32
90	
	16
45	
	2

227.

Ympyrän säde on 3,0 m. Laske sektorin kaaren pituus, kun sen keskuskulma on

- a) 180°
- b) 45°
- c) 30°
- d) 25°

228.

Jäljennä taulukko vihkoosi ja täydennä siihen puuttuvat tiedot.

sektorin keskuskulma [°]	sektorin pinta-ala [cm ²]
360	60
	30
90	
	6
6	

229.

Ympyrän säde on 4,0 m. Laske sektorin pinta-ala, kun sen keskuskulma on

- a) 120°
- b) 90°
- c) 30°
- d) 20°

230.

Ympyrän säde on 5,0 cm. Laske 40° keskuskulmaa vastaavan

- a) sektorin ala
- b) kaaren pituus

231.

Ympyrän säde on 10 cm ja keskuskulma 39° . Laske sektorin

- a) kaaren pituus.
- b) pinta-ala

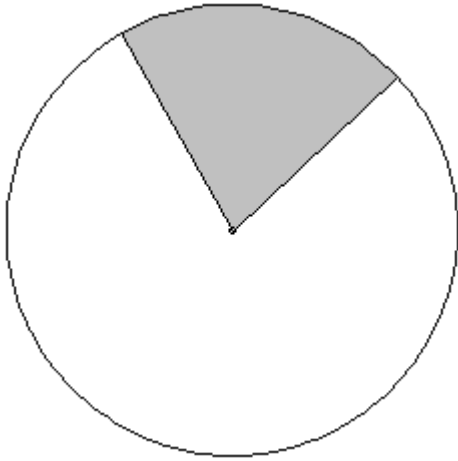
232.

Ympyrän halkaisija on 6,0 m. Laske 60° keskuskulmaa vastaavan

- a) kaaren pituus
- b) sektorin ala

233.

Mittaa tarvittavat osat oheisesta ympyrästä, jotta voit laskea tummennetun sektorin kaaren pituuden ja pinta-alan.



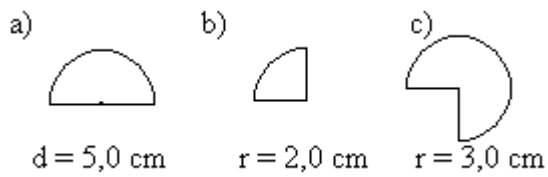
234.

Armeija harjoittelee ampuma-alueella, jonka laajuus on 35° ja kantama 25 km. Laske vaarallisen alueen suuruus.

— soveltavat tehtävät —

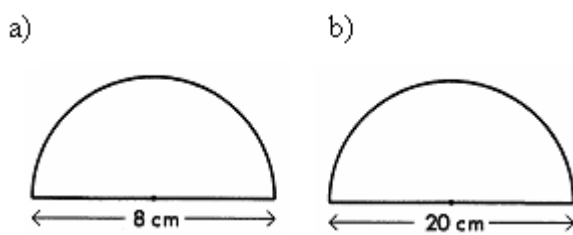
235.

Laske kuvioiden piirit.



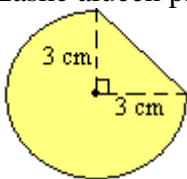
236.

Laske kuvan puoliympyröiden piirit ja pinta-alat.



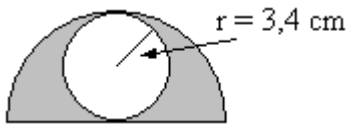
237.

Laske alueen pinta-ala.



238.

Laske tummennetun alueen pinta-ala.



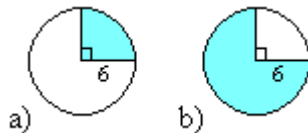
239.

Kuinka pitkän kaaren kellon minuuttiviisari, jonka pituus on 7,5 cm, kulkee

- viiden minuutin aikana
- kahdenkymmenen minuutin aikana?

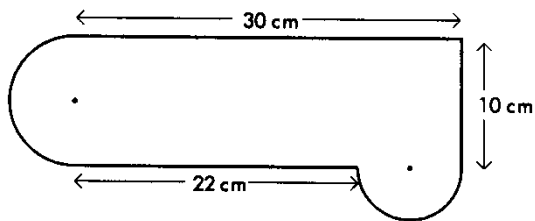
240.

Laske tummennetun sektorin pinta-alan tarkka arvo. (Vastauksessa esiintyy π .)



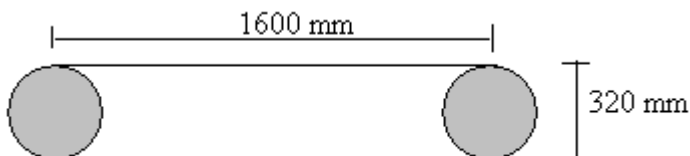
241.

Laske kuvion piiri ja pinta-ala.



242.

Hihnapyörien keskiöväli on 1600 mm ja molempien hihnapyörien halkaisija on 320 mm. Kuinka pitkä hihna on?



———— vaativat tehtävät —————

243.

Kuinka suuri on sektorin keskuskulma, jos ympyrän säde on 16 cm ja sektorin kaaren pituus 25 cm?

244.

Laske sektorin keskuskulman suuruus, jos ympyrän halkaisija on 10,0 m ja pinta-ala 26,18 m²?

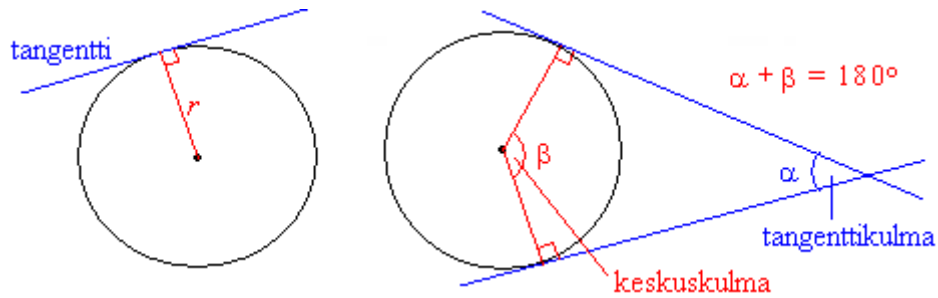
245.

Laiva lähtee Mogadishusta Somaliasta (45° itäistä pituutta) päiväntasaajaa pitkin kohti Sumatraa (100° itäistä pituutta). Päiväntasaajan pituus on 40 000 km.

- a) Kuinka pitkän matkan laiva kulkee?
- b) Kuinka paljon pidemmän matkan lentää lokki, joka pysyttelee koko ajan 10 m laivan yläpuolella?

14. Ympyrän tangenttikulma

Ympyrän *tangentti* on suora, joka kulkee säteen kehällä olevan päätepisteen kautta ja on kohtisuorassa sädettä vastaan. Tangentti siis sivuaa ympyrää ainoastaan yhdessä pisteessä ja sen etäisyys ympyrän keskipisteestä on säteen suuruinen.



Ympyrän ulkopuolisen pisteen kautta voidaan ympyrälle piirtää kaksi tangenttia. Kulmaa, jonka kyljet sijaitsevat ympyrän tangenteilla, sanotaan *tangenttikulmaksi*. Tangenttikulman kyljet kärjestä sivuamispisteisiin ovat yhtä pitkät.

Tangenttikulman ja sitä vastaavan keskuskulman summa on 180° .

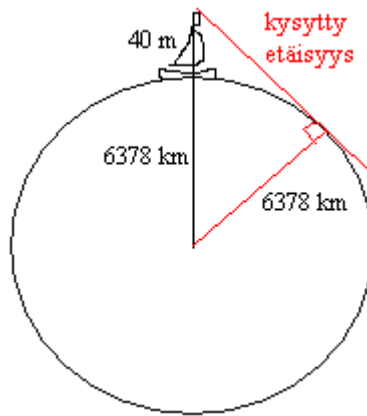
Esimerkki 1.

Lasketaan keskuskulman suuruus, kun sitä vastaavan tangenttikulman suuruus on 40° .

Tangenttikulman ja sitä vastaavan keskuskulman summa on 180° , joten keskuskulma on $180^\circ - 40^\circ = 140^\circ$.

Esimerkki 2.

Purjelaivan tähystyskori sijaitsee 40 m korkeudessa. Lasketaan kuinka kauaksi sieltä voi nähdä tyynellä säällä. Maapallon säde on 6378 km. (kuvan mittasuhteet eivät ole oikein)



Kuvioon muodostuu suorakulmainen kolmio, jonka toinen kateeteista on kysytty etäisyys. Hypotenuusan pituus on $6378 \text{ km} + 0,040 \text{ km} = 6378,040 \text{ km}$.

$$\text{kysytty etäisyys} = \sqrt{(6378,040 \text{ km})^2 - (6378 \text{ km})^2} = 22,5885... \text{ km} \approx 23 \text{ km}$$

Vastaus: Tähestystornista voi nähdä 23 km päähän.

Huom! Todellisuudessa matka mitataan maapallon pintaa pitkin eli tässä pitäisi laskea sektorin kaaren pituus, mutta koska sektorin keskuskulma on hyvin pieni, on oikeakin tulos kilometrien tarkkuudella sama.

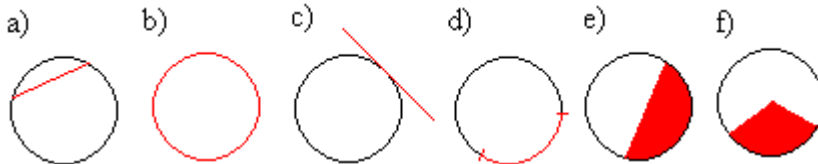
Tehtäviä

246.

Kuinka monta yhteistä pistettä voi ympyrällä ja tangentilla enintään olla?

247.

Yhdistä kuvat ja nimitykset.



segmentti jänne sektori kehä kaari tangentti

248.

Piirrä ympyrä ja sille tangentti. Peilaa ympyrä tangentin suhteen.

249.

Piirrä ympyrä, jonka säde on 3 cm ja sen ulkopuolelle piste P, joka on 7 cm:n päässä ympyrän keskipisteestä. Piirrä pisteestä P ympyrälle kaksi tangenttia. Mittaa tangenttikulman ja sitä vastaavan keskuskulman suuruudet.

250.

Piirrä ympyrä ja sille kaksi yhdensuuntaista tangenttia.

251.

Laske tangenttikulman suuruus, kun vastaava keskuskulma on

- a) 62°
- b) 98°
- c) 154°

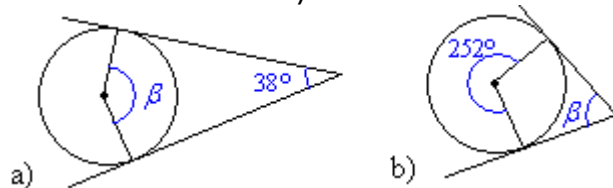
252.

Laske keskuskulman suuruus, kun vastaava tangenttikulma on

- a) 52°
- b) 29°
- c) 70°

253.

Kuinka suuri on kulma β ?



254.

Mikä on keskuskulmaa 186° vastaava tangenttikulma?

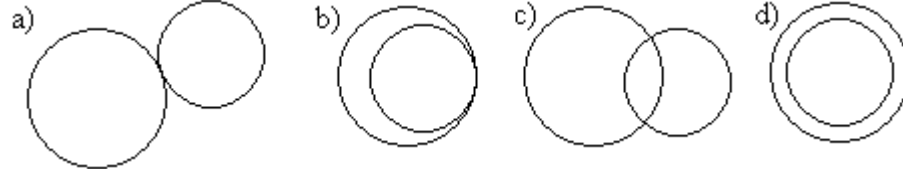
255.

Piirrä ympyrä, jonka keskipiste sijaitsee pisteessä $(2, 2)$ ja jonka säde on 4. Piirrä lisäksi ympyrälle tangenti pisteeseen

- a) $(-2, -2)$
- b) $(6, 2)$

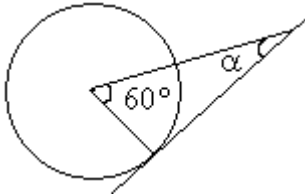
256.

Piirrä ympyröiden yhteiset tangentit.



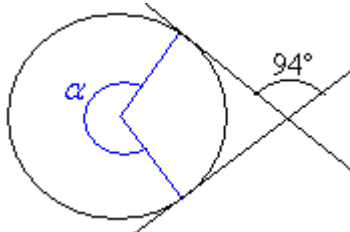
257.

Päätele kulman α suuruus.



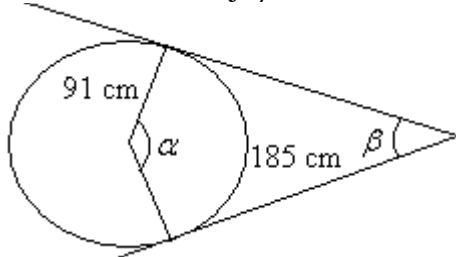
258.

Määritä kulman α suuruus.



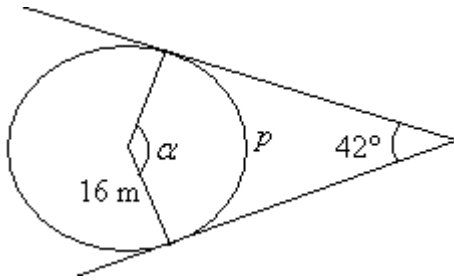
259.

Määritä kulmat α ja β , kun keskuskulmaa vastaava kaari on 185 cm.



260.

Laske kaaren p pituus.



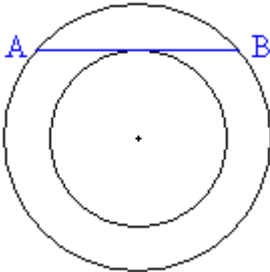
261.

Ympyrän kehältä erotetaan kaksi pistettä siten, että ne ovat säteen etäisyydellä toisistaan. Mikä on pisteisiin piirrettyjen tangenttien välinen kulma?

_____ vaativat tehtävät _____

262.

Jana AB on isomman ympyrän jänne ja pienemmän ympyrän tangenti. Isomman ympyrän säde on 14 cm ja pienemmän ympyrän säde 10 cm. Mikä on janan AB pituus?



263.

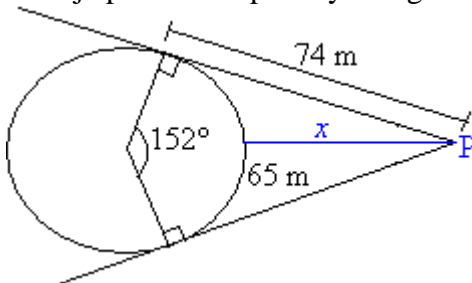
Kuinka kauas voit tyynellä säällä nähdä risteilyaluksen kannelta, kun silmäsi ovat 13 m:n korkeudelta? Maapallon säde on 6378 km.

264.

Kuinka kauas merelle voi nähdä rannalla seisova henkilö, jonka silmät ovat 170 cm korkeudella meren pinnasta? Maapallon säde on noin 6380 km. (yo kevät 1987)

265.

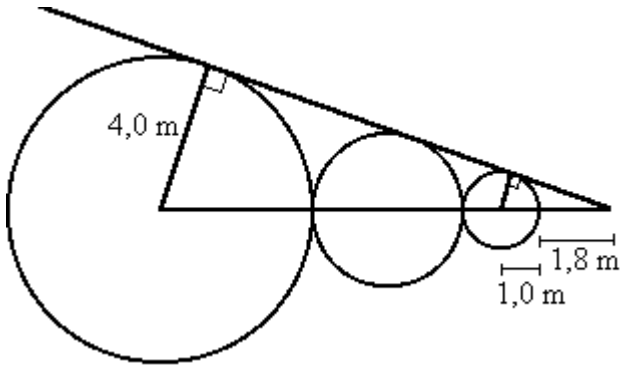
Mikä on pisteen P lyhin etäisyys ympyrän kehältä, kun keskuskulmaa 152° vastaava kaari on 65 m ja pisteestä P piirretyn tangentin pituus säteen sivuamispisteeseen on 74 m?



266.

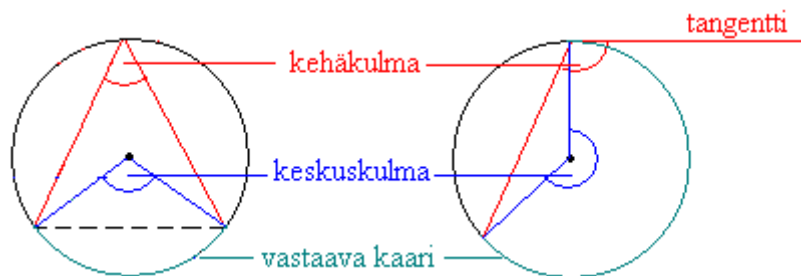
Mikä on keskimmäisen ympyrän säde?

Vihje: käytä hyväksesi kolmioiden yhdenmuotoisuutta.

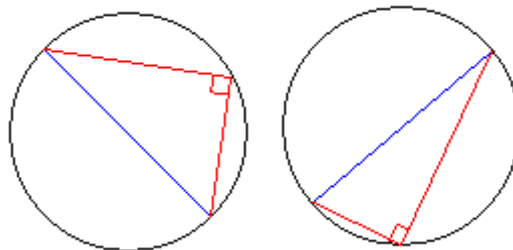


15. Ympyrän kehä- ja keskuskulma

Ympyrän *kehäkulma* on kulma, jonka kärki on ympyrän kehällä ja jonka kylkinä on kaksi jännettä tai jänne ja tangentti. Kehäkulman kylkien väliin jäävä kehän osa on *kehäkulmaa vastaava kaari*. Kehäkulmaa vastaava *keskuskulma* puolestaan sijaitsee ympyrän keskipisteessä ja sen kyljet erottavat ympyrästä kehäkulmaa vastaavan kaaren.

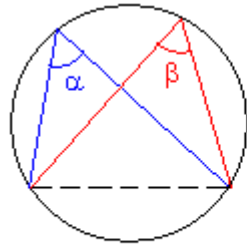


Thalesin lause: Ympyrän halkaisijan päätepisteistä kehälle samaan pisteeseen piirretyt janat ovat kohtisuorassa toisiaan vastaan. Tosin sanoen puoliympyrän kaaren sisältämä kulma on suora.

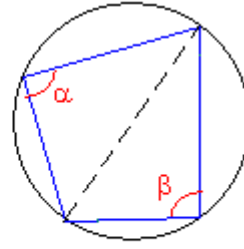


Jos kehäkulma piirretään joltain muulta ympyrän jänneeltä kuin halkaisijalta, ei kehäkulma ole 90° . Samalta jänneeltä ympyrän kehälle piirretyt kehäkulmat ovat kuitenkin aina yhtä suuret, jos kehäkulmat sijaitsevat samalla jänneen jakamalla segmentillä eli samalla puolella jännettä. Jos samasta ympyrän jänneestä piirretään kaksi kehäkulmaa siten, että ne sijaitsevat eri segmenteissä, on kehäkulmien summa 180° .

Samaa kaarta vastaavat kehäkulmat ovat yhtä suuret.

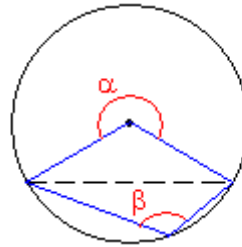
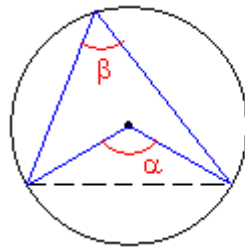


kehäkulmat samassa segmentissä
 $\alpha = \beta$



kehäkulmat eri segmenteissä
 $\alpha + \beta = 180^\circ$

Kehäkulmalause: Samalla ympyrän jäniteellä sijaitseva keskuskulma on kaksi kertaa niin suuri kuin sitä vastaava kehäkulma.

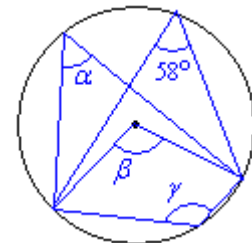


$$\alpha = 2\beta$$

Esimerkki 1.

Määritetään kulmien α , β ja γ suuruudet.

Koska kaikki kehäkulmat ja keskuskulma on piirretty samalta pyrän jäniteeltä, voidaan soveltaa yläpuolella olevia lauseita.



ym-

Kulmat sijaitsevat samalla segmentillä, joten ne ovat yhtä suuret eli $\alpha = 58^\circ$.

Keskuskulma on kaksi kertaa niin suuri kuin sitä vastaava kehäkulma eli $\beta = 2 \cdot 58^\circ = 116^\circ$.

Kulma γ sijaitsee eri segmentissä kuin kulma 58° , joten $\gamma + 58^\circ = 180^\circ$ eli $\gamma = 180^\circ - 58^\circ = 124^\circ$.

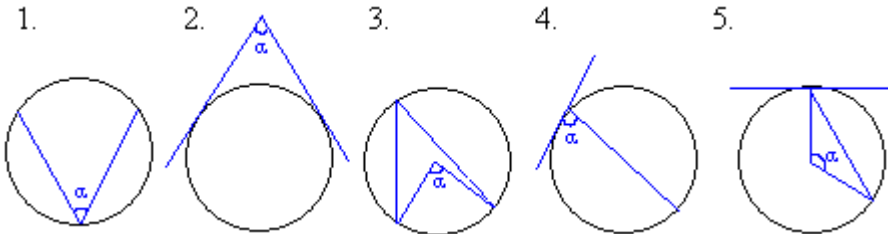
Vastaus: $\alpha = 58^\circ$, $\beta = 116^\circ$ ja $\gamma = 124^\circ$

Tehtäviä

267.

Mitkä kuvien kulmista α esittävät

- a) kehäkulmaa
- b) keskuskulmaa
- c) tangenttikulmaa?



268.

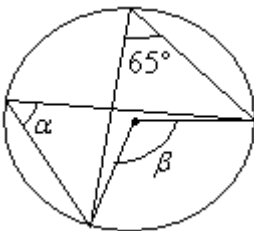
Piirrä ympyrä ja sen sisälle kolmio, jolla on kaksi kehäkulmaa ja keskuskulma.

269.

Onko seuraava väite totta? Ympyrän mistä tahansa jännteestä kehälle samaan pisteeseen piirretyt janat ovat kohtisuorassa toisiaan vastaan.

270.

Päättele kulmien α ja β suuruudet.



271.

Mikä on kehäkulman suuruus, kun sitä vastaavan keskuskulman suuruus on

- a) 82°
- b) 134°
- c) 68°
- d) 258° ?

272.

Mikä on keskuskulman suuruus, kun sitä vastaavan kehäkulman suuruus on

- a) 30°
- b) 75°
- c) 120°
- d) $3x$?

273.

Piirrä ympyrä, jonka säde on 4 cm ja siihen 65° :n kehäkulma siten, että sen

- a) molemmat kyljet ovat jännteitä

b) ainoastaan toinen kylki muodostuu ympyrän jänteestä.

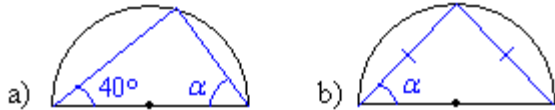
274.

Piirrä ympyrä, jonka säde on 4 cm ja siihen 140° :n keskuskulma. Piirrä lisäksi keskuskulmaa vastaava kehäkulma siten, että sen

- molemmat kyljet ovat jäniteitä
- ainoastaan toinen kylki muodostuu ympyrän jänteestä.

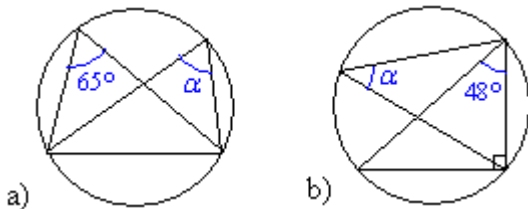
275.

Kuinka suuri on kulma α ?



276.

Laske kulman α suuruus.



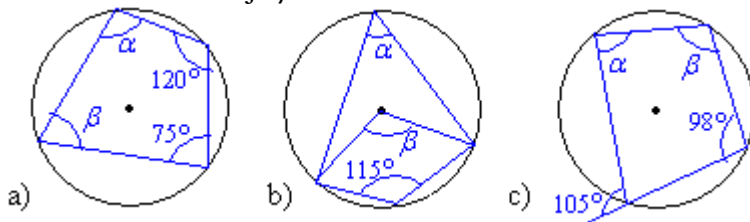
277.

Onko seuraava väite totta? Jos ympyrän sisälle piirretään nelikulmio siten, että sen kaikki kulmat ovat kehäkulmia, on vastakkaisten kulmien summa 180° .

_____ soveltavat tehtävät _____

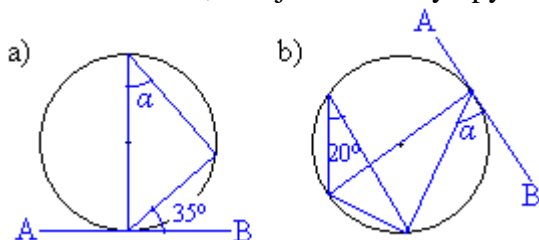
278.

Määritä kulmien α ja β suuruudet.



279.

Määritä kulma α , kun jana AB on ympyrän tangentti.



280.

Helsingin ja Moision keskustat sijaitsevat samalla pituuspiirillä $24^{\circ} 56'$ itäistä pituutta, Helsingin keskusta leveyspiirillä $60^{\circ} 9'$ pohjoista leveyttä ja Moision $62^{\circ} 26'$ pohjoista leveyttä. Kuinka kaukana keskustat ovat toisistaan? Maapallon ympärysmitta on 40 000 km. (yo kevät 2000)

16. Kertaustehtäviä

Yhtenevät ja yhdenmuotoiset kuvat

281.

Millaisia ovat keskenään yhtenevät kuvat?

282.

Millä symbolilla kuvataan

- yhtenevyyttä
- yhdenmuotoisuutta?

283.

Millaisia ovat yhdenmuotoisten kuvioiden

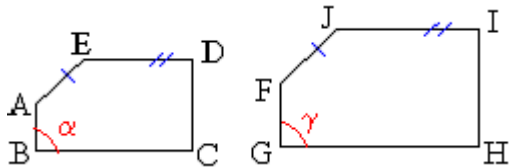
- vastinkulmat
- vastinsivut?

284.

Ovatko yhtenevät kappaleet myös yhdenmuotoisia?

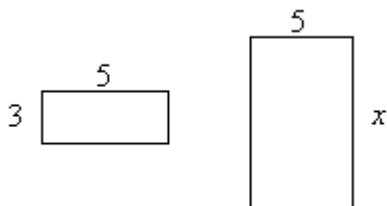
285.

Merkitse kuvioiden ABCDE ja FGHIJ yhdenmuotoisuus. Mitkä ovat vastinosia keskenään?



286.

Kuvan suorakulmiot ovat yhdenmuotoisia. Laske x :llä merkityn sivun pituus.



Mittakaava

287.

Kumpi mittakaavoista on pienempi?

- 1 : 150 000 vai 1 : 15 000
- 1 : 20 vai 1 : 200
- 400 : 1 vai 4 000 : 1
- 10 : 1 vai 1 : 1

288.

Miten mittakaavalla merkitään, että kuva on

- a) suurennettu 200-kertaiseksi
- b) pienennetty sadasosaan?

289.

Piirrä vihkoosi suorakulmainen kolmio, jonka kanta on 3 ruudun sivua ja korkeus 6 ruudun sivua. Piirrä tämän kanssa yhdenmuotoinen kuvio mittakaavassa

- a) 1 : 3
- b) 3 : 1

290.

Täydennä taulukko.

etäisyys kartalla	etäisyys luonnossa
2 cm	400 m
5 cm	
9 cm	
	3 km
	42 km

291.

Mikä on yhtenevien kuvioiden mittasuhte?

292.

Mikä on kartan mittakaava, kun 15 km:n pituinen tie on kartalla 30 cm?

293.

Matkan pituus on luonnossa 3,5 km. Paljonko pituus on kartalla, jonka mittakaava on 1 : 15 000?

294.

Kartan mittakaava on 1 : 10 000. Mikä on matka luonnossa, jos se kartalla on 3,4 cm:n pituinen?

295.

Koripallokenttä on kooltaan 28 m x 15 m. Piirrä kenttä mittakaavassa 1:1000.

Kolmioiden yhdenmuotoisuus

296.

Jos kolmio jaetaan kahteen osaan jollakin kolmion sivun kanssa yhdensuuntaisella suoralla, mitä voit sanoa muodostuneesta kolmiosta?

Peilaus suoran suhteen

297.

Janan päätepisteet ovat (1, 1) ja (2, 3). Peilaa jana

- a) x -akselin suhteen
- b) y -akselin suhteen.

298.

Täydennä lauseet.

_____ sanotaan kuviota, joka kuvautuu itselleen peilaussuoran suhteen. Peilaussuoraa sanotaan tällöin kuvion _____.

299.

Mikä kuvio syntyy, kun suorakulmainen kolmio peilataan

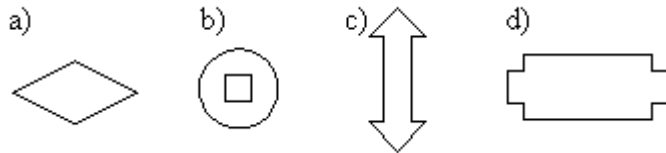
- a) kateetin suhteen?
- b) hypotenuusan suhteen?

300.

Piirrä ympyrä ja suora. Peilaa ympyrä suoran suhteen.

301.

Jäljennä seuraavat suoran suhteen symmetriset kuviot vihkoosi ja piirrä niihin kaikki symmetria-akselit.



Peilaus pisteen suhteen

302.

Miten pisteen suhteen symmetrinen kuvio pitää peilata, jotta se kuvautuisi täsmälleen samaan paikkaan, jossa se alunperin oli?

303.

Janan päätepisteet ovat $(-3, 2)$ ja $(0, 1)$. Peilaa jana origon suhteen.

304.

Voiko epäsäännöllisellä kuviolla olla kiertosymmetriaa?

Kierto ja siirto tasossa

305.

Luettele yhtenevyyskuvaukset.

Neliöjuuri

306.

Selitä parillesi omin sanoin, mitä neliöjuurella tarkoitetaan.

307.

Laske päässä.

- a) $\sqrt{4}$
- b) $\sqrt{9}$
- c) $\sqrt{25}$
- d) $\sqrt{100}$
- e) $\sqrt{10000}$
- f) $\sqrt{-49}$
- g) $-\sqrt{36}$

308.

Määritä kolmidesimaalinen likiarvo

- a) $\sqrt{2}$
- b) $\sqrt{8}$
- c) $\sqrt{335}$
- d) $\sqrt{4562}$

309.

Mikä luku sopii x :n paikalle?

- a) $\sqrt{x} = 2$
- b) $\sqrt{49} = x$
- c) $\sqrt{x} = 12$
- d) $\sqrt{0,16} = x$
- e) $\sqrt{x} = 100$

310.

Piirrä neliö, jonka pinta-ala on

- a) 9 ruutua,
- b) 25 ruutua,
- c) 9 cm^2 .

311.

Neliönmuotoisen torin pinta-ala on 500 m^2 . Laske torin piiri.

312.

Mikä on neliön sivun pituus, kun sen pinta-ala on

- a) 64 cm^2
- b) 5776 cm^2
- c) $110,25 \text{ cm}^2$?

Neliöjuurilaskuja

313.

Laske lausekkeen $x = \frac{-b + \sqrt{b^2 - 4ac}}{2a}$ arvo, kun

- c) $a = 5$, $b = 3$ ja $c = -8$

d) $a = 2$, $b = -4$ ja $c = 2$

314.

Kaksitoista vuotta suurien jäätiköiden sulamisen jälkeen alkavat jäkälät kasvaa kivien pinnalla. Jokainen jäkälä kasvaa suunnilleen ympyrän muotoisena. Jäkälän halkaisijan ja iän välillä vallitsee seuraava yhteys:

$$d = 7,0 \cdot \sqrt{t-12} \quad \text{kun } t \geq 12,$$

missä d on jäkälän halkaisija millimetreinä ja t jään katoamisesta kuluneet vuodet.

- a) Laske kaavan avulla jäkälän halkaisija 15 vuoden kuluttua jään katoamisesta.
- b) Laske kaavan avulla jäkälän halkaisija 50 vuoden kuluttua jään katoamisesta.
- c) Jos jäkälän halkaisija on 45 mm, tutki kokeilemalla kuinka monta vuotta sitten jää on sulanut kyseiseltä paikalta?

(Lähde: Kansainvälinen oppimistulosten arviointiohjelma, Pisa)

315.

Heilurin heilahdusaika t (= edestakaiseen heilahdukseen kulunut aika) voidaan laskea lausekkeella

$$t = 2\pi \sqrt{\frac{l}{g}}, \quad \text{missä } l \text{ on heilurin langan pituus ja } g = 9,81 \text{ m/s}^2. \text{ Laske heilahdusaika, kun heilurin langan pituus on}$$

- a) 1 m
- b) 5 m
- c) 10 m

Pythagoraan lause

316.

Suorakulmaisen kolmion sivujen pituudet ovat 28 cm, 45 cm ja 53 cm. Totea laskemalla, että kolmio on suorakulmainen.

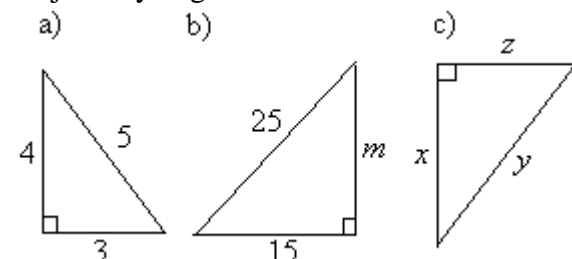
317.

Onko kolmio suorakulmainen, jos kolmion sivujen pituudet ovat

- a) 55 cm, 100 cm ja 45 cm
- b) 16 mm, 12 mm ja 20 mm
- c) 14 cm, 48 cm ja 50 cm?

318.

Kirjoita Pythagoraan lause seuraavien kolmioiden avulla.



319.

Suorakulmaisen kolmion sivujen pituudet ovat 6,2 cm, 7,4 cm ja 9,7 cm. Laske kolmion pinta-ala.

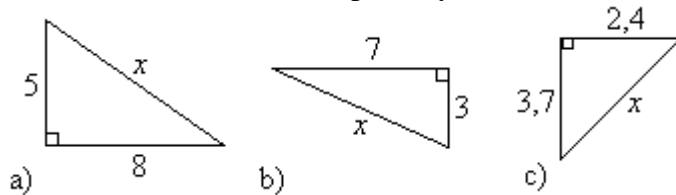
320.

Voiko tasakylkinen kolmio olla suorakulmainen?

Pythagoraan lauseen sovelluksia

321.

Määritä kolmioista sivun x pituus yhden desimaalin tarkkuudella.



322.

Laske hypotenuusan pituus, kun kateetit ovat

- a) 3,3 cm ja 4,7 cm
- b) 12,6 m ja 14,3 m
- c) 25,6 cm ja 16,0 cm.

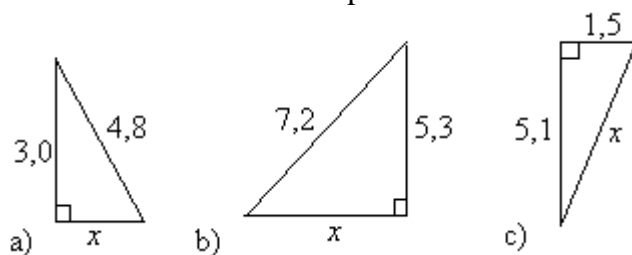
323.

Laske kateetin pituus, kun

- a) hypotenuusa on 5,8 cm ja toinen kateetti on 4,0 cm
- b) hypotenuusa on 16,5 cm ja toinen kateetti on 5,8 cm
- c) hypotenuusa on 19,2 cm ja toinen kateetti on 7,9 cm.

324.

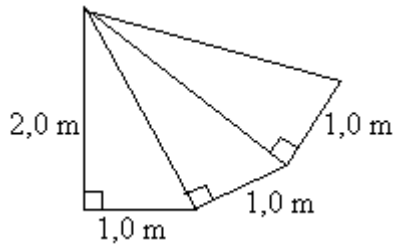
Määritä kolmioista sivun x pituus.



325.

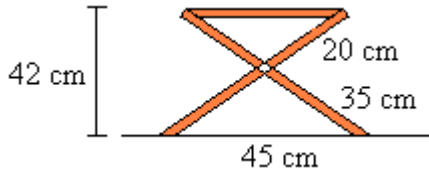
Laske oheisen kuvan muotoisen alueen

- a) piiri
- b) pinta-ala



326.

Laske kuvassa olevan jakkaran istuinosan leveys, kun jakkaran korkeus on 42 cm.



Ympyrän kehän pituus ja pinta-ala

327.

Pyöreän porealtaan halkaisija on 2,8 m. Laske altaan ympärysmitta.

328.

CD-levyn halkaisija on 12,0 cm. Laske CD-levyn

- kehän pituus
- pinta-ala.

329.

Mimmi mittasi pihakoivun ympärysmitan narulla. Hän sai ympärysmitaksi 32,0 cm. Mikä on pihakoivun halkaisija?

330.

Maapallon piiri on noin 40 000 km. Laske maapallon halkaisija.

331.

Auton renkaan halkaisija on 55 cm. Montako kertaa rengas pyörähtää, kun autolla ajetaan 500 km?

332.

Suomen sisävesien pinta-ala on 31 600 km². Mikä olisi samankokoisen

- neliön sivun pituus?
- ympyrän halkaisija?

333.

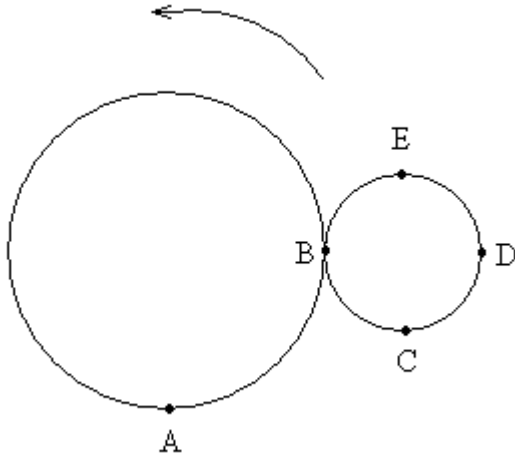
Saarella, jonka pinta-ala on 3,00 ha, on kahden talon välinen etäisyys 200 m. Voiko saari olla ympyrän muotoinen? (yo syksy 1988)

334.

Nosturi voi liikkua suoria kiskoja pitkin 30 m ja kurottua 20 m:n päähän. Kuinka suuri on nosturin saavuttama alue? (Vastaus 10 m²:n tarkkuudella.) (yo syksy 1989)

335.

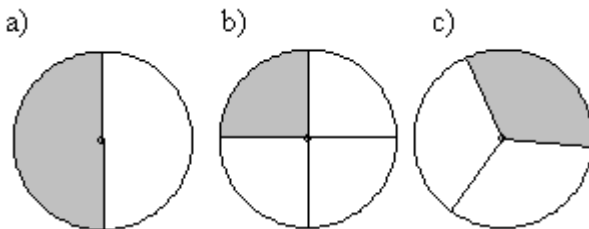
Pienempi ympyrä vierii liukumatta pitkin suuremman ympyrän kehää nuolen suuntaan. Pienemmän ympyrän halkaisija on yhtä suuri kuin suuremman ympyrän säde. Mikä pienemmän ympyrän pisteistä B, C, D, E osuu pisteeseen A? (pääsykoetehtävä teknikkokoulutukseen, 1989)



Ympyrän sektorin kaaren pituus ja pinta-ala

336.

Kuvan ympyröiden kehän pituus on 72 cm. Ilmoita varjostettujen sektoreiden kaarien pituudet.



337.

Ilmoita edellisen tehtävän varjostettujen sektoreiden kaarien pituudet, jos ympyröiden pinta-alan tarkka arvo on $18\pi \text{ cm}^2$.

338.

Ympyräsektorin säteen pituus on r ja keskuskulman suuruus α . Kirjoita kaava, kuinka voit laskea sektorin

- kaaren pituuden b
- pinta-alan A .

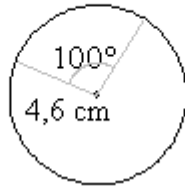
339.

Laske sektoreiden kaarien pituudet.

a)



b)



c)

**340.**

Laske edellisen tehtävän sektoreiden pinta-alat.

341.

Ympyrän säde on 7,0 cm ja keskuskulma 29° . Laske sektorin

- kaaren pituus.
- pinta-ala

342.

Ympyrän halkaisija on 18,0 m. Laske 70° keskuskulmaa vastaavan

- kaaren pituus
- sektorin ala

343.

Kuinka suuri on sektorin keskuskulma, jos ympyrän säde on 11,0 m ja sektorin kaaren pituus on

- 11π
- $\frac{11\pi}{2}$
- $\frac{11\pi}{6}$

344.

Hihna kulkee kahden ympyrän ympäri (ulkopuolitse). Laske hihnan pituus, kun ympyröiden säteet ovat 520 mm ja 310 mm. Ympyröiden keskipisteiden väli on 700 mm.

Ympyrän tangenttikulma

345.

Piirrä ympyrä ja sen ulkopuolelle piste P. Piirrä pisteestä P ympyrälle kaksi tangenttia. Mittaa tangenttikulman ja sitä vastaavan keskuskulman suuruudet.

346.

Laske tangenttikulman suuruus, kun vastaava keskuskulma on

- 66°
- 58°
- 134°

347.

Laske keskuskulman suuruus, kun vastaava tangenttikulma on

- a) 54°
- b) 20°
- c) 79°

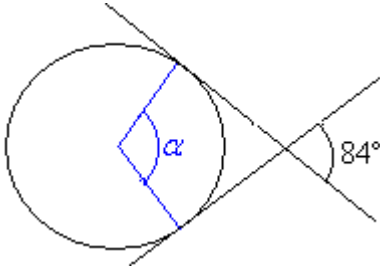
348.

Piirrä kahden ympyrän yhteiset tangentit, kun ympyröillä on sama säde ja ne

- a) leikkaavat toisensa
- b) sivuavat toisiaan
- c) eivät kosketa toisiaan.

349.

Määritä kulman α suuruus.



350.

Ympyrän kehältä erotetaan kaksi pistettä siten, että ne ovat ympyrän halkaisijan etäisyydellä toisistaan. Mikä on pisteisiin piirrettyjen tangenttien välinen kulma?

351.

Kuinka kaus merelle voi tyynellä säällä nähdä rantakalliolla seisova mies, kun hänen silmänsä ovat 10 m korkeudella merenpinnasta? Maapallon säde on 6378 km.

Ympyrän kehä- ja keskuskulma

352.

Mikä on kehäkulman suuruus, kun sitä vastaavan keskuskulman suuruus on

- a) 80°
- b) 122°
- c) 78°
- d) $4x^\circ$?

353.

Mikä on keskuskulman suuruus, kun sitä vastaavan kehäkulman suuruus on

- a) 25°
- b) 70°
- c) 100°
- d) $2x^\circ$?

354.

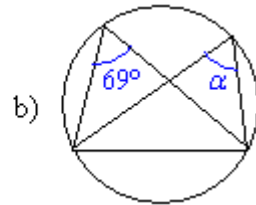
Piirrä ympyrä, jonka säde on 3 cm ja siihen 120° :n keskuskulma. Piirrä lisäksi keskuskulmaa vastaava kehäkulma siten, että sen

- c) molemmat kyljet ovat jäniteitä

d) ainoastaan toinen kylki muodostuu ympyrän jänneestä.

355.

Määritä kulma α .



Harjoituskoe

1.

Jos kolmion sivujen pituudet ovat 4 m, 6 m ja 9 m, onko kolmio suorakulmainen?

2.

Suorakulmaisen kolmion kateetit ovat 7,2 m ja 5,6 m. Laske kolmion

- pinta-ala
- piiri

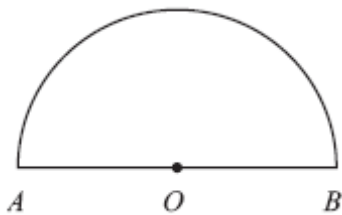
3.

Täydennä taulukkoon puuttuvat tiedot.

etäisyys kartalla	etäisyys luonnossa
2 cm	800 m
4 cm	
	2 km

4.

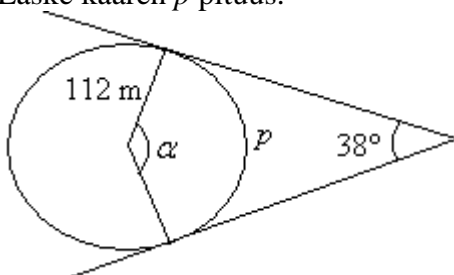
Kuvassa on puoliympyrä, jonka keskipiste on O. Janan AB pituus on 14,0 cm.



- Mitä nimitystä janasta AB jäytetään?
- Laske puoliympyrän piiri.
- Laske puoliympyrän pinta-ala.

5.

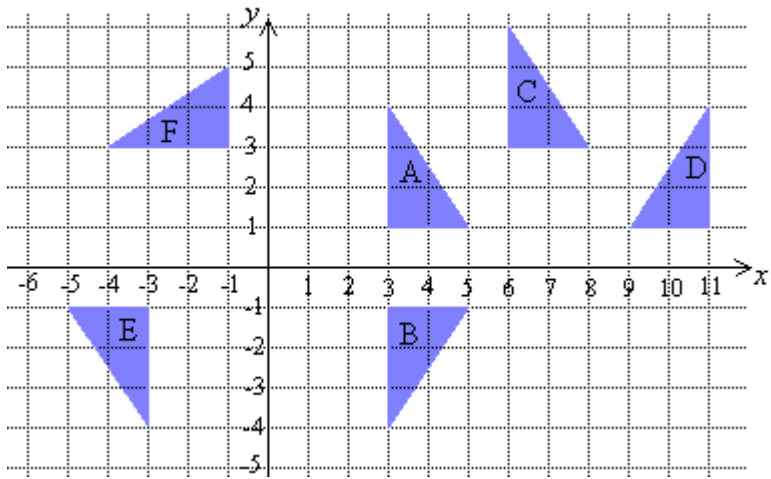
Laske kaaren p pituus.



6.

Mikä yhtenevyyskuvaus muuttaa kolmion A kolmioksi

- B
- C
- D
- E
- F?



Harjoituskokeen ratkaisut

1.

Jos kolmio on suorakulmainen, on pisin sivu eli 9 m sen hypotenuusa. Tarkistetaan Pythagoraan lauseella tuleeko hypotenuusan pituudeksi 9 m.

$$c = \sqrt{a^2 + b^2} = \sqrt{(4 \text{ m})^2 + (6 \text{ m})^2} = \sqrt{16 \text{ m}^2 + 36 \text{ m}^2} = \sqrt{52 \text{ m}^2} \approx 7,2 \text{ m} \neq 9 \text{ m}.$$

Vastaus: Kolmio ei ole suorakulmainen.

2.

a) Kolmion pinta-ala on $\frac{\text{kanta} \cdot \text{korkeus}}{2}$. Koska suorakulmaisen kolmion kateetit muodostavat keskenään suoran kulman, on toinen kateetti kolmion kanta ja toinen korkeus. Tällöin

$$A = \frac{7,2 \text{ m} \cdot 5,6 \text{ m}}{2} = 20,16 \text{ m}^2 \approx 20 \text{ m}^2.$$

b) Jotta kolmion piiri voidaan laskea, on ensin laskettava kolmion kolmannen sivun pituus. Pythagoraan lauseen perusteella saadaan hypotenuusan pituudeksi

$$c = \sqrt{a^2 + b^2} = \sqrt{(7,2 \text{ m})^2 + (5,6 \text{ m})^2} = 9,1214\dots \text{ m} \approx 9,1 \text{ m}. \text{ Tarkistus: Pituus voi olla oikea, koska suorakulmaisessa kolmiossa pisin sivu on aina hypotenuusa. Tällöin piiri on } 7,2 \text{ m} + 5,6 \text{ m} + 9,1 \text{ m} = 21,9 \text{ m}$$

3.

Ensimmäiseltä riviltä voidaan laskea kartan mittakaava. Ensiksi yksiköt on muutettava toisiinsa vastaaviksi: $800 \text{ m} = 80000 \text{ cm}$.

Kartan mittakaava on $\frac{2 \text{ cm}}{80000 \text{ cm}} = \frac{1}{40000}$, jonka avulla voimme muodostaa verrannot.

Ensimmäinen: $\frac{4 \text{ cm}}{x} = \frac{1}{40000}$, josta ristiin kertomalla saadaan
 $x = 4 \text{ cm} \cdot 40000 = 160000 \text{ cm} = 1,6 \text{ km}$

Toinen: Kilometrit on muutettava ensiksi senttimetriksi.

$$\frac{x}{200000 \text{ cm}} = \frac{1}{40000}, \text{ josta ristiin kertomalla saadaan}$$
$$x \cdot 40000 = 200000 \text{ cm}$$
$$x = \frac{200000 \text{ cm}}{40000} = 5 \text{ cm}$$

Täydennettynä taulukko siis näyttää tältä:

etäisyys kartalla	etäisyys luonnossa
2 cm	800 m
4 cm	1,6 km
5 cm	2 km

4.

a) ympyrän halkaisija

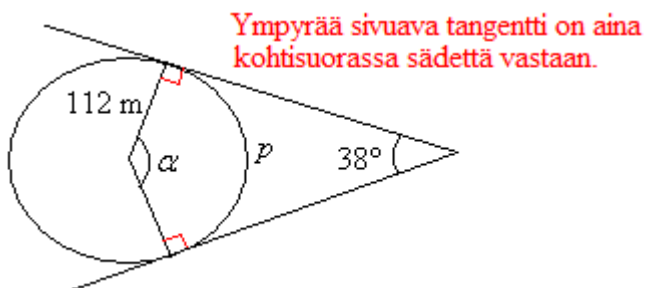
b) Puoliympyrän piiri on puolet kehän pituudesta + halkaisija.

Kehän pituus: $p = \pi d = \pi \cdot 14,0 \text{ cm} \approx 43,9823 \text{ cm}$, jaetaan tämä kahdella ja lisätään siihen halkaisija: $\frac{43,9823 \text{ cm}}{2} + 14,0 \text{ cm} \approx 36 \text{ cm}$

c) Puoliympyrän pinta-ala saadaan jakamalla ympyrän pinta-ala kahdella.

$$A = \frac{\pi r^2}{2} = \frac{\pi \cdot (7,0 \text{ cm})^2}{2} \approx 77 \text{ cm}^2$$

5.



Nelikulmion kulmien summa on 360° , jolloin $\alpha = 360^\circ - 90^\circ - 90^\circ - 38^\circ = 142^\circ$.

Sektorin kaaren pituus on $\frac{\alpha}{360^\circ} 2\pi r = \frac{142^\circ}{360^\circ} \cdot 2\pi \cdot 112 \text{ m} = 277,57 \text{ m} \approx 280 \text{ m}$.

Vastaus: Kaaren pituus on 280 m.

6.

- peilaus x -akselin suhteen
- siirto kaksi yksikköä ylös ja kolme yksikköä oikealla
- peilaus suoran $x = 7$ suhteen
- peilaus origon suhteen tai kiero 180° origon suhteen
- kierto 90° vastapäivään origon suhteen

Vastaukset

1.

kyllä

2.



3.

- a) F
- b) D
- c) AB
- d) EF
- e) HF

4.

Pinta-alasta tulee nelinkertainen alkuperäiseen verrattuna.

5.

Yhdenmuotoisten kuvioden vastinsivujen pituuksien suhde säilyy samana, jolloin voidaan muodostaa verranto tuntemattoman sivun pituuden ratkaisemiseksi.

6.

15

7.

ei

8.

”vastinkulmat” korvataan ”vastinsivujen pituuksien suhteet”

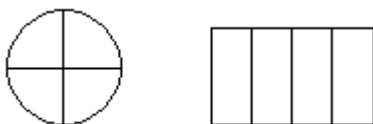
9.

$x = 1,2 \text{ m}$, $y = 2,4 \text{ m}$, $z = 2,0 \text{ m}$

10.

ympyrät ja neliöt

11.



12.

- a) kyllä
- b) kyllä
- c) kyllä

13.

$$x = 3,3 \text{ m}, y = 3,0 \text{ m}, z = 2,3 \text{ m}$$

14.

yksi

15.

Jos kolmioiden kulmat ovat yhtä suuret, ovat ne väistämättä myös yhteneviä toistensa kanssa.

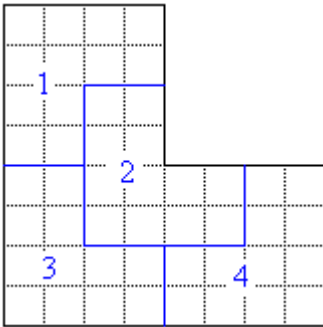
16.

-

17.

- a) eivät
- b) ovat
- c) ovat
- d) eivät

18.



19.

- a) voi olla totta
- b) voi olla totta
- c) voi olla totta
- d) epätosi
- e) voi olla totta
- f) epätosi

20.

Lyhemmälle sivulle mahtuu kanta ylöspäin olevia kolmioita

$$\frac{700 \text{ mm}}{30 \text{ mm}} \approx 23,33 \text{ eli kokonaisia kolmioita } 23 \text{ kpl}$$

ja kanta alaspäin olevia

$$\frac{700 \text{ mm} - 15 \text{ mm}}{30 \text{ mm}} \approx 22,83 \text{ eli kokonaisia kolmioita } 22 \text{ kpl.}$$

Pystysuunnassa saadaan kolmiorivejä

$$\frac{850 \text{ mm}}{30 \text{ mm}} \approx 28,3 \text{ eli } 28 \text{ täyttä rivillistä kolmioita.}$$

Yhteensä kolmioita saadaan

$$28 \cdot (23 + 22) = 1260.$$

Vastaus: 1260 kpl

21.

- a) edessä
- b) jäljessä

22.

- a) 1 : 10 000
- b) 1 : 50
- c) 1500 : 1
- d) 10 : 1

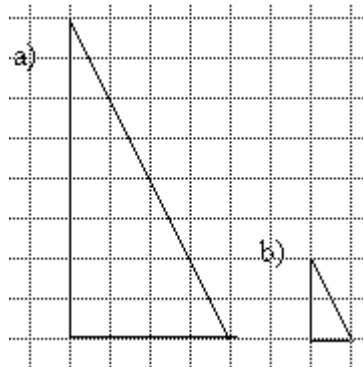
23.

- a) 25 : 1
- b) 1 : 1000

24.

-

25.



26.

Kaikki on oikein.

27.

140 m

28.

1,12 km

29.

22 cm

30.

15 000 : 1

31.

2 250 000 : 1

32.

- a) 1 : 150
- b) 1 : 50

33.

- a) 1000 : 1
- b) 5000 : 1
- c) 9000 : 1

34.

-

35.

48 cm

36.

300 m

37.

- a) 60,9 cm
- b) 243,5 cm
- c) 81,2 cm

38.

- a) 193 km
- b) 388 km
- c) 837 km
- d) 92 km

39.

54 m²

40.

30 cm

41.

20 cm by 10 cm

42.

150 cm²

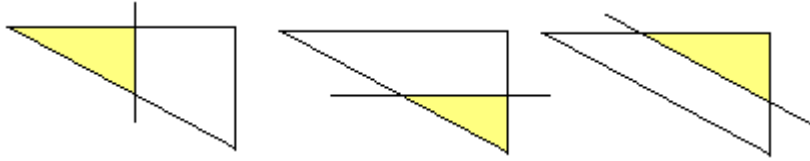
43.

360 m, 0,125 mm

44.

- a) kyllä
- b) ei
- c) kyllä

45.



46.

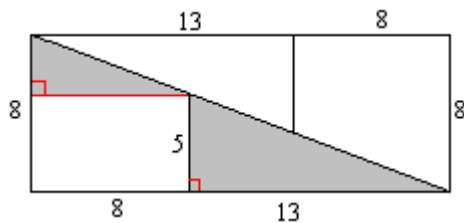
Ei

47.

1,9 m

48.

Ei ole mahdollista. Tarkastellaan vasemmanpuoleista kuvaa, tummennettujen kolmioiden pitäisi olla yhdenmuotoiset. Muodostamalla verranto, havaitaan ettei näin kuitenkaan ole.



49.

ADF ja DBE sekä CFD ja CDE

50.

13,8 m

51.

Yhdenmuotoisten kolmioiden avulla saadaan yhtälö neliön sivun pituuden ratkaisemiseksi.

$$\frac{3,0-s}{s} = \frac{3,0}{4,0}$$

$$(3,0-s) \cdot 4,0 = 3,0s$$

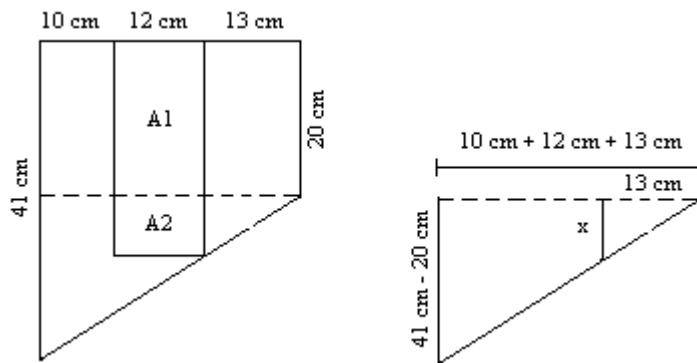
$$12 - 4,0s = 3,0s$$

$$-4,0s - 3,0s = -12$$

$$s = \frac{12}{7} = 1,71428\dots$$

Neliön pinta-ala on $s^2 \approx 2,9 \text{ m}^2$.

52.



Alueen A1 pinta-ala: $A1 = 20 \text{ cm} \cdot 12 \text{ cm} = 240 \text{ cm}^2$

Yhdenmuotoisten kolmioiden avulla saadaan

$$\frac{x}{21 \text{ cm}} = \frac{13 \text{ cm}}{35 \text{ cm}}, \text{ josta edelleen ristiin kertomalla saadaan}$$

$$x \cdot 35 \text{ cm} = 21 \text{ cm} \cdot 13 \text{ cm}$$

$$x = 21 \text{ cm} \cdot 13 \text{ cm} / 35 \text{ cm}$$

$$x = 7,8 \text{ cm}$$

Alueen A2 pinta-ala: $A2 = 12 \text{ cm} \cdot 7,8 \text{ cm} = 93,6 \text{ cm}^2$

Kokonaispinta-ala on tällöin $A1 + A2 = 240 \text{ cm}^2 + 93,6 \text{ cm}^2 = 333,6 \text{ cm}^2 \approx 330 \text{ cm}^2$.

53.

- a) ei
- b) on
- c) on
- d) ei

54.

- a) on
- b) ei
- c) on
- d) ei

55.

- a) 2,97 cm
- b) 9,27 cm
- c) 18,29 cm
- d) 63,04 cm

56.

- a) 6,15 cm
- b) 22,65 cm
- c) 35,11 cm
- d) 139,15 cm

57.

A ja D

58.

59.

60.

ovat

61.

d) 105,7 cm korkeudella

e) -

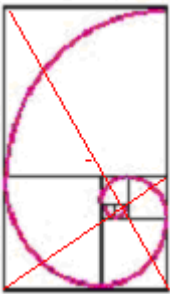
62.

Suhde on sama kuin kultaisessa leikkauksessa.

63.

Mitä suurempien peräkkäisten Fibonaccin lukujen suhteita lasketaan, sitä tarkemmin saadaan kultaisen leikkauksen suhdeluku.

64.

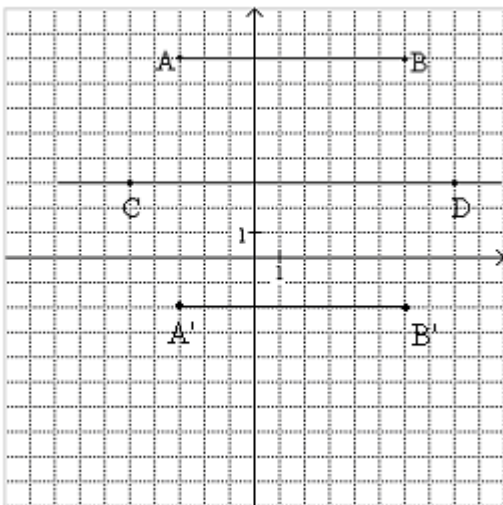


65.

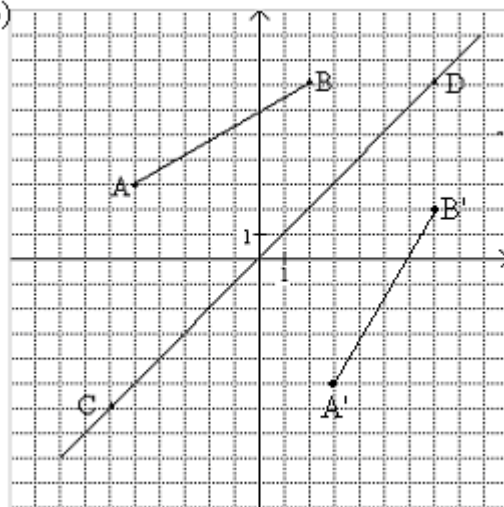
kyllä

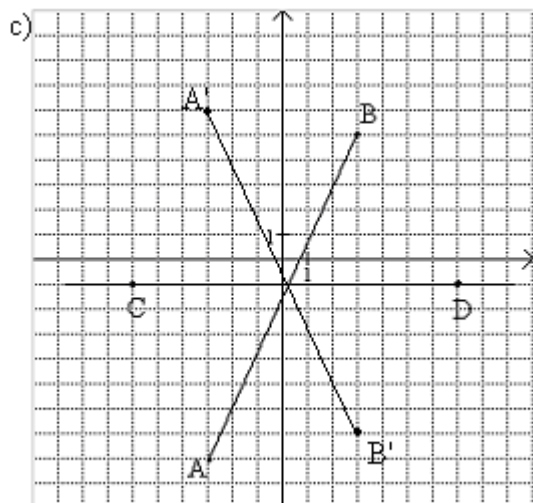
66.

a)

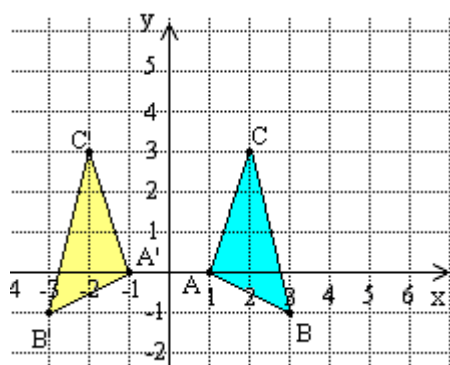


b)

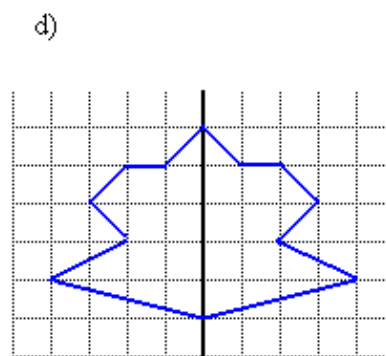
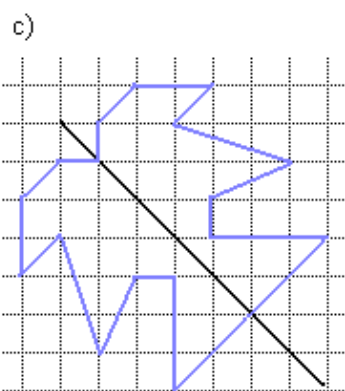
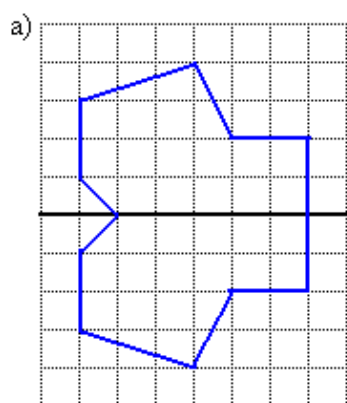




67.



68.



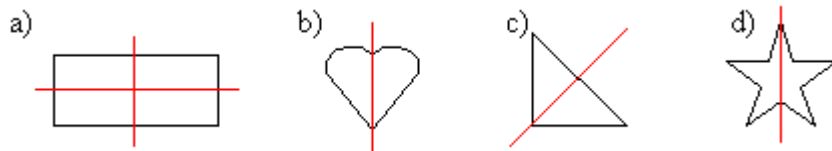
69.

- a) $(-3, -2)$
- b) $(3, 2)$

70.

-

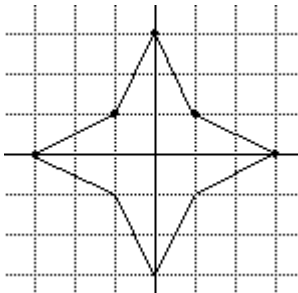
71.



72.

- a) (4,-2)
- b) (-4,2)

73.



74.

- a) 1
- b) 0
- c) 2
- d) 0

75.

f) -

76.

A, B, C, D, E, H, I, K, M, O, S, T, U, V, X, Y, Å, Ä, Ö

77.

samanlainen suorakulmio

78.

esimerkiksi MIMMI, SATU, AKI, MIKA

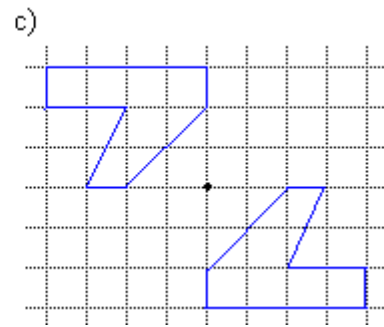
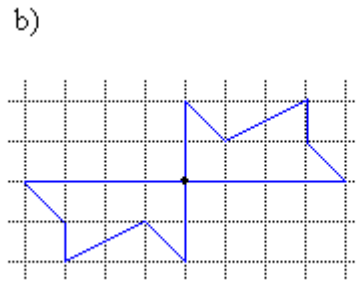
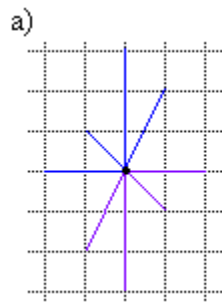
79.

-

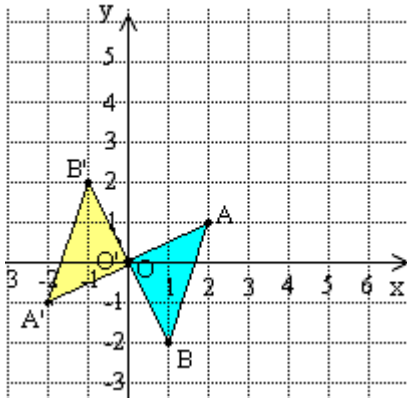
80.

- a) $A' = (1,-3)$, $B' = (4,0)$, $C' = (6,-4)$
- b) $A' = (-1,3)$, $B' = (-4,0)$, $C' = (-6,4)$

81.



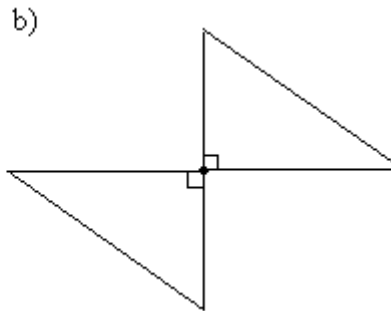
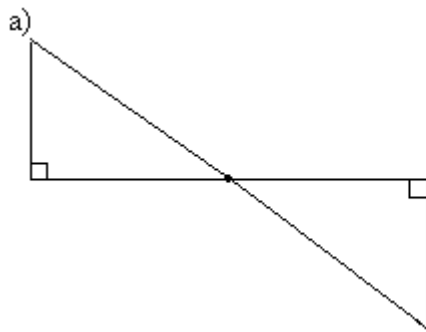
82.



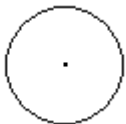
83.

- a) $(-2, -1)$
- b) $(0, -3)$

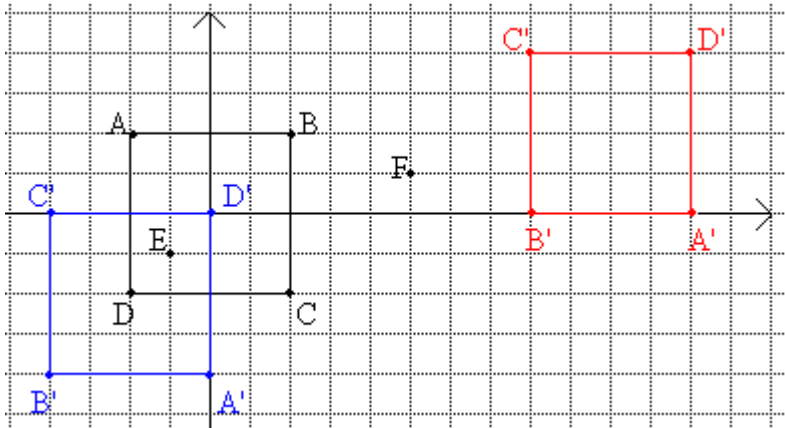
84.



85.



86.



87.

-

88.

-

89.

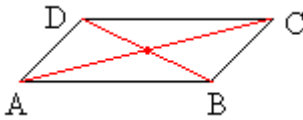
H, I, N, O, S, X, Z

90.

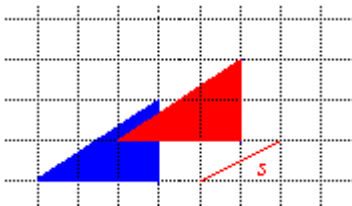
b, c, f

91.

suunnikas kuvautuu itselleen



92.



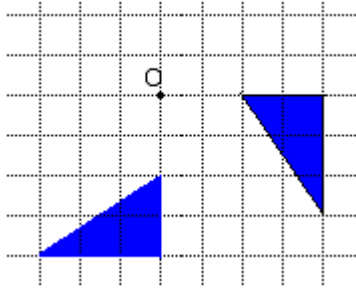
93.

kiertokulmalla 90°

94.

- Pisteen suhteen symmetrisen kuvion peilauspistettä sanotaan symmetriakeskukseksi. Symmetriakeskus sijaitsee kuvion keskipisteessä.
- Kun yhtenevyyskuvaus tehdään kiertämällä kuvio jonkin pisteen, sanotaan kyseistä pistettä kiertoakeskukseksi.

95.



96.

(3, 3)

97.

kierto 180° antaa saman tuloksen kuin pisteen suhteen peilaus

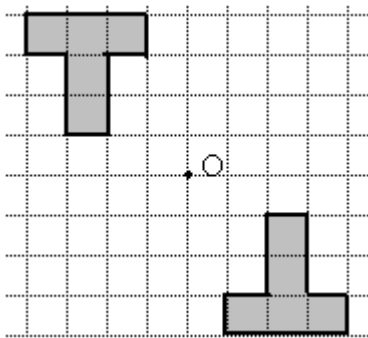
98.

- a) 1
- b) 2
- c) 2
- d) 4

99.

4-kertainen

100.



Peilaus pisteen suhteen tarkoittaa samaa kuin 180° asteen kierto pisteen suhteen.

101.

kyllä

102.

$A' = (-1, 5)$ $B' = (1, 8)$

103.

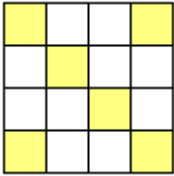
- a) 2
- b) 4
- c) 2
- d) 1

104.

105.

a) 1

b)



106.

a) M, Y

b) N

c) O, X

107.

-

108.

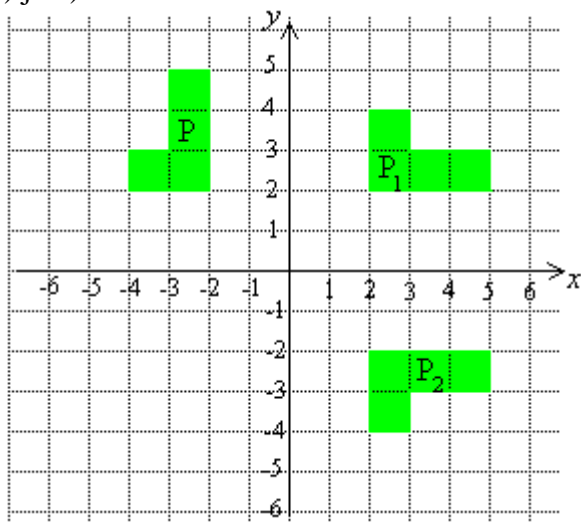
$B' = (3, 2)$ ja $C' = (2, 5)$

109.

-

110.

a) ja b)



g) c) peilaus suoran $y = x$ suhteen.

111.

a) peilaus suoran $y = -x$ suhteen

b) siirto 4 yksikköä alas ja 7 yksikköä vasemmalle

c) kierto pisteen $(1,0)$ suhteen 90° vastapäivään.

112.

-

113.

- a) 4
- b) 8
- c) 11
- d) 15

114.

- a) $\sqrt{15}$
- b) $-\sqrt{20}$
- c) $\sqrt{603}$

115.

4

116.

- a) 3
- b) 6
- c) 7

117.

- a) ei
- b) ei
- c) on
- d) ei

118.

- a) 1
- b) 0
- c) 7
- d) 6
- e) 10
- f) 8
- g) 9
- h) 11

119.

- a) 9 cm
- b) 25 cm
- c) 52 cm

120.

157 m

121.

- a) 5
- b) 7
- c) 9

122.

- a) 0,1
- b) 0,07
- c) 1,1

123.

- a) 16
- b) 49
- c) 13
- d) 361
- e) 0,0256

124.

- a) on
- b) ei
- c) ei
- d) ei

125.

- a) 1,73
- b) 5,48
- c) 17,32
- d) 54,77
- e) 173,21
- f) kerrotaan kymmenellä

126.

- a) 0 tai 1
- b) 4
- c) 1/9

127.

14 km

128.

- a) 7,8 m/s
- b) 10 m/s
- c) 14 m/s

129.

Sijoitetaan $t = 36$ ja $d = 9$ yhtälöön:

$$k\sqrt{36} = 9$$

$$6k = 9$$

$$k = 1,5$$

Kun $d = 100$, saadaan $d = 1,5\sqrt{100} = 15$

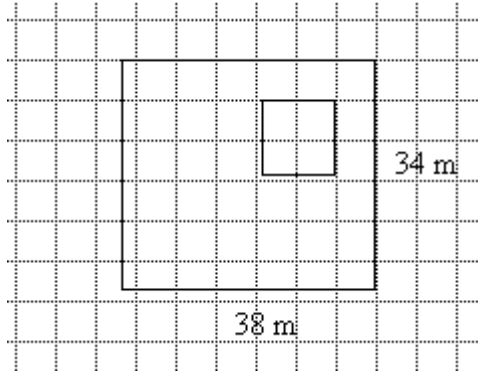
Vastaus: 15 mm

130.

Valitaan mittakaava siten, että 1 cm (=1 ruutu) kuvassa vastaa 6 m luonnossa. Tällöin mittakaava on 1 : 600.

Tontin sivut ovat ja $\frac{38}{6} \approx (6,3 \text{ cm})$.

Talon sivun pituus on $\sqrt{120\text{m}^2} \approx 10,95 \text{ m}$, kuvassa $\frac{10,95}{6} \approx 1,8 \text{ (cm)}$.



Tontin pinta-ala on $38 \text{ m} \cdot 34 \text{ m} = 1292 \text{ m}^2$ ja hinta $\frac{86000 \text{ mk}}{1292 \text{ m}^2} \approx 67 \frac{\text{mk}}{\text{m}^2}$.

Vastaus: Neliömetrihinta on 67 mk.

131.

- a) $\frac{3}{5}$
- b) $\frac{2}{9}$
- c) $\frac{1}{4}$
- d) $\frac{1}{6}$
- e) $\frac{7}{10}$
- f) $1\frac{1}{2}$

132.

- a) $\frac{2}{3}$
- b) $\frac{4}{5}$
- c) $\frac{2}{\sqrt{6}}$
- d) $\frac{2}{\sqrt{5}}$

133.

- a) 7
- b) 5

- c) 2
- d) 6

134.

- a) 9
- b) 13

135.

- a) 8
- b) 8
- c) 3
- d) 3
- e) 9
- f) 9

136.

- a) $1\frac{1}{4}$
- b) $2\frac{2}{3}$
- c) $4\frac{1}{2}$
- d) $1\frac{2}{3}$

137.

- a) 2,45
- b) 3,74
- c) 3,61
- d) 5,10

138.

- a) 4,73
- b) 15,2
- c) 0,28
- d) -2,46

139.

- a) 4
- b) 4
- c) 3
- d) 5

140.

- a) 10
- b) 4
- c) 3
- d) $\sqrt{7}$

141.

- a) 2
- b) 5
- c) 3

142.

- a) 2
- b) 30
- c) 8
- d) ei mikään

143.

- a) 3
- b) 6
- c) 6
- d) 21

144.

- a) mahdoton
- b) -23,2
- c) 13,3
- d) mahdoton

145.

- a) $x = -\frac{1}{2}$
- b) $x = 2$

146.

- a) $2\sqrt{3}$
- b) $5\sqrt{2}$
- c) $5\sqrt{x}$
- d) $3x\sqrt{2}$
- e) $10\sqrt{10}$
- f) $9a\sqrt{a}$

147.

- a) $x \geq 2$
- b) $x \geq -2$
- c) $x \leq 1$
- d) kaikilla x :n arvoilla

148.

$$\sqrt{2^2 + \left(\frac{8}{3}\right)^2} = \sqrt{\frac{100}{9}} = \frac{10}{3} = 3\frac{1}{3}$$

149.

a) $\frac{\sqrt{3}}{2}$

b) $\frac{1}{2}$

150.

(laskettu 60 kg painavalle ihmiselle)

- a) massa ei muutu
- b) massa ei muutu
- c) 240 kg
- d) 830 kg
- e) 15000 kg
- f) 230000 kg

151.

Merkitään kyseistä lukua x :llä.

$$x = (\sqrt{5} - 2)^2 = (\sqrt{5} - 2) \cdot (\sqrt{5} - 2) = \sqrt{5}\sqrt{5} - 2\sqrt{5} - 2\sqrt{5} + 4 = 5 - 4\sqrt{5} + 4 = 9 - 4\sqrt{5} \approx 0,0557$$

152.

- a) sivu y
- b) sivut x ja z

153.

- a) kateetit a ja c , hypotenuusa b
- b) kateetit f ja g , hypotenuusa h
- c) kateetit y ja z , hypotenuusa x

154.

ei, koska hypotenuusa on aina suorakulmaisen kolmion pisin sivu

155.

- a) kateetit 13 cm ja 24 cm, hypotenuusa 27 cm
- b) kateetit 1,6 m ja 2,4 m, hypotenuusa 2,9 m
- c) kateetit 40 km ja 42 km, hypotenuusa 58 km

156.

- a) ei
- b) on
- c) on

157.

Pythagoraan lausetta voidaan käyttää vain, jos kolmio on suorakulmainen.

158.

- a) $50^2 = 30^2 + 40^2$
- b) $x^2 = y^2 + z^2$
- c) $r^2 = s^2 + t^2$

159.

- a) $x = 5$
- b) $x = 8$
- c) $x = 13$
- d) $x = 21$

160.

Ei

———— soveltavat tehtävät ————

161.

-

162.

24 m²

163.

24 cm²

164.

96 cm²

165.

- a) kyllä
- b) ei
- c) kyllä

166.

- a) 2
- b) $2\sqrt{2}$
- c) $\frac{2}{\sqrt{2}}$

167.

- a) kyllä
- b) kyllä
- c) ei
- d) kyllä

168.

- a) $\frac{6}{\sqrt{3}}$
- b) $\frac{3}{\sqrt{3}}$

169.

- a) 10
- b) 4,5

c) 6,3

170.

- a) 5 cm
- b) 9,2 m
- c) 14,6 cm

171.

- a) 8
- b) 3,6
- c) 11

172.

- a) 3 cm
- b) 7,5 cm
- c) 11 cm

173.

74 mm

174.

140 m

175.

3,6

176.

- a) 4,5
- b) 3,2
- c) 3,2

177.

8,6 km

178.

10,8 m

179.

26 cm

180.

3,6 m

181.

4,5 km

182.

28,0 m

183.

- a) -
- b) 7,7 cm
- c) 26 cm²

184.

- a) -
- b) 5,6 cm
- c) 18 cm²

185.

- a) 2,0 m
- b) 6,0 m
- c) 6,3 m

186.

18 ha

187.

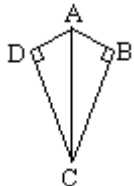
40,5 m²

188.

$$a = \sqrt{c^2 - b^2}, b = \sqrt{c^2 - a^2}$$

189.

Nelikulmio koostuu kahdesta yhtenevästä kolmiosta ABC ja ADC.



Kolmiosta ABC saadaan

$$BC = \sqrt{0,95^2 - 0,50^2} = 0,80777\dots$$

Nelikulmion alaksi tulee tällöin

$$2 \cdot \frac{1}{2} \cdot 0,50 \cdot 0,80777\dots = 0,40388\dots$$

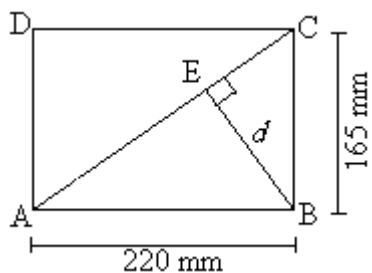
Vastaus: noin 0,40 m²

190.

Oviaukon halkaisija on Pythagoraan lauseen mukaan $d = \sqrt{(80 \text{ cm})^2 + (200 \text{ cm})^2} \approx 215,4 \text{ cm}$.

Koska $d > 210 \text{ cm}$, mahtuu levy oviaukosta.

191.



Pythagoraan lauseen avulla saadaan

$$AC = \sqrt{(220 \text{ mm})^2 + (165 \text{ mm})^2} = 275 \text{ mm} .$$

Kolmioiden ABC ja AEB yhdenmuotoisuuden perusteella voidaan muodostaa verranto

$$\frac{d}{220 \text{ mm}} = \frac{165 \text{ mm}}{275 \text{ mm}}$$

$$d = \frac{220 \text{ mm} \cdot 165 \text{ mm}}{275 \text{ mm}}$$

$$d = 132 \text{ mm}$$

Vastaus: 132 mm

192.

- a) 3,1 cm
- b) 9,4 cm
- c) 16,0 cm
- d) 21,0 cm

193.

- a) 12,6 cm
- b) 25,1 cm
- c) 45,2 cm
- d) 119,4 cm

194.

- a) 38 cm
- b) 50 m
- c) 38 cm

195.

- a) 113 cm²
- b) 201 m²
- c) 113 cm²

196.

- a) 3,1 cm²
- b) 12,6 cm²
- c) 84,9 cm²
- d) 514,7 cm²

197.

- a) 7,2 cm
- b) 4,3 cm²

198.

- a) $7,1 \text{ m}^2$
- b) $201,1 \text{ m}^2$
- c) $506,7 \text{ m}^2$
- d) $34\,636,1 \text{ m}^2$

199.

- a) 1500 cm^2
- b) $1,8 \text{ m}^2$

200.

- a) $0,95 \text{ cm}$
- b) $7,96 \text{ cm}$
- c) $56,0 \text{ cm}$

201.

Ympyrän säteen pituus on tällöin

- a) $0,8 \text{ cm}$
- b) $1,6 \text{ cm}$
- c) $2,4 \text{ cm}$

202.

964 kertaa

203.

- a) $81,7''$ eli $207,5 \text{ cm}$
- b) $88,0''$ eli $223,4 \text{ cm}$

204.

$305,9 \text{ m}^2$

205.

- a) $9,3 \text{ m}$
- b) $5,1 \text{ m}^2$

206.

$2,2 \text{ m}^2$

207.

Säde on $0,47 \text{ cm}$ ja pinta-ala on $0,69 \text{ cm}^2$.

208.

säde [cm]	halkaisija [cm]	kehän pituus [cm]	pinta-ala [cm ²]
11,0	22,0	69,1	380
9,9	19,8	62,2	308
20,4	40,7	128,0	1300
7,9	15,8	49,6	198
21,9	43,8	137,6	1500

209.

noin 150 kierrosta.

210.

Ympyrän säteen pituus on tällöin noin

- a) 1,8 cm
- b) 2,5 cm
- c) 4,0 cm

211.

- a) 12,6 cm²
- b) 23,8 cm²

212.

Säde on noin 4,0 m, halkaisija on noin 8,0 m ja kehän pituus on noin 25,1 m.

213.

$$r^2 = \frac{A}{\pi} = \frac{20 \text{ cm}^2}{3,14} = 6,369426... \text{ cm}^2, \text{ jolloin } r = \sqrt{6,369426... \text{ cm}^2} = 2,523772... \text{ cm} \approx 2,5 \text{ cm}$$

214.

Pisteen A = (-4,8) etäisyys origosta on $\sqrt{16 + 64} = \sqrt{80} < 9$, joten piste on ympyrän sisällä.

215.

31 m

216.

Maapallo: $2\pi r = 2 \cdot 3,14 \cdot 6378 \text{ km} = 40053,84 \text{ km} \approx 40050 \text{ km}$

Kuu: $2\pi r = 2 \cdot 3,14 \cdot 1738 \text{ km} = 10914,64 \text{ km} \approx 10910 \text{ km}$

Aurinko: $2\pi r = 2 \cdot 3,14 \cdot 6,96 \cdot 10^5 \text{ km} = 4370880 \text{ km} \approx 4,37 \cdot 10^6 \text{ km}$

217.

$$\frac{40053,84 \text{ km}}{6 \frac{\text{km}}{\text{h}}} = 6675,64 \text{ h} \approx 9 \text{ kk } 8 \text{ d}$$

218.

Kierroksen pituus on $2 \cdot \pi \cdot (149,597 \cdot 10^9 \text{ m} + 6378000 \text{ m}) \approx 9,399857 \cdot 10^{11} \text{ m}$.

Kierrokseen kuluva aika $t = \frac{s}{v} = \frac{9,399857 \cdot 10^{11} \text{ m}}{29780 \frac{\text{m}}{\text{s}}} \approx 31564330 \text{ s} \approx 365,3 \text{ d}$ eli meidän vuoden

pituus.

219.

Merkitään ympyrärenkaan sisemmän ympyrän sädettä r :llä. Ympyrän kehän pituus on sama kuin vyötärön mitta 60 cm, josta saadaan ratkaistua r .

$$2\pi r = 60 \text{ cm}$$

$$r = \frac{60 \text{ cm}}{2\pi} \approx 9,55 \text{ cm}$$

Ulomman ympyrän säde on $r + 60 \text{ cm} \approx 69,55 \text{ cm}$.

Ympyrärenkaan saa leikatuksi kankaasta, jonka leveys on vähintään sama kuin ulomman ympyrän halkaisija $2 \cdot 69,55 \text{ cm} = 139,1 \text{ cm}$.

Vastaus: Kankaan leveyden pitää olla vähintään 140 cm.

220.

Neliön sisällä olevan ympyrän halkaisija on 15 cm. Samoin ympyrän sisällä olevan neliön hypotenuusa on 15 cm. Olkoon pienemmän neliön sivun pituus a , tällöin Pythagoraan lauseella saadaan:

$$a^2 + a^2 = (15 \text{ cm})^2$$

$$2a^2 = 225 \text{ cm}^2$$

$$a^2 = 112,5 \text{ cm}^2$$

$$a = 10,606601\dots \text{ cm}$$

Pienemmän neliön pinta-ala on tällöin

$$a \cdot a = 10,606601\dots \text{ cm} \cdot 10,606601\dots \text{ cm} = 112,5 \text{ cm}^2 \approx 110 \text{ cm}^2.$$

221.

c

222.

- a) säde
- b) sektorin kaari
- c) sektorin keskuskulma

223.

- a) 180°
- b) 90°
- c) 120°

224.

- a) 75 cm^2
- b) $37,5 \text{ cm}^2$
- c) 50 cm^2

225.

- a) 45°
- b) 0,25 m

226.

sektorin keskuskulma [°]	sektorin kaaren pituus [cm]
360	32
90	8
180	16

45	4
22,5	2

227.

- a) 9,4 m
- b) 2,4 m
- c) 1,6 m
- d) 1,3 m

228.

sektorin keskuskulma [°]	sektorin pinta-ala [cm ²]
360	60
180	30
90	15
36	6
6	1

229.

- a) 17 m²
- b) 13 m²
- c) 4,2 m²
- d) 2,8 m²

230.

- a) 8,7 cm²
- b) 3,5 cm

231.

- a) 6,8 cm
- b) 34 cm²

232.

- a) 3,1 m
- b) 4,7 m²

233.

-

234.

190 km²

235.

- a) 12,9 cm
- b) 7,1 cm
- c) 20,1 cm

236.

- a) piiri: 21 cm, pinta-ala: 100 cm²
- b) piiri: 51 cm, pinta-ala: 160 cm²

237.

26 cm

238.

36 cm²

239.

a) 3,9 cm

b) 15,7 cm

240.

a) 9π

b) 27π

241.

piiri: 80 cm, pinta-ala: 364 cm²

242.

4205 mm

243.

90°

244.

120°

245.

a) Lasketaan aluksi montako astetta ympyrän sektori on, jonka laiva kulkee $100^\circ - 45^\circ = 55^\circ$.

Tällöin sektorin pituus on $\frac{55^\circ}{360^\circ} \cdot 40000 \text{ km} = 6111,111\dots \text{ km} \approx 6100 \text{ km}$.

b) Maapallon säde $R = \frac{40000 \text{ km}}{2\pi} = 6366,197724 \text{ km}$. Maapallon ympärysmitaksi tulee lokin

korkeudella silloin $2\pi(R + 10 \text{ m}) = 40000,06283 \text{ km}$. Lokki kulkee matkan

$\frac{55^\circ}{360^\circ} \cdot (40000,06283 \text{ km}) = 6111,12071 \text{ km}$ eli noin 10 metriä enemmän.

246.

ainoastaan yksi aina

247.

a) jänne

b) kehä

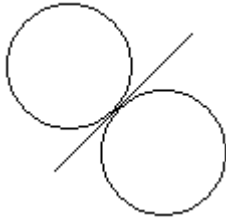
c) tangentti

d) kaari

e) segmentti

f) sektori

248.



249.

-

250.

-

251.

- a) 118°
- b) 88°
- c) 26°

252.

- a) 128°
- b) 151°
- c) 110°

253.

- a) 142°
- b) 72°

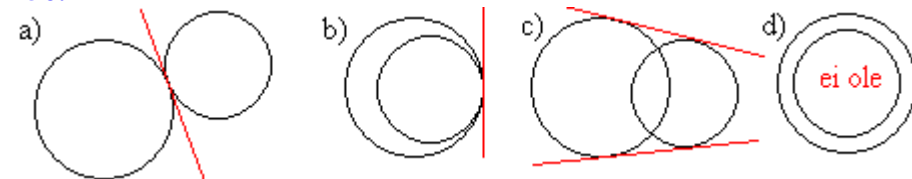
254.

mahdoton

255.

-

256.



257.

30°

258.

266°

259.

$$\frac{\alpha}{360^\circ} 2\pi \cdot 91 = 185 \quad \parallel : \frac{2\pi \cdot 91}{360^\circ}$$

$$\alpha = \frac{185 \cdot 360^\circ}{2\pi \cdot 91}$$

$$\alpha = 113^\circ$$

Jolloin $\beta = 180^\circ - 113^\circ = 67^\circ$.

260.

39 m

261.

123°

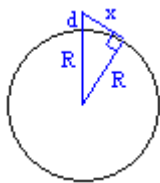
262.

20 cm

263.

13 km

264.



Henkilö voi nähdä sellaiseen pisteeseen saakka, jossa hänen silmistään lähtevä säde sivuaa maapallon pintaa. Merkitään kysyttyä etäisyyttä x :llä, maapallon sädettä R :llä ja silmien korkeutta d :llä. Pythagoraan lauseen avulla saadaan

$$x^2 = (R + d)^2 - R^2 = (6380 + 0,00170)^2 - 6380^2 = 21,692, \text{ jolloin } x \approx 4,66 \text{ km}.$$

265.

Ympyrän säde saadaan ratkaistua kaaren pituuskaavasta.

$$\frac{152^\circ}{360^\circ} 2\pi r = 65 \text{ m} \quad \parallel : \frac{152^\circ}{360^\circ} 2\pi$$

$$r = \frac{65 \text{ m} \cdot 360^\circ}{152^\circ \cdot 2\pi}$$

$$r \approx 24,5 \text{ m}$$

Merkitään pisten P etäisyyttä ympyrän keskipisteestä y :llä, jolloin Pythagoraan avulla saadaan

$$y = \sqrt{(74 \text{ m})^2 + (24,5 \text{ m})^2} \approx 78 \text{ m}.$$

Kysytty etäisyys $x = y - r = 78 \text{ m} - 24,5 \text{ m} \approx 54 \text{ m}$.

266.

Merkitään ympyröiden keskipisteiden kautta kulkevaa hypotenuusaa x :llä. Yhdenmuotoisuuden perusteella voidaan muodostaa verranto:

$$\frac{x}{4,0} = \frac{1,0 + 1,8}{1,0}$$

$$1,0x = 4,0 \cdot 2,8$$

$$x = 11,2$$

Keskimmäisen ympyrän halkaisijan pituus on

$$11,2 \text{ m} - 4,0 \text{ m} - 2 \cdot 1,0 \text{ m} - 1,8 \text{ m} = 3,4 \text{ m}, \text{ jolloin säde on } \frac{3,4 \text{ m}}{2} = 1,7 \text{ m}.$$

267.

- a) ja 4.
- b) ja 5.
- c) 2.

268.

-

269.

ei

270.

$$\alpha = 65^\circ, \beta = 130^\circ$$

271.

- a) 41°
- b) 67°
- c) 34°
- d) 129°

272.

- a) 60°
- b) 150°
- c) 240°
- d) $6x$

273.

-

274.

-

275.

- a) 50°
- b) 45°

276.

- a) 65°
- b) 42°

277.

kyllä

278.

a) $\alpha = 105^\circ, \beta = 60^\circ$

b) $\alpha = 65^\circ, \beta = 130^\circ$

c) $\alpha = 82^\circ, \beta = 105^\circ$

279.

a) 35°

b) 70°

280.

Vähennetään leveysasteen toisistaan

$62^\circ 26' - 60^\circ 9' = 2^\circ 17'$, muutetaan tämä asteiksi $2\frac{17}{60} \approx 2,28333^\circ$. Tätä kulmaa vastaava

ympyrän kaaren pituus on

$$\frac{2,28333^\circ}{360^\circ} \cdot 40000 \text{ km} \approx 250 \text{ km}$$

Vastaus: 250 km

281.

-

282.

a) \cong

b) \sim

283.

a) yhtä suuret

b) verrannollisia keskenään

284.

Kyllä

285.

ABCDE~FGHIJ, AB ja FG, BC ja GH, CD ja HI, DE ja IJ, AE ja FJ, α ja γ

286.

$$x = 8\frac{1}{3}$$

287.

a) 1 : 150 000

b) 1 : 200

c) 400 : 1

d) 1 : 1

288.

- a) 200 : 1
- b) 1 : 100

289.

-

290.

etäisyys kartalla	etäisyys luonnossa
2 cm	400 m
5 cm	1 km
9 cm	1,8 km
15 cm	3 km
210 cm	42 km

291.

1 : 1

292.

1 : 50 000

293.

23 cm

294.

0,34 km

295.

-

296.

Muodostunut kolmio on yhdenmuotoinen alkuperäisen kolmion kanssa.

297.

-

298.

Suoran suhteen symmetriseksi, symmetria-akseliksi

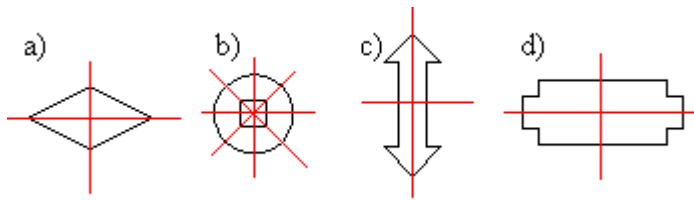
299.

- a) tasakylkinen kolmio
- b) suorakulmio

300.

-

301.



302.

Kuvio peilataan keskipisteessä sijaitsevan symmetriakeskuksen suhteen.

303.

-

304.

ei

305.

Peilaus suoran suhteen, peilaus pisteen suhteen, siirto ja kierto.

306.

-

307.

- a) 2
- b) 3
- c) 5
- d) 10
- e) 100
- f) ei ole määritelty
- g) -6

308.

- a) 1,414
- b) 2,828
- c) 18,303
- d) 67,543

309.

- a) 4
- b) 7
- c) 144
- d) 0,4
- e) 10 000

310.

Neliön sivun pituus on tällöin

- a) 3 ruudun sivua
- b) 5 ruudun sivua
- c) 3 cm

311.

89,4 m

312.

- a) 8 cm
- b) 76 cm
- c) 10,5 cm

313.

- c) $x = 1$
- d) $x = -1$

314.

- a) 12 mm
- b) 43 mm
- c) 53 vuotta

315.

- a) 2,0 s
- b) 4,5 s
- c) 6,3 s

316.

-

317.

- a) ei
- b) kyllä
- c) kyllä

318.

- a) $5^2 = 4^2 + 3^2$
- b) $25^2 = 15^2 + m^2$
- c) $y^2 = x^2 + z^2$

319.

23 cm²

320.

voi

321.

- a) 9,4
- b) 7,6
- c) 4,4

322.

- a) 5,7 cm
- b) 19,1 cm
- c) 30,2 cm

323.

- a) 4,2 cm
- b) 15 cm
- c) 17 cm

324.

- a) 3,7
- b) 4,9
- c) 5,3

325.

- a) 7,6 m
- b) 3,3 m²

326.

26 cm

327.

8,8 m

328.

- a) 37,7 cm
- b) 113 cm²

329.

10,2 cm

330.

13 000 km

331.

noin 290 000 kertaa

332.

- a) 178 km
- c) 200 km

333.

ei

334.

Nosturin saavuttama ala koostuu suorakulmiosta, jonka ala on $30 \text{ m} \cdot 40 \text{ m} = 1200 \text{ m}^2$, sekä kahdesta puoliympyrästä, joiden säde on 20 m ja alojen summa

$$\frac{1}{2} \cdot \pi \cdot (20 \text{ m})^2 + \frac{1}{2} \cdot \pi \cdot (20 \text{ m})^2 \approx 1260 \text{ m}^2. \text{ Alueen kokonaisala on } 2460 \text{ m}^2.$$

335.

Pienemmän ympyrän sivuamispisteen kulkema matka saavuttaessa pisteeseen A on

$$\frac{3}{4} \cdot 2 \cdot \pi \cdot 2r = 3\pi r$$

Pienemmän ympyrän kierrosten lukumäärä olkoon x , tällöin

$$x \cdot 2\pi r = 3\pi r$$

$$x = \frac{3\pi r}{2\pi r} = 1,5$$

Kun pienempi ympyrä on pyörähtänyt 1,5 kierrosta, osuu piste D pisteeseen A.

336.

- a) 36 cm
- b) 18 cm
- c) 124 cm

337.

- a) $9\pi \text{ cm}^2$
- b) $4,5\pi \text{ cm}^2$
- c) $6\pi \text{ cm}^2$

338.

- a) $b = \frac{\alpha}{360^\circ} \cdot 2\pi r$
- b) $A = \frac{\alpha}{360^\circ} \cdot \pi r^2$

339.

- a) 5,9 cm
- b) 8,0 cm
- c) 10 cm

340.

- a) $7,4 \text{ cm}^2$
- b) $18,5 \text{ cm}^2$
- c) $46,9 \text{ cm}^2$

341.

- a) 3,5 cm
- b) 12 cm^2

342.

- a) 11 m
- b) 49 m^2

343.

- a) 180°
- b) 90°
- c) 30°

344.

4010 mm

345.

-

346.

- a) 114°
- b) 122°
- c) 46°

347.

- a) 126°
- b) 160°
- c) 101°

348.

-

349.

96°

350.

97°

351.

11 km

352.

- a) 40°
- b) 61°
- c) 39°
- d) $2x^\circ$

353.

- a) 50°
- b) 140°
- c) 200°
- d) $4x$

354.

-

355.

- a) 52°
- b) 69°

Taulukko-osio

Reaalilukujen laskulait

$$a + b = b + a, ab = ba$$

vaihdantalaki

$$a + (b + c) = (a + b) + c, a(bc) = (ab)c$$

liitântälaki

$$a(b + c) = ab + ac$$

osittelulaki

$$a + (-a) = 0$$

luvun a vastaluku $-a$

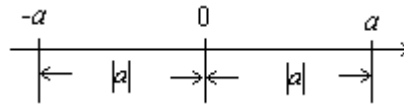
$$a \cdot \frac{1}{a} = 1$$

luvun a käänteisluku $\frac{1}{a}$ ($a \neq 0$)

$$|a|$$

itseisarvo

Graafinen tulkinta: $|a|$ = luvun a vastinpisteiden etäisyys nolasta



Murtolukujen laskutoimitukset

$$\frac{a}{b} = \frac{ka}{kb}, \text{ missä } k \neq 0$$

laventaminen (\rightarrow) ja supistaminen (\leftarrow)

$$\frac{a}{b} + \frac{c}{d} = \frac{ad + bc}{bd}$$

yhteenlasku (lavennus samannimisiksi)

$$\frac{a}{b} - \frac{c}{d} = \frac{ad - bc}{bd}$$

vähennyslasku (lavennus samannimisiksi)

$$\frac{a}{b} \cdot \frac{c}{d} = \frac{ac}{bd}$$

kertolasku

$$\frac{a}{b} : \frac{c}{d} = \frac{ad}{bc}$$

jakolasku

Potenssi

$$a^n = a \cdot a \cdot \dots \cdot a$$

n tekijää, a = kantaluku, n = eksponentti

$$a^0 = 1$$

$a \neq 0$, 0^0 ei ole määritelty

$$a^{-p} = \frac{1}{a^p}$$

$a \neq 0$

$$\left(\frac{a}{b}\right)^{-p} = \left(\frac{b}{a}\right)^p$$

$a \neq 0$

Laskusääntöjä

$a^m a^n = a^{m+n}$	samankantaisten potenssien tulo
$\frac{a^m}{a^n} = a^{m-n}$	samankantaisten potenssien osamäärä
$(ab)^n = a^n b^n$	tulon potenssi
$\left(\frac{a}{b}\right)^n = \frac{a^n}{b^n}$	osamäärän potenssi
$(a^m)^n = a^{mn} = (a^n)^m$	potenssin potenssi

Polynomin jakaminen tekijöihin

$ab + ac = a(b + c)$	yhteinen tekijä
$ac + ad + bc + bd = a(c + d) + b(c + d) = (a + b)(c + d)$	ryhmittely
$a^2 + 2ab + b^2 = (a + b)^2$	muistikaavat
$a^2 - 2ab + b^2 = (a - b)^2$	
$a^2 - b^2 = (a - b)(a + b)$	

Neliöjuuri

Jos $\sqrt{a} = b$, niin $b^2 = a$ ja $b \geq 0$ (pätee myös toisinpäin).

Laskusääntöjä

$$\begin{aligned}(\sqrt{a})^2 &= a \\ \sqrt{a^2} &= |a| \\ \sqrt{\frac{a}{b}} &= \frac{\sqrt{a}}{\sqrt{b}} \\ \sqrt{ab} &= \sqrt{a}\sqrt{b}\end{aligned}$$

Lukujonot

Aritmeettinen lukujono

$$\begin{aligned}d &= a_2 - a_1 && \text{erotusluku} \\ a_n &= a_1 + (n-1)d && \text{yleinen termi}\end{aligned}$$

Geometrinen lukujono

$$q = \frac{a_2}{a_1} \quad \text{suhdeluku}$$

$$a_n = a_1 q^{n-1} \quad \text{yleinen termi}$$

Toisen asteen yhtälö

Normaalimuoto $ax^2 + bx + c = 0, \quad a \neq 1$

Ratkaisukaava: $x = \frac{-b \pm \sqrt{b^2 - 4ac}}{2a}$

Paraabelin aukamissuunta ja muoto:

- Jos $a > 0$, paraabeli aukeaa ylöspäin.
- Jos $a < 0$, paraabeli aukeaa alaspäin.
- Jos $|a|$ on pieni, paraabeli on leveä.
- Jos $|a|$ on suuri, paraabeli on kapea.

Vaillinaiset toisen asteen yhtälöt

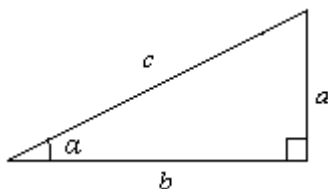
Yhtälön $ax^2 + c = 0$ ratkaisujen määrä riippuu vakiosta c :

- $c < 0$: kaksi ratkaisua, ratkaisut toistensa vastalukuja
- $c = 0$: ainoa ratkaisu $x = 0$
- $c > 0$: ei ratkaisua

Yhtälön $ax^2 + bx = 0$ ratkaisut:

- aina kaksi ratkaisua, toinen on aina $x = 0$
-

Suorakulmaisen kolmion trigonometria



$$a^2 + b^2 = c^2 \quad (\text{Pythagoraan lause})$$

$$A = \frac{1}{2} ab$$

Trigonometriset funktiot

$$\sin \alpha = \frac{a}{c}, \quad \cos \alpha = \frac{b}{c}, \quad \tan \alpha = \frac{a}{b}$$

Suora

Pisteiden (x_1, y_1) ja (x_2, y_2) kautta kulkevan suoran kulmakerroin:

$$k = \tan \alpha = \frac{y_2 - y_1}{x_2 - x_1}$$

Suora on

- nouseva, jos $k > 0$
- laskeva, jos $k < 0$
- x -akselin suuntainen, jos $k = 0$
- y -akselin suuntainen, jos k :ta ei voida määrittää.

Tarkastellaan suoria s_1 ja s_2 , joiden kulmakertoimet ovat k_1 ja k_2 .

- Suorat ovat yhdensuuntaiset eli $s_1 \parallel s_2$, jos $k_1 = k_2$ tai suorat ovat y -akselin suuntaiset.
- Suorat ovat kohtisuorassa toisiaan vastaan eli $s_1 \perp s_2$, jos $k_1 \cdot k_2 = -1$ tai toinen suora on x -akselin ja toinen y -akselin suuntainen.

Suoran yhtälön yleinen muoto:

$$ax + by + c = 0$$

Suoran yhtälön ratkaistu muoto:

$y = kx + b$, missä k on kulmakerroin ja b vakiotermin (suoran ja y -akselin leikkauspisteen y -koordinaatti).

x -akselin suuntaisen suoran yhtälö:

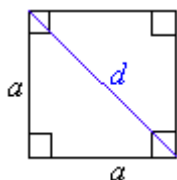
$y = t$, missä t on suoran ja y -akselin leikkauspisteen y -koordinaatti

y -akselin suuntaisen suoran yhtälö:

$x = u$, missä u on suoran ja x -akselin leikkauspisteen x -koordinaatti

Tasokuvioita

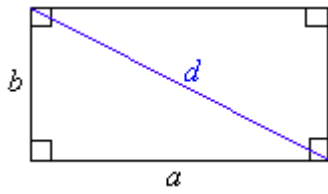
Neliö



$$A = a^2$$

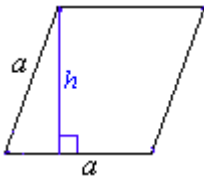
$$d = \sqrt{2}a$$

Suorakulmio



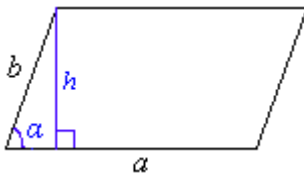
$$A = ab$$
$$d = \sqrt{a^2 + b^2}$$

Neljäkäs



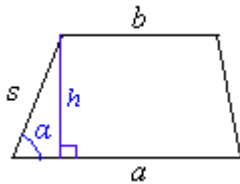
$$A = ah$$

Suunnikas



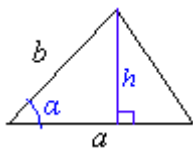
$$A = ah = absin\alpha$$

Puolisuunnikas



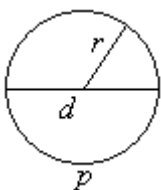
$$A = \frac{1}{2}(a+b)h = \frac{1}{2}(a+b)s \sin\alpha$$

Kolmio



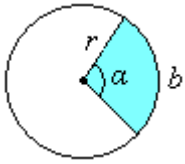
$$A = \frac{1}{2}ah = \frac{1}{2}ab \sin\alpha$$

Ympyrä



$$A = \pi r^2 = \frac{1}{4}\pi d^2$$
$$p = 2\pi r = \pi d$$

Sektorit

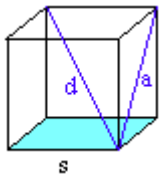


$$b = \frac{\alpha}{360^\circ} 2\pi r \text{ (kaaren pituus)}$$

$$A = \frac{\alpha}{360^\circ} \pi r^2 = \frac{br}{2}$$

Avaruuskappaleita

Kuutio

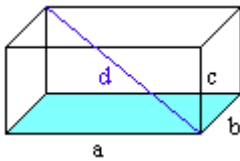


$$a = s\sqrt{2}, d = s\sqrt{3}$$

$$A = 6s^2$$

$$V = s^3$$

Suorakulmainen särmiö

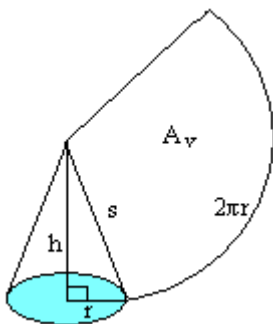


$$d = \sqrt{a^2 + b^2 + c^2}$$

$$A = 2(ab + ac + bc)$$

$$V = abc$$

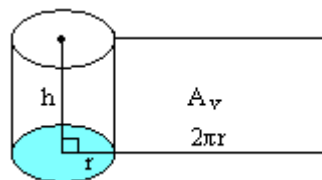
Suora ympyräkartioiden



$$A_v = \pi r s$$

$$V = \frac{1}{3} \pi r^2 h$$

Suora ympyrälieriö

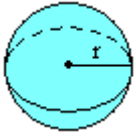


$$A_v = 2\pi r h$$

$$A_{\text{kok}} = A_v + 2\pi r^2 = 2\pi r(r + h)$$

$$V = \pi r^2 h$$

Pallo



$$A = 4\pi r^2$$

$$V = \frac{4}{3}\pi r^3$$

π :n likiarvo 500 ensimmäisen desimaalin tarkkuudella

3,	14159	26535	89793	23846	26433	83279	50288	41971	69399	37510
	58209	74944	59230	78164	06286	20899	86280	34825	34211	70679
	82148	08651	32823	06647	09384	46095	50582	23172	53594	08128
	48111	74502	84102	70193	85211	05559	64462	29489	54930	38196
	44288	10975	66593	34461	28475	64823	37867	83165	27120	19091
	45648	56692	34603	48610	45432	66482	13393	60726	02491	41273
	72456	70066	06315	58817	48815	20920	96282	92540	91715	36436
	78925	90360	01133	05305	48820	46652	13841	46951	94151	16094
	33057	27036	57595	91953	09218	61173	81932	61179	31051	18548
	07446	23799	62749	56735	188857	52724	89122	79381	83011	94912

Tilastomatematiikka

Keskilukuja

keskiarvo
$$\bar{x} = \frac{x_1 + x_2 + x_3 + \dots + x_n}{n}$$

painotettu keskiarvo
$$\bar{x} = \frac{q_1 x_1 + q_2 x_2 + \dots + q_n x_n}{q_1 + q_2 + \dots + q_n}$$
, missä q_1, q_2, \dots, q_n ovat painokertoimia

Moodi eli tyyppiarvo tarkoittaa yleisintä, useimmin esiintyvää muuttujan arvoa.

Mediaani tarkoittaa keskimmäistä arvoa (tai kahden keskimmäisen arvon keskiarvoa), kun aineisto on järjestetty suuruusjärjestykseen.

Hajontalukuja

Keskihajonta ilmoittaa, kuinka kaukana muuttujan arvot ovat keskimäärin keskiarvosta.

Vaihteluväli kertoo millä välillä havainnot vaihtelevat.

Vaihteluvälin pituus on muuttujan suurimman ja pienimmän arvon erotus.

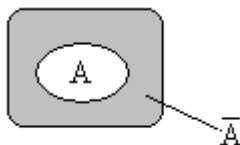
Todennäköisyyslaskenta

Klassinen todennäköisyys

$$P(A) = \frac{\text{suotuisten tapausten lukumäärä}}{\text{kaikkien tapausten lukumäärä}}$$

Vastatapahtuman todennäköisyys

$$P(\bar{A}) = P(A \text{ ei tapahdu}) = 1 - P(A)$$



Yhteenlaskusääntö

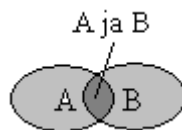
Kun A ja B erillisiä tapauksia

$$P(A \text{ tai } B) = P(A) + P(B)$$



Kun A ja B eivät ole erillisiä

$$P(A \text{ tai } B) = P(A) + P(B) - P(A \text{ ja } B)$$



Kertolaskusääntö

Kun A ja B ovat riippumattomia

$$P(A \text{ ja } B) = P(A) \cdot P(B)$$

Kun A ja B ovat riippuvia (yleinen kertosääntö)
 $P(\text{ensin } A \text{ ja sitten } B) = P(A) \cdot P(B, \text{ kun } A \text{ on tapahtunut})$

SI-järjestelmä

Kerrannaisyksiköiden etuliitteet					
Nimi	Tunnus	Kerroin	Nimi	Tunnus	Kerroin
eksa	E	10^{18}	desi	d	10^{-1}
peta	P	10^{15}	sentti	c	10^{-2}
tera	T	10^{12}	milli	m	10^{-3}
giga	G	10^9	mikro	μ	10^{-6}
mega	M	10^6	nano	n	10^{-9}
kilo	k	10^3	piko	p	10^{-12}
hecto	h	10^2	femto	f	10^{-15}
deka	da	10^1	atto	a	10^{-18}

Lisäyksiköitä			
Suure	Yksikkö	Tunnus	Vastaavuus
aika	minuutti	min	1 min = 60 s
	tunti	h	1 h = 60 min
	vuorokausi	d	1 d = 24 h
	vuosi	a	1 a \approx 365 d
tasokulma	aste	°	1° = 60'
	minuutti	'	1' = 60"
	sekunti	"	
tilavuus	litra	l	1 l = 1 dm ³
massa	tonni	t	1 t = 1000 kg
	atomimassayksikkö	u	1 u = 1,6605402 · 10 ⁻²⁷ kg
pituus	tähtitieteellinen yksikkö	AU	1 AU = 0,1495979 · 10 ¹² m
	parsek	pc	1 pc = 30,85678 · 10 ¹⁵ m

Muuntokertoimia	
Pituus	1" = 1 in = 1 tuuma = 25,40 mm
	1' = 1 ft = 1 jalka = 0,3048 m
	1 yd = 1 jaardi = 0,9144 m
	1 mi = 1 maili = 1,609344 km
	1 mpk = 1 M = 1 meripeninkulma = 1852 m
	1 vv = 1 valovuosi = 9,46055 · 10 ¹⁵ m
	1 AU = tähtitieteellinen yksikkö = 149,5979 · 10 ⁹ m
Massa	1 ka = 1 karaatti = 0,2 g
	1 u = 1,6605402 · 10 ⁻²⁷ kg
	1 lb = 1 naula = 0,4536 kg
	1 oz = 1 unssi = 28,35 g
Tasokulma	1° = 2π/360 rad
Pinta-ala	1 b = 1 barn = 10 ⁻²⁸ m ²
	1 acre = 1 eekkeri = 4,0469 · 10 ³ m ²
Tilavuus	1 l = 1 dm ³ = 0,001 m ³
	1 bbl = 1 barreli = 0,1589873 m ³
	1 gal = 1 gallona (UK) = 4,546092 l
	1 gal = 1 gallona (US) = 3,785412 l
Nopeus	1 solmu = 1 mpk/h = 1,852 km/h = 0,5144 m/s

Luonnonvakioita		
Nimi	Tunnus	Lukuarvo ja yksikkö
putoamiskiihtyvyys	<i>g</i>	9,80665 m/s ²
valon nopeus	<i>c</i>	2,99792458 · 10 ⁸ m/s
elektronin massa	<i>m_e</i>	9,1093897 · 10 ⁻³¹ kg
protonin massa	<i>m_p</i>	1,6726231 · 10 ⁻²⁷ kg
neutronin massa	<i>m_n</i>	1,6749286 · 10 ⁻²⁷ kg